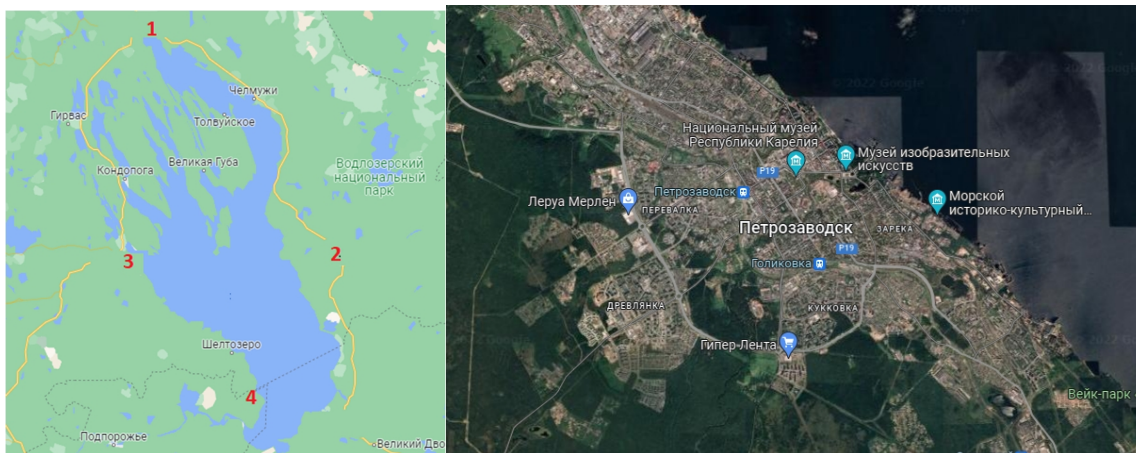


БЛОК 1. ФИЗИЧЕСКАЯ ГЕОГРАФИЯ (40 баллов)

1. Какому месту, обозначенному цифрой на карте, соответствует снимок?
Укажите также название озера. *Ответ запишите. (до 2 баллов)*



Ваш ответ: _____

2. В гирканской флоре отсутствуют растения. *Подчеркните отсутствующие растения. (до 1 балла)*

- | | |
|------------------|---------|
| 1) клен; | 4) тис; |
| 2) можжевельник; | 5) ель; |
| 3) сосна; | 6) дуб. |

3. Сопоставьте водохранилища Беларуси с площадью и рекой, на которой они расположены. *Заполните таблицу. (до 4 баллов)*

Водохранилища: Локтыши, Солигорское, Осиповичское, Чигиринское
Реки: Свислочь, Друть, Случь, Лань

| Название водохранилища | Площадь, км ² | Река |
|------------------------|--------------------------|------|
| | 23,1 | |
| | 21,2 | |
| | 15,9 | |
| | 11,9 | |

4. Дополните пропуски. (до 3 баллов)

- А) Горы Эльбурс образовались в _____ складчатость.
Б) Полюс холода находится на станции _____ в Антарктиде.
В) По величине слоя речного стока Южная Америка занимает _____ место в мире.

5. На фотографиях представлены карстовые формы рельефа.

- 5.1. Подпишите карстовые формы рельефа: сталактиты, поноры, сталагмиты, карры. (до 2 баллов)**



- 5.2. Распределите породы в группы: гипс, известняк, каменная соль, ангидрит, мел, калийная соль. (до 3 баллов)**

Галлоидные _____

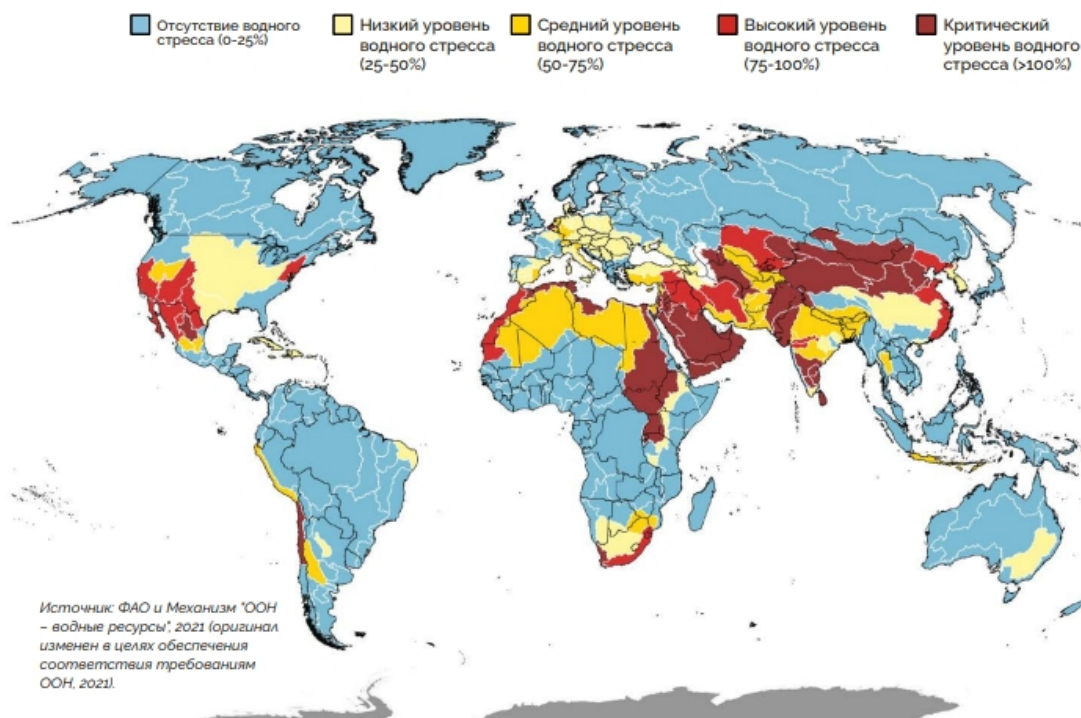
Сульфатные _____

Карбонатные _____

5.3. Отметьте верные (+) и неверные (-) утверждения. (до 2 баллов)

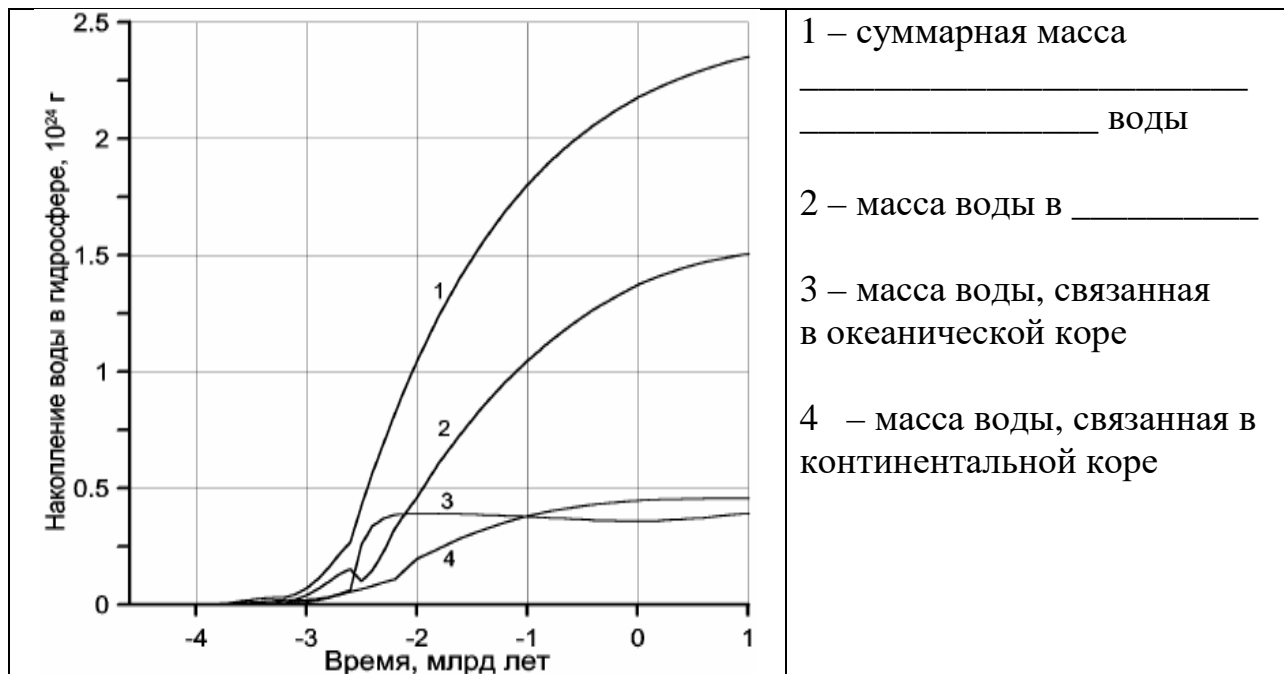
| Утверждение | Значение |
|--|----------|
| Главное условие растворимости известняка - достаточное количество растворенного CO ₂ в воде | |
| На горизонтальных и пологонаклонных поверхностях карстовые образования возникают быстрее и представлены разнообразнее, чем на крутых склонах | |
| Чем чище и мощнее толща известняков, тем менее интенсивнее они подвержены карстообразованию | |
| Наиболее распространен в мире гипсовый карст | |

6. Рассмотрите карту «Уровни водного стресса» (2018 год). Уровень водного стресса определяется как отношение общего объема пресной воды, забираемой всеми основными секторами (сельским хозяйством, промышленностью и муниципальными службами), к общему объему возобновляемых ресурсов пресной воды. Почему высокий уровень водного стресса отмечается именно в обозначенных регионах? (до 3 баллов)



Ваш ответ: _____

7. Заполните пропуски в условных обозначениях для графиков, отражающий накопление воды в гидросфере. Объясните, что такое ювенильные воды. (до 3 баллов)



Ваш ответ: _____

8. Укажите фазы Луны, в которые отмечаются приливные волны наибольшей высоты. Правильный ответ подчеркните. Опишите влияние приливов на природные процессы на Земле. (до 3 баллов)

А) первая четверть; Б) третья четверть; В) полнолуние; Г) новолуние

Ваш ответ: _____

9. В соответствии с образом жизни обитателей океана делят на три группы. Соотнесите характеристики групп и их названия. Назовите океан, дающий основной объём объём продукции морского рыболовства. (до 2 баллов)

1) планктон; 2) нектон; 3) бентос.

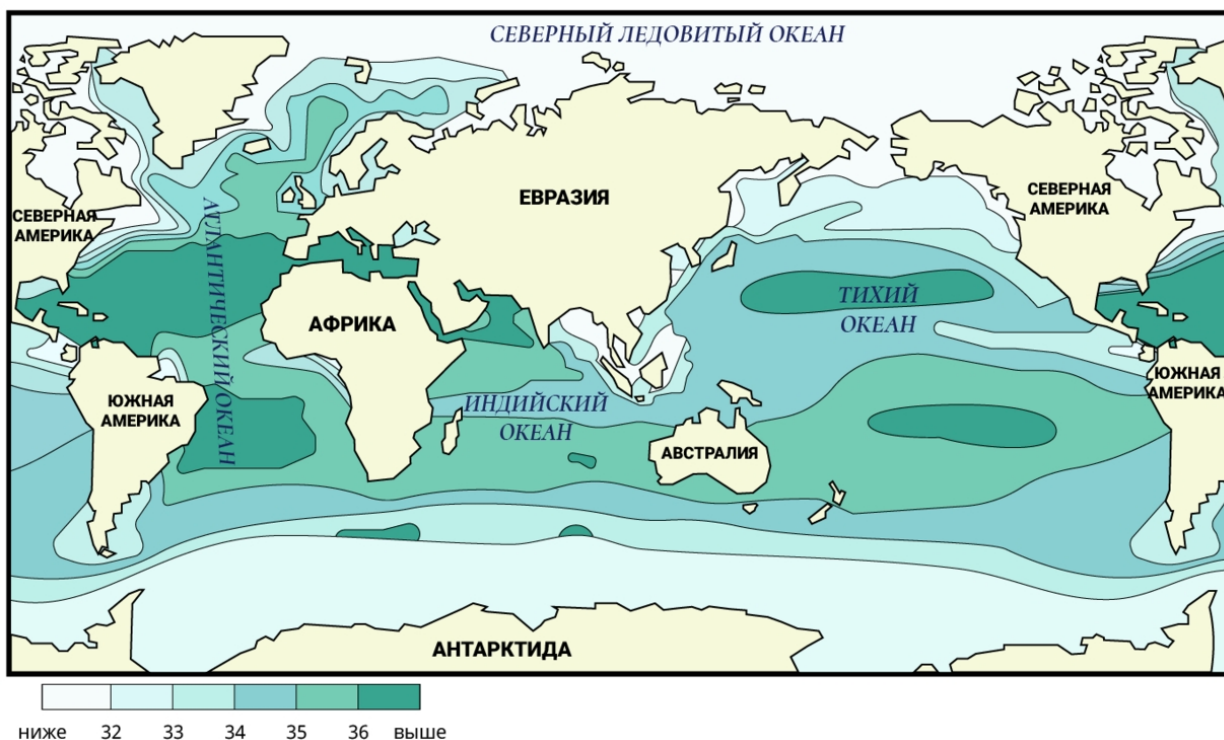
А) группа организмов, которые живут в толще воды и имеют автономное движение;

Б) совокупность пелагических организмов, не обладающих способностью к быстрым и активным передвижениям, пассивно переносимых течением;

В) совокупность организмов, обитающих на грунте и в грунте дна водоёмов

Ваш ответ: _____

10. Назовите характеристику, распределение которой показано на карте, а также единицы, в которых она измеряется. Перечислите причины, вызывающие повышение и снижение величины данной характеристики. Назовите море с наибольшим её значением и океан, в пределах которого расположено это море. Укажите виды объектов вод суши, в которых величина этой характеристики может быть выше, чем в Мировом океане (до 4 баллов)



Характеристика: _____

Единицы измерения: _____

Причины повышения: _____

Причины снижения: _____

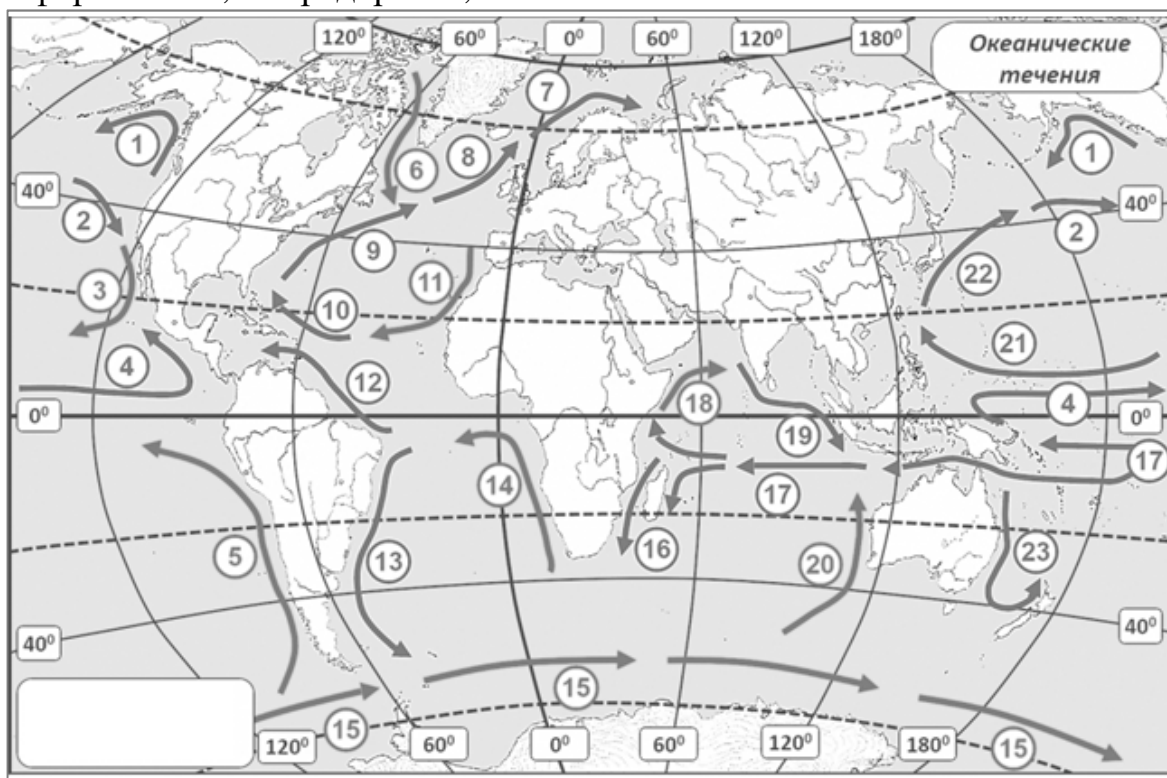
Море: _____

Океан: _____

Виды объектов: _____

11. На карте приведена схема течений Мирового океана. Изобразите стрелкой с цифрой 24 недостающее на карте течение, название которого применяется для обозначения природного явления в океане и включено в приведённый ниже перечень океанических течений. Распределите обозначенные ниже океанические течения по температурным градациям. После каждого из названий запишите цифру, соответствующую положению течения на карте. (до 4 баллов)

Океанические течения: Аляскинское, Бенгельское, Бразильское, Гольфстрим, Калифорнийское, Лабрадорское, Эль-Ниньо.



Тёплые океанические течения: _____

Холодные океанические течения: _____

БЛОК 2. СОЦИАЛЬНО-ЭКОНОМИЧЕСКАЯ ГЕОГРАФИЯ (40 баллов)

1. Выберите из предложенных вариантов ведущую итальянскую компанию в области автомобилестроения. Подчеркните правильный ответ. (до 1 балла)

- A. Chevrolet
B. Renault

- Б. Fiat
Г. Seat

2. По запасам какого полезного ископаемого Польша входит в число мировых лидеров? Подчеркните правильный ответ. (до 1 балла)

- A. Бокситы
B. Сера

- Б. Графит
Г. Урановые руды

3. Соотнесите автономные сообщества Испании с их административным центром. (до 2 баллов)

| Автономное сообщество | | Административный центр | |
|-----------------------|-------------|------------------------|------------------------|
| 1 | Андалусия | А | Мерида |
| 2 | Галисия | Б | Севилья |
| 3 | Каталония | В | Сантьяго-де-Компостела |
| 4 | Эстремадура | Г | Барселона |

Ваш ответ: _____

4. Узнайте термин по следующему описанию: «Политико-территориальное образование, которое, обладая, основными признаками государства, лишено международного признания, вследствие чего не обладает суверенитетом». (до 2 баллов)

Ваш ответ: _____

5. Сформулируйте определение понятия «Миграционный коридор» и приведите примеры. (до 3 баллов)

Ваш ответ: _____

6. Определите по логотипам предприятий белорусские города, где они расположены, и укажите выпускаемую ими продукцию, заполнив соответствующие пустые ячейки в таблице. (до 3 баллов)

| Предприятие | Город | Производимая продукция |
|---|-------|------------------------|
|  | | |
|  | | |
|  | | |

7. Проанализируйте приведенные ниже утверждения, характеризующие сельское хозяйство различных стран мира. Отметьте в таблице правильные утверждения знаком плюса «+». (до 4 баллов)

| Утверждения | Значение |
|---|----------|
| В структуре сельского хозяйства большинства развивающихся стран преобладает интенсивное животноводство. | |
| По валовому сбору кукурузы в тройку мировых лидеров входят США, Китай и Бразилия. | |
| Шри-Ланка входит в число мировых лидеров по производству кофе. | |
| Из-за холодного климата в Канаде не выращивают табак и отсутствует виноделие. | |
| Важнейшие технические культуры в структуре растениеводства Италии – сахарный тростник и хлопчатник. | |
| Польша входит в число мировых лидеров по экспорту яблок и яблочных консервов. | |
| Тройка мировых лидеров по поголовью свиней представлена Германией, Индией и Мексикой. | |
| Рис занимает первое место среди зерновых культур по валовому сбору в мире. | |
| Испания входит в тройку мировых лидеров по выращиванию и производству оливок. | |
| Помело, клементин и лайм не относятся к цитрусовым культурам. | |
| Узбекистан – мировой лидер по выращиванию льна-долгунца. | |
| Ведущими мировыми экспортерами баранины являются Австралия, Новая Зеландия и Великобритания. | |

9. В какой из областей Беларуси самая высокая в стране доля городского населения? Запишите область и долю городского населения. (до 2 баллов)

Ваш ответ: _____

10. Какую долю в структуре ВВП Республики Беларусь занимают транспорт и сельское хозяйство? (2020 г.) Дополните фразы, вписав правильные доли. (до 2 баллов)

А) В структуре ВВП Беларуси доля транспорта составляет ___ %

Б) В структуре ВВП Беларуси доля сельского хозяйства составляет ___ %

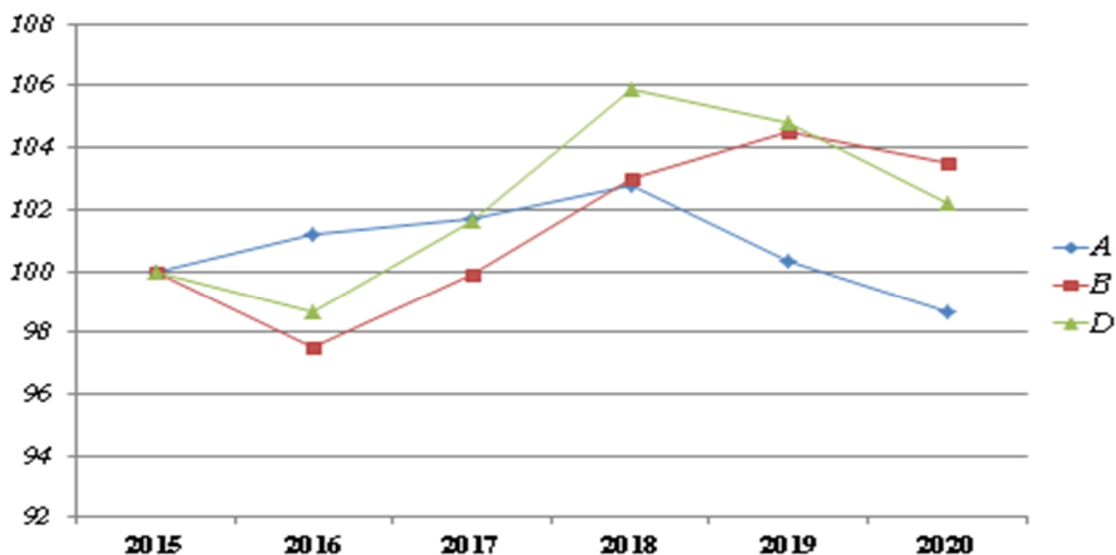
11. Заполните таблицу «Экономический потенциал областей Республики Беларусь». В пустые строки впишите название соответствующей области. (до 3 баллов)

| Область | Экономический потенциал области |
|---------|--|
| | Удельный вес ВРП области в формировании ВВП страны составляет 10,3 %. Характеризуется высокой урожайностью сельскохозяйственных культур, является ведущей в стране по производству мяса и колбасных изделий аммиака, кордных тканей, литого стекла, чулочно-носочных изделий. |
| | Характеризуется самой высокой долей промышленности в ВРП. На долю промышленного производства приходится 21,1 % республиканского объема производимой продукции. Является ведущей по производству черепицы, самосвалов, легковых автомобилей, макаронных изделий, сахара, кожевенных товаров, трикотажных изделий. |
| | Удельный вес ВРП области в формировании ВВП страны составляет 8,7 %. На долю сельского хозяйства приходится 11,6 % республиканского объема производимой продукции. Выделяется по производству электроэнергии. Область специализируется на мясо-молочном скотоводстве, свиноводстве, кормопроизводстве в сочетании с зерновым хозяйством и развитием льноводства. |

12. Дайте определения следующих терминов и понятий. (до 3 баллов)

| | |
|---------------------------|--|
| Курорт | |
| Культурно-туристская зона | |
| Культурно-туристская зона | |

13. На рисунке отображены динамика валового потребления топливно-энергетических ресурсов, динамика валового внутреннего продукта и динамика энергоёмкости ВВП. Определите, какой из графиков отображает динамику энергоёмкости ВВП. Ответ запишите в виде буквы соответствующего графика. (до 3 баллов)



Динамика энергоёмкости валового внутреннего продукта
Республики Беларусь, в % к 2015 году

Ваш ответ: _____

14. В таблице приведены отдельные специализированные учреждения ООН. Расшифруйте их аббревиатуру, указав полное название на русском языке. Назовите цели (миссии), декларируемые представленными организациями. (до 4 баллов)

| Аббревиатура | Полное название | Цели (миссии) |
|--------------|-----------------|---------------|
| ЮНЕСКО | | |
| ЮНВТО | | |
| ФАО | | |
| ЮНИДО | | |

15. Выберите ВЕРНЫЕ утверждения. Подчеркните верные утверждения. (до 3 баллов)

- 1) Крупнейшим портом мира по перевалке контейнеров является Сингапур;
- 2) В настоящее время Европейский макрорегион не является лидером по международным туристским прибытиям;
- 3) Бразилия входит в десятку стран мира по общему объёму ВВП по паритету покупательной способности;
- 4) США входит в десятку стран мира по объёму ВВП на душу населения;
- 5) В настоящее время в Атлантическом океане вылавливают около 25 % объёма мировых уловов рыбы, ракообразных и моллюсков;
- 6) В структуре экспорта Республики Беларусь наибольшую долю занимают Минская и Брестская области;
- 7) Австралия является лидером по добыче железной руды в мире;
- 8) КНР является лидером по производству легковых автомобиле в мире;
- 9) Мировым лидером по производству аквакультуры является КНР;
- 10) Крупнейшей приливной электростанцией (ПЭС) в мире является ПЭС «Сихва» в Южной Корее.