

**БЛОК 1. РЕКИ (20 баллов)**

**1. Какой показатель отражает данная группировка рек мира? (до 1 балла)**

Амазонка	467 078
Ганг-Брахмапутра	105 641
Меконг	93 781
Янцзы	66 669
Лена	43 563
Хуанхэ	36 272
Инд	29 524
Миссисипи	28 568
Волга	27 224
Ориноко	20 642
Иравади	20 571
Нигер	19 135
Шатт-эль-Араб (Тигр и Евфрат)	18 497
Грихальва	17 028
По	13 398
Нил	12 512
Хонгха	11 908
Чаупхрая	11 329

*Ваш ответ:*

---

---

**2. Дайте определение понятия «Уклон реки». В каких единицах он измеряется? (до 2 баллов)**

*Ваш ответ:*

---

---

---

---

---

**3. Сопоставьте, в каких странах расположены крупнейшие водохранилища мира по объёму водной массы? (до 3 баллов)**

- А) Канада; Б) Россия; В) Венесуэла; Г) Гана;  
Д) Египет/Судан; Е) Зимбабве/Замбия



1) Кариба (180 км<sup>3</sup>)



2) Братское (169 км<sup>3</sup>)



3) Насер (157 км<sup>3</sup>)



4) Вольта (148 км<sup>3</sup>)



5) Маникуаган (142 км<sup>3</sup>)



6) Гури (138 км<sup>3</sup>)

*Ваш ответ:*

---

---

**4. К бассейнам каких главных рек, представленных на рисунке, относятся следующие озера? (до 4 баллов)**

1) Байкал; 2) Танганьика; 3) Ньяса; 4) Верхнее



Ваш ответ:

---

---

---

---

---

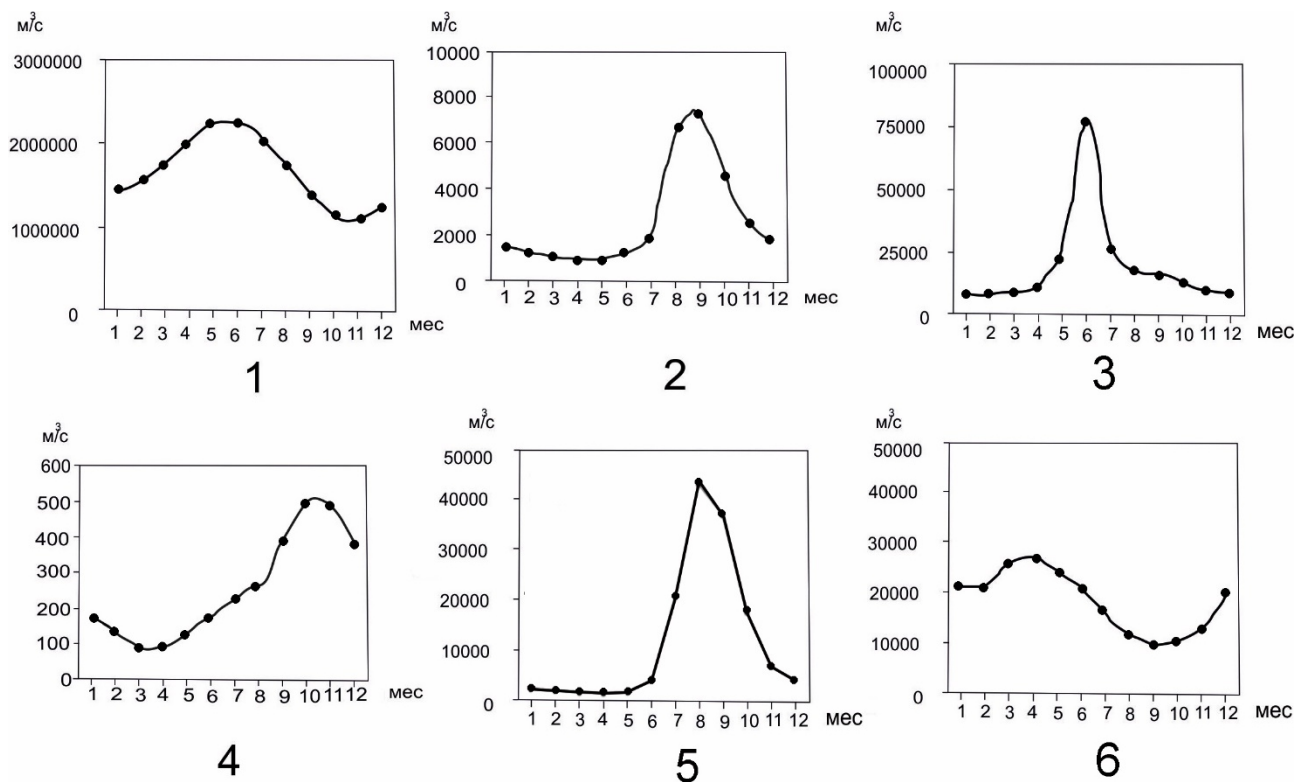
---

---

---

**5. Сопоставьте крупные реки мира с их графиками стока нижних участков течения. (до 6 баллов)**

А) Миссисипи; Б) Ганг; В) Муррей; Г) Амазонка; Д) Енисей; Е) Нил



Ваш ответ:

---

---

---

---



## БЛОК 2. НЕМЕТАЛЛИЧЕСКИЕ ПОЛЕЗНЫЕ ИСКОПАЕМЫЕ (20 баллов)

1. Соотнесите название полезных ископаемых и группы их промышленного использования. (до 8 баллов)

**Полезные ископаемые:** агат, асбест, глина, нефрит, пески, сера, слюда, фосфориты

**Группы промышленного использования:**

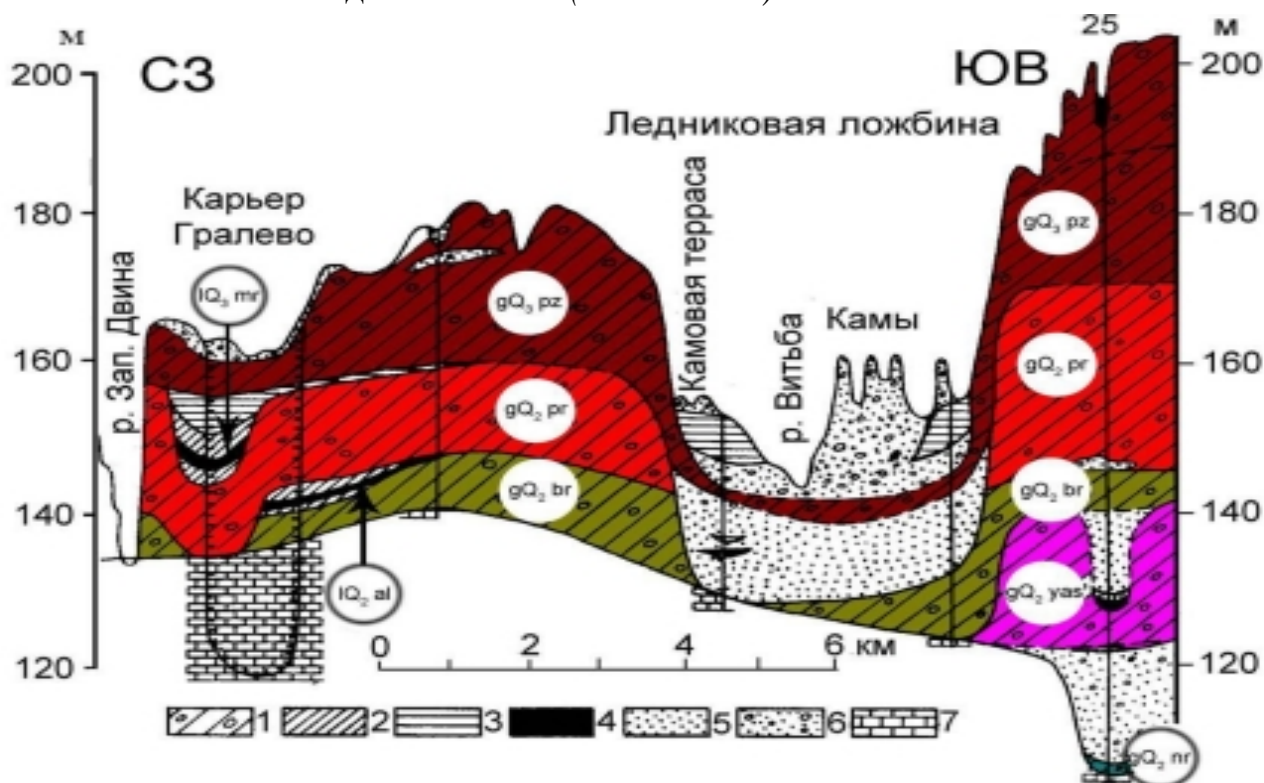
А) Агрохимическое сырье - \_\_\_\_\_

Б) Техническое сырье - \_\_\_\_\_

В) Строительные материалы - \_\_\_\_\_

Г) Камнецветное сырье - \_\_\_\_\_

2. Месторождение какого полезного ископаемого представлено на рисунке?  
Каким способом оно добывается? (до 2 баллов)



Ваш ответ:

---

---

---

---



**3. По фотографии и приведенной формуле определите название минерала.**  
*Впишите название минерала. (до 3 баллов)*

**Варианты минералов:** корунд, кальцит, давсонит



$\text{CaCO}_3$

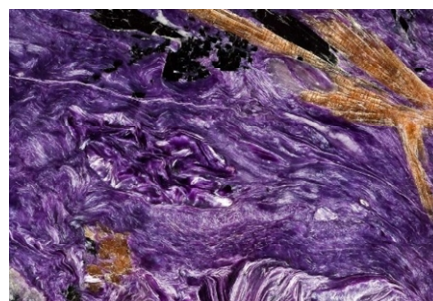


$\text{NaAl}(\text{CO}_3)(\text{OH})_2$



$\text{Al}_2\text{O}_3$

**4. Какой минерал изображен на марке и фотографиях? Где находится его месторождение? (до 1 балла)**



*Ваш ответ:*

---

---

**5. Согласны ли вы с утверждениями? В таблице отметьте правильные - плюсом (+), а неправильные - минусом (-). (до 5 баллов)**

Утверждение	(+) или (-)
На острове Мадагаскар расположено одно из крупнейших месторождений графита	
Добыча месторождений алмазов в Австралии связана с лампроитовыми трубками	
В низовьях Ориноко сложились условия для образования селитры	
В северных Аппалачах расположен асбестоносный пояс	
Фосфоритоносный пояс протянулся вдоль северного побережья материка Африки	

**6. Вспомните минералогическую шкалу твердости Мооса. Дополните предложения. (до 1 балла)**

Минерал лазурит имеет такую же твердость по Шкале Мооса, как \_\_\_\_\_ . Он имеет твердость \_\_\_\_\_ .

### БЛОК 3. СОЦИАЛЬНО-ЭКОНОМИЧЕСКАЯ ГЕОГРАФИЯ АВСТРАЛИЙСКОГО СОЮЗА (20 баллов)

**1. Какое место в мире по площади территории занимает Австралийский союз? (до 1 балла)**

- А. Пятое  
В. Седьмое
- Б. Шестое  
Г. Восьмое

**2. Назовите суверенное государство, не имеющее на данный момент статуса внешней территории Австралии? (до 1 балла)**

- А. Остров Рождества  
В. Науру
- Б. Норфолк  
Г. Кокосовые острова

**3. В каком числовом диапазоне находится современный показатель плотности населения Австралии? (до 1 балла)**

- А. 1-5 чел./км<sup>2</sup>  
В. 11-15 чел./км<sup>2</sup>
- Б. 6-10 чел./км<sup>2</sup>  
Г. 16-20 чел./км<sup>2</sup>

**4. Как называется одно из крупнейших месторождений бокситов на территории Австралии? (до 1 балла)**

- А. Броккен-Хилл  
В. Муни
- Б. Донгарра  
Г. Уэйпа

**5. Визитная карточка австралийского машиностроения, представляющая собой комбинированное многозвенное транспортное средство. (до 1 балла)**



Ваш ответ: \_\_\_\_\_




**6. Что является топливом для крупнейшей электростанции Австралии «Eraring Power Station», имеющей мощность 2880 МВт? (до 1 балла)**

- А. Мазут  
В. Уголь  
Б. Природный газ  
Г. Ядерное топливо

**7. Укажите уровень урбанизации Австралийского Союза (до 1 балла)**

- А. 70-75 %  
В. 80-85 %  
Б. 75-80 %  
Г. Более 85 %

**8. Узнайте национальный парк по следующему описанию: «Расположен в северной части Австралии, является объектом Всемирного наследия ЮНЕСКО. Название парка происходит от древнего языка австралийских аборигенов, который был распространен на п-ове Арнем-Ленд. Под охраной находятся археологическая, природная и этнографическая составляющие. На территории парка обитает гребнистый крокодил». (до 1 балла)**



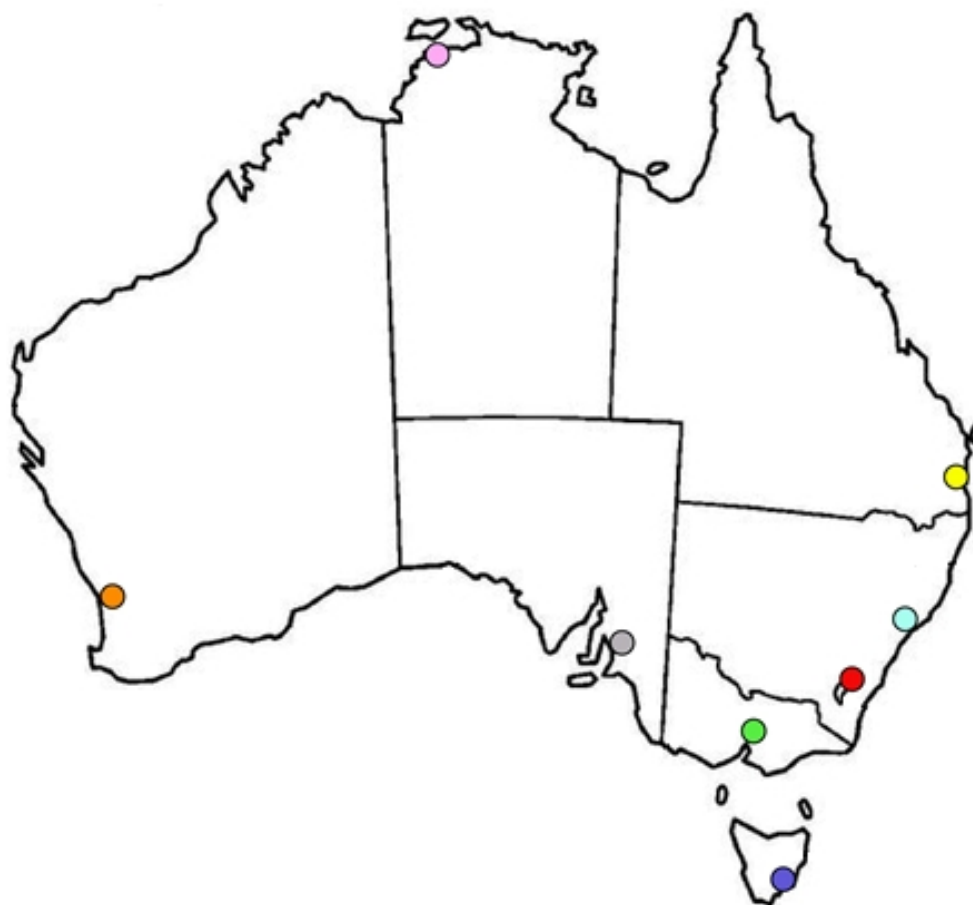
Ваш ответ: \_\_\_\_\_

**9. Отметьте верные утверждения, характеризующие сельское хозяйство Австралийского Союза. Обозначьте верные утверждения знаком «+». (до 4 баллов)**

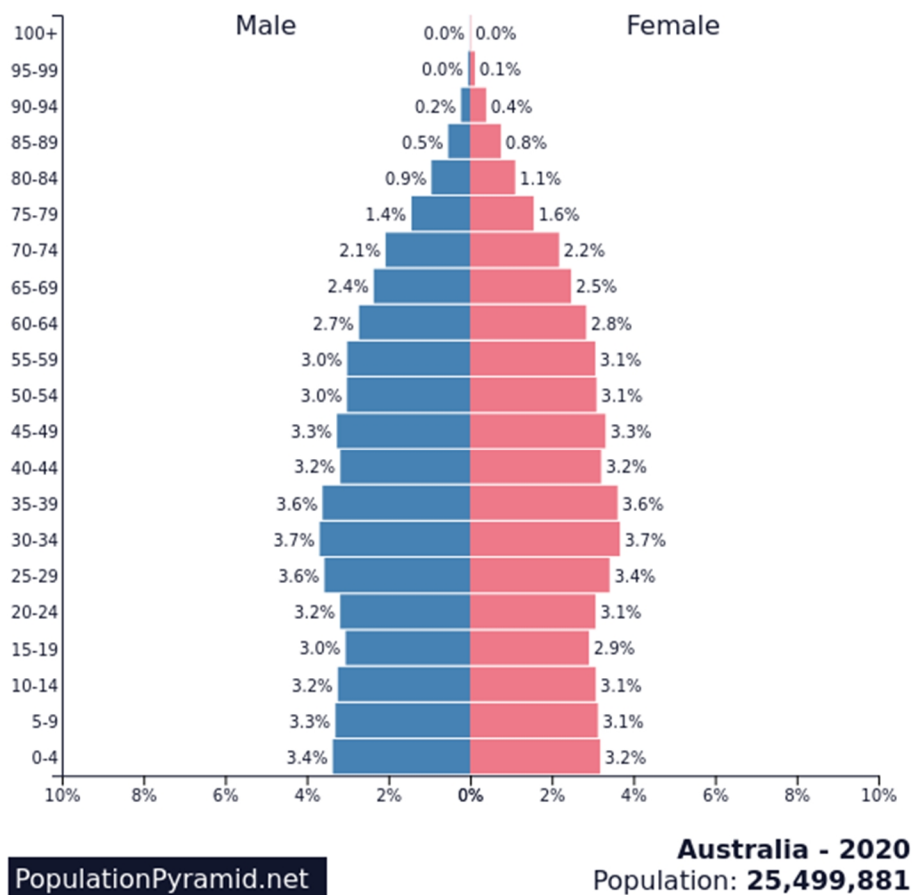
	Доля сельского хозяйства в структуре ВВП Австралии составляет более 15 %		Размер самой крупной фермы «Станция Анна-Крик» превышает территорию Кувейта
	Страна входит в число мировых лидеров по разведению овец и производству шерсти		В структуре сельскохозяйственных угодий свыше половины приходится на пашню
	На Тасмании культивируют опиумный мак для фармацевтических целей		Из-за засушливого климата крупный рогатый скот разводят исключительно на юго-востоке
	В растениеводстве Австралии не используются технологии богарного земледелия		Страна является одним из ведущих мировых экспортеров пшеницы и ячменя

**10. В пустые ячейки таблицы впишите недостающие названия административных единиц и соответствующих административных центров Австралии. При выполнении задания учитывайте цвет и расположение на картосхеме пунсонов городов. (до 4 баллов)**

Административная единица		Административный центр	
1	Австралийская столичная территория	●	
2		●	Мельбурн
3		●	Перт
4	Штат Квинсленд	●	
5		●	Сидней
6	Северная территория	●	
7	Штат Тасмания	●	
8		●	Аделаида



**11. Проанализируйте половозрастную пирамиду Австралии, определив ее тип, а также тип воспроизводства населения. Охарактеризуйте при этом соотношение полов и основных возрастных групп. Сделайте выводы об особенностях естественного движения населения и имеющихся тенденциях демографического развития страны. (до 4 баллов)**



*Ваш ответ:* \_\_\_\_\_

\_\_\_\_\_

\_\_\_\_\_

\_\_\_\_\_

\_\_\_\_\_

\_\_\_\_\_

\_\_\_\_\_

\_\_\_\_\_

\_\_\_\_\_

\_\_\_\_\_

\_\_\_\_\_



#### БЛОК 4. ГЕОГРАФИЯ ТУРИЗМА (20 баллов)

**1. На фотографии ниже изображен один из наиболее известных живописных железнодорожных маршрутов в Европе. Ответьте на ряд вопросов.**



<https://pixabay.com/photos/>

А) В какой стране проходит данный маршрут? (до 1 балла)

Ваш ответ \_\_\_\_\_

Б) Как он называется? *Подчеркните правильный ответ.* (до 1 балла)

1) Надоблачный экспресс

3) Ледниковый экспресс

2) Красная стрела

4) Эдельвейс

**2. В каком из перечисленных районов Беларуси организованы туристические маршруты по узкоколейным железным дорогам? Подчеркните правильный ответ.** (до 1 балла)

А) Оршанском

Б) Борисовском

В) Лидском

Г) Верхнедвинском



**3. Какова ширина узкоколейных железных дорог в Беларуси? Подчеркните правильный ответ. (до 1 балла)**

А) 1000 мм

Б) 1200 мм

В) 500 мм

Г) 750 мм

**4. Ответьте на ряд вопросов по результатам работы туристского сектора Беларуси в 2020 году.**

А) К одному из наиболее крупных туристических операторов в Республике Беларусь относится... *Подчеркните правильный ответ. (до 1 балла)*

1) Expedia

3) Tez Tour

2) Booking

4) Tomas Travel

Б) Число организованных туристов и экскурсантов, посетивших в 2020 году Беларусь, уменьшилось в ... раз(а). *Подчеркните правильный ответ. (до 2 баллов)*

1) 10

3) 8

2) 5

4) 3

В) Согласно официальным данным, в 2020 году Беларусь посетила 81 тысяча туристов и экскурсантов из ... стран мира. *Подчеркните правильный ответ. (до 1 балла)*

1) 150

3) 200

2) 95

4) 15

Г) К странам-лидерам по числу туристов и экскурсантов, откуда организовано въезжали в Республику Беларусь в 2020 году, относятся... *Запишите 3 страны-лидера. (до 3 баллов)*

*Ваш ответ:* \_\_\_\_\_

\_\_\_\_\_

\_\_\_\_\_

\_\_\_\_\_

**5. Предложите 3 аргументированные идеи для развития въездного туризма в Республику Беларусь. (до 9 баллов)**

№	Идея	Детализация
1		
2		
3		