

Максімальная колькасць балаў – 139

I. Выберыце правільны варыянт адказу (кожны правільны адказ – 1 бал)	
Гісторыя Беларусі	Сусветная гісторыя
<p>1. На паселішчы Юравічы Калінкавіцкага раёна Гомельскай вобласці былі знойдзены рэшткі пасудзіны з выявай</p> <p>а. чалавека з качкай б. чалавека в. маманта г. шарсцістага насарога</p> <p>2. Да індаеўрапейцаў не адносяцца</p> <p>а. славяне б. балты в. фіна-угры г. германцы</p> <p>3. На землях якога славянскага саюзу ўзнікла Полацкае княства?</p> <p>а. дрыгавічоў б. радзімічаў в. крывічоў-палачан г. драўлян</p> <p>4. Цэнтральны орган аўтаномнага яўрэйскага абшчыннага самакіравання у Рэчы Паспалітай, які дзейнічаў з сярэдзіны XVI да другой палове XVIII стагоддзяў, меў назву:</p> <p>а. ума б. кагал в. ваад г. парафія</p> <p>5. Рамеснік, які займаўся вырабам і направай збруі, называўся:</p> <p>а. гарбар б. бондар в. рымар г. кушнер</p> <p>6. Часовае аб’яднанне шляхты ў XVIII ст. з мэтай падтрымкі ўзброенай сілай тых ці іншых палітычных патрабаванняў –</p>	<p>16. Падчас Чацвёртага крыжовага паходу крыжаносцы захапілі ў 1204 г. наступны горад</p> <p>а. Іерусалім б. Афіны в. Канстантынопаль г. Трыпалі (Ліван)</p> <p>17. Камандуючым польска-аўстрыйска-нямецкім войскам у бітве пад Венай у 1683 г. быў</p> <p>а. Імрэ Цёкелі б. Леапольд I Габсбург в. Ян Сабескі г. Мехмед IV</p> <p>18. Першым здзейніў поўнае плаванне вакол Антарктыды на шыротах да 60 да 70 градусаў</p> <p>а. Ч. Уілкс б. Ф. Ф. Белінсгаузен в. Дж. Кук г. У. Сміт</p> <p>19. Палтаўская бітва, па выніках якой вызначыўся пералом у Паўночнай вайне на карысць Расіі, адбылася ў</p> <p>а. 1700 г. б. 1709 г. в. 1708 г. г. 1703 г.</p> <p>20. Бухарэсцкая мірная дамова завяршыла:</p> <p>а. руска-шведскую вайну 1808–1809 гг. б. савецка-фінскую вайну 1939–1940 гг. в. руска-турэцкую вайну</p>

<p>гэта</p> <p>а. саюз</p> <p>б. групоўка</p> <p>в. канфедэрацыя</p> <p>г. альянс</p> <p>7. Што з ніжэйпералічанага не было характэрна для Контррэфармацыі ў ВКЛ:</p> <p>а. насіла больш жорсткі характар, чым у Заходняй Еўропе</p> <p>б. была накіравана не толькі супраць пратэстантаў, але і супраць праваслаўнай царквы</p> <p>в. ажыццяўлялась ордэнам езуітаў</p> <p>г. езуіты карысталіся падтрымкай каралеўскай улады Рэчы Паспалітай</p> <p>8. Кіраўнік антыфеадальнага выступлення беларускіх сялян у Крычаўскім старостве 1740–1744 гг.</p> <p>а. Багдан Хмяльніцкі</p> <p>б. Васіль Вашчыла</p> <p>в. Іясафат Кунцэвіч</p> <p>г. Стахор Мітковіч</p> <p>9. У маі 1820 г. з дазволу кіраўніцтва Віленскага універсітэта Т.Занам была утворана легальная культурна-асветная арганізацыя – таварыства сяброў карыснай забавы, меўшае назву</p> <p>а. Прамяністыя</p> <p>б. Заране</p> <p>в. Таварыства філаматаў</p> <p>г. Патрыятычнае таварыства</p> <p>10. Якая галіна сельскагаспадарчай вытворчасці Беларусі прыйшла ў заняпад у выніку сусветнага аграрнага крызісу 80 – 90- х гг. XIX ст.?</p> <p>а. мяса-малочная жывёлагадоўля</p> <p>б. вытворчасць тэхнічных культур</p> <p>в. вінакурэнне</p> <p>г. вытворчасць збожжа</p> <p>11. Як скарочана называўся савецкі орган улады, утвораны 27.11.1917 г. для</p>	<p>1806–1812 гг.</p> <p>г. руска-японскую вайну 1904–1905 гг.</p> <p>21. Аўтарам “Маніфесту з Картахены” з’яўляецца</p> <p>а. Сімон Радрыгес</p> <p>б. Сімон Балівар</p> <p>в. Хосе Томас Бавес</p> <p>г. Хасэ Антонія Паэс</p> <p>22. Замах на жыццё міністра ўнутраных спраў П.А. Сталыпіна ў верасні 1911 ажыццявіў прастаўнік партыі:</p> <p>а. бальшавікоў</p> <p>б. меньшевікоў</p> <p>в. эсэраў</p> <p>г. анархістаў-камуністаў</p> <p>23. План нападу гітлераўскай Германіі на краіны Бенілюкса, а таксама Францыю называўся:</p> <p>а. «Гельб»</p> <p>б. «Вайс»</p> <p>в. «Рот»</p> <p>г. «Блау»</p> <p>24. Лідар якой усходнеславянскай краіны меў мянушку “лепшы вучань Сталіна”?</p> <p>а. Польшчы</p> <p>б. Венгрыі</p> <p>в. Чэхаславакіі</p> <p>г. ГДР</p> <p>25. Першая ў гісторыі Польскай народнай рэспублікі ўсеагульная забастоўка адбылася ў 1956 г. у горадзе:</p> <p>а. Варшава</p> <p>б. Познань</p> <p>в. Беласток</p> <p>г. Торунь</p> <p>26. Увод войскаў Варшаўскага дагавора ў Чэхаславакію 21 жніўня 1968 г. адбыўся ў рамках аперацыі:</p>
--	---





<p>кіравання Заходняй вобласцю і фронтам?</p> <p>а. Аблвыканкомзах б. СНК Заходняй вобласці в. Вялікая Беларуская Рада г. d) Цэнтральная Беларуская Рада</p> <p>12. Першая Канстытуцыя БССР была прынята на:</p> <p>а. I Усебеларускім з’ездзе Саветаў рабочых, сялянскіх і чырвона-армейскіх дэпутатаў 2–3 лютага 1919 г. у Мінску б. Пленуме ЦК РКП(б) 24 снежня 1918 г. в. Пасяджэнні Часовага ўраду Беларусі 1 студзеня 1919 г. г. d) Пасяджэнні прэзідыума ЦВК Літоўска-Беларускай ССР 27 лютага 1919 г.</p> <p>13. У якім горадзе месцілася беларуская гімназія, якая адзіная не была зачынена ў канцы 1930-х гг. ?</p> <p>а. Навагрудская б. Віленская в. Радашковіцкая г. Клецкая</p> <p>14. Што такое рэвіндыкацыя?</p> <p>а. працэс вяртання каталіцкаму касцёлу забраных праваслаўнай царквой будынкаў і маёмасці ў часы Расійскай Імперыі б. працэс ліквідацыі цераспалосіцы праз звядзенне сялянскіх зямель у адзін участак з наступным выхадам на хутары в. карныя паліцэйскія экспедыцыі г. мерапрыемства па ліквідацыі сервігутаў</p> <p>15. Які беларускі горад немцы ў гады вайны называлі “страляючым горадам” з-за актыўнай дзейнасці падпольшчыкаў?</p> <p>а. Гомель</p>	<p>а. «Дыядэма» б. «Вісла» в. «Дунай» г. «Тайфун»</p> <p>27. Пасля звяржэння прэзідэнта Сальвадора Альендэ ў выніку ваеннага перавароту да ўлады ў Чылі ў 1973 г. прыйшоў генерал</p> <p>а. Карлас Пратс б. Рэне Шнайдэр в. Аўгуста Піначэт г. Марыё Сепульведа</p> <p>28. Польскае аб’яднанне прафсаюзаў, якое было створана ў 1980 г. і актыўна змагалася супраць камуністычнага рэжыму, мела назву:</p> <p>а. Польская аб’яднаная рабочая партыя б. Салідарнасць в. Грамадзянская платформа г. Права і справядлівасць</p> <p>29. Які ваенны канфлікт з удзелам войск СССР заходнія СМІ назвалі «Мядзвежы капкан»?</p> <p>а. савецка-фінляндскую вайну б. афганскую вайну в. савецка-кітайскі ваенны канфлікт г. вайну ў В’етнаме</p> <p>30. У 2015 годзе лаўрэатам Нобелеўскай прэміі па літаратуры стала пісьменніца:</p> <p>а. Герта Мюлер б. Святлана Алексіевіч в. Вольга Такарчук г. Луіза Глюк</p>
---	--

б. Мінск в. Гродна г. d) Жлобін	
---------------------------------------	--





II. Правільна суаднясіце элементы дзвюх мностваў

За кожны поўны правільны адказ – 2 балы

31) выявы замкаў – аб’ектаў сусветнай спадчыны ЮНЭСКО і іх назвы

			
А.	Б.	В.	Г.
1. Замак Марыенбург – В	2. Кведлінбургскі замак – Г	3. замак Хімедзі – Б	4. Мірскі замак – А

32) выявы каралеў Англіі (Велікабрытаніі) і іх імёны

			
А.	Б.	В.	Г.
1. Елізавета II – Б	2. Елізавета I – Г	3. Ганна Сцюарт – А	4. Ледзі Джэйн Грэй – В





33) еўрапейскія дзяржавы XIX–XX стст. і дынастыі, што кіравалі ў іх

1	Румынія	А	Саксен-Кобург-Готская дынастыя
2	Велікабрытанія	Б	Дынастыя Гагенцалерн-Зігамарінген
3	Данія	В	Дынастыя Габсбургаў
4	Аўстра-Венгрыя	Г	Дынастыя Глюксбургаў
1 – Б	2 – А	3 – Г	4 – В

34) помнікі дойлідства і дзяржаўныя ўтварэнні

			
А.	Б.		
			
В.	Г.		
1. Рэч Паспалітая – Б	2. Расійская імперыя – В	3. Польшча 1921–1939 гг. – Г	4. Рэспубліка Беларусь – А

35) выявы магнацкіх рэзідэнцый і прозвішчы іх уладальнікаў





	
А.	Б.
	
В.	Г.

1. Сапегі – Б	2. Тызенгаўзы – А	3. Агінскія – Г	4. Валовічы – В
---------------	-------------------	-----------------	-----------------





36) назву вайны XVII–XVIII стст. і мірнае пагадненне, якім яны завяршыліся

1. Вайна за іспанскую спадчыну	А. Вестфальскі мір		
2. Вайна паміж Расіяй і Рэччу Паспалітай (1654–1667 гг.)	Б. Утрэхтская мірная дамова		
3. Трыццацігадовая вайна	В. Аліўскі мір		
4. Вайна паміж Швецыяй і Рэччу Паспалітай (1655–1660 гг.)	Г. Андрусаўскае перамір’е		
1. – Б	2. – Г	3. – А	4. – В

37) выяву еўрапейскага манарха XVII–XVIII стст. і назву краіны, дзе ён кіраваў

			
А	Б	В	Г
1. Данія – В	2. Англія – А	3. Францыя – Г	4. Іспанія – Б

38) герб і шляхецкі род Вялікага Княства Літоўскага, якому герб належаў

			
А.	Б.	В.	Г.
1. Хадкевічы – Б	2. Кішкі – А	3. Корсакі – Г	4. Гаштольды – В

39) помнік кіеўскаму князю і імя апошняга

			
А.	Б.	В.	Г.
1. Святаслаў Ігаравіч – Б	2. Уладзімір Святаславіч – Г	3. Яраслав Уладзіміравіч – А	4. Уладзімір Усеваладавіч – В

40) імя савецкага барда і ягоную фатаграфію

			
А.	Б.	В.	Г.
1. Уладзімір Высоцкі – Б	2. Аляксандр Галіч – А	3. Булат Акуджава – Г	4. Юрый Візбар – В

III. Расстаўце ў правільнай храналагічнай паслядоўнасці

За кожны поўны правільны адказ – 2 балы

41) першыя ўпамінанні гарадоў Беларусі

А. бітва на Нямізе і першае ўпамінанне ў летапісе пра Менск.	Б. першае ўпамінанне ў «Аповесці мінулых гадоў» пра Полацк.
---	--

В. першае ўпамінанне пра Тураў.		Г. першае ўпамінанне пра Віцебск	
1 – Б	2 – В	3 – Г	4 – А

42) газеты, якія выдаваліся/распаўсюджваліся на тэрыторыі Беларусі

А. Мінскія губернскія ведамасці		Б. Наша Ніва	
В. Літоўскія епархіяльныя ведамасці		Г. Мінскі лісток	
1 – А	2 – В	3 – Г	4 – Б

43) падзеі гісторыі старажытнай Грэцыі

А. Будаўніцтва Парфянона ў Афін		Б. Грэка-персідскія войны	
В. Росквіт Афінскай дэмакратыі пры Перыкле		Г. Траянская вайна	
1 – Г	2 – Б	3 – А	4 – В

44) падзеі барацьбы Вялікага Княства Літоўскага з крыжакамі

А. захоп Коўна крыжакамі		Б. Торуньскі мір	
В. перамога войск ВКЛ пад Коркаўзам		Г. Грунвальдская бітва	
1 – В	2 – А	3 – Г	4 – Б

45) французскія дынастыі па часу праўлення ад самай ранняй да найбольш позняй

А. Дынастыя Капецінгаў		В. Дынастыя Каралінгаў	
Б. Дынастыя Меравінгаў		Д. Дынастыя Валуа	
1 – Б	2 – В	3 – А	4 – Д

46) чыгункі, што праходзяць па тэрыторыі Беларусі, па часе пабудовы ад самай ранняй да найбольш позняй

А. Рыга-Арлоўская		В. Лібава-Роменская	
Б. Маскоўска-Брэсцкая		Г. Пецярбургска-Варшаўская	
1 – Г	2 – А	3 – Б	4 – В

47) дэмакратычныя таварыствы моладзі XIX ст. ад самага ранняга да найбольш позняга

А. Таварыства вайсковых сяброў		В. “Прамяністыя”	
Б. Дэмакратычнае таварыства		Г. Таварыства філаматаў	
1 – Г	2 – В	3 – А	4 – Б

48) падзеі Першай рускай рэвалюцыі ў 1905 г.

А. Стварэнне Усерасійскага сялянскага саюзу		В. Кастрычніцкая усерасійская палітычная стачка	
Б. Крывавая нядзеля		Г. паўстанне каманды браняносца «Пацёмкін»	
1 – Б	2 – Г	3 – А	4 – В

49) падзеі рэлігійнай гісторыі ВКЛ

А. Забойства ў Віцебску полацкага ўніяцкага архіепіскапа Іасафата Кунцэвіча		В. Замоіскі сабор уніяцкага духавенства	
Б. Берасцейская царкоўная ўнія		Г. стварэнне Магілёўскай праваслаўнай епархіі	
1 – Б	2 – А	3 – Г	4 – В

50) падзеі савецкай гісторыі другой паловы ХХ ст.

А. Увод савецкіх войскаў у Афганістан		В. апошняя антыалкагольная кампанія ў СССР	
Б. Памежны канфлікт на востраве Даманскі		Г. ХХ з’езд КПСС	
1 – Г	2 – Б	3 – А	4 – В

IV.	Выберыце правільны варыянт адказу За кожны правільны адказ – 2 балы		
51. Ці праўда, што: 1) У другой палове ХІІІ–пачатку ХVІ ст. у архітэктуры Беларусі пераважаў стыль барока 2) На культуру Беларусі ХVІ ст. не паўплывалі ідэі Рэнесанса. а) дакладна 1 б) дакладна 2 в) дакладна 1 і 2 г) не дакладна 1 і 2		53. Ці праўда, што: 1) У Афінах у 128 г. н.э. быў пабудаваны Пантэон. 2) У Александрыі існаваў Музейон. а) дакладна 1 б) дакладна 2 в) дакладна 1 і 2 г) не дакладна 1 і 2	
52. Ці праўда, што: 1) вялікі князь Ягайла быў жанаты з князеўнай Соф’яй Гальшанскай 2) вялікі князь Ягайла быў жанаты на дачцы апошняга віцебскага князя з рода Рурыкавічаў – Марыі Яраслаўне а) дакладна 1 б) дакладна 2 в) дакладна 1 і 2 г) не дакладна 1 і 2		54. Ці праўда, што: Найбольш буйным прадпрыемствам па вытворчасці папіросаў на тэрыторыі Беларусі была фабрыка 1) заснаваная купцом Лейбам Шарашэўскім у 1861 г. 2) дзейнічала ў Гародні а) дакладна 1 б) дакладна 2 в) дакладна 1 і 2 г) не дакладна 1 і 2	
51. г	52. а	53. б	54. в

V. Напішыце, якому паняццю даецца вызначэнне		
За кожны правільны адказ – 1 бал		
55.	збяднелыя сяляне, якія бралі ў феодала грашовую пазыку («купу») і павінны былі працаваць на яго гаспадарцы за «купу», пакуль не вярнуць грошы	закупы
56.	народны сход, орган дзяржаўнай улады (разам з князем) у асобных княствах Кіеўскай Русі	веча
57.	тып гаспадаркі, пры якой усё, што выраблялася людзьмі, спажывалася імі ж у межах гэтай жа гаспадаркі.	натуральная гаспадарка
58.	сяляне, якія ў XI–XII ст. былі па нейкіх прычынах выгнаны з абшчыны, засталіся без зямлі і былі вымушаны пайсці ў залежнасць да феодала	ізгоі
59.	Цырымонія, суправаджаўшая заключэнне васальнай дамовы ў сярэднявечнай Еўропе	амаж
60.	сяляне, якія знаходзіліся ў залежнасці ад феодала ў адпаведнасці з дамовай («радам»)	радовічы
61.	сістэма юрыдычных норм, якія замацоўвалі пазямельную, судовую і асабістую (пазаэканамічны прымус) залежнасць сялян ад феодалаў і дзяржавы.	прыгоннае права
62.	аб’яднанне рамеснікаў адной або сумежных спецыяльнасцяў у сярэднявечных гарадах для абароны сваіх прафесійных інтарэсаў.	цэх

VI Размяркуйце з дапамогай стрэлак		
8 балаў за выкананне частак 63 і 64 без памылак		

63) падзеі, што адносяцца да дзейнасці вялікіх князяў літоўскіх

Вітаўт		Атрымаў паразу ў бітве пад Ворсклай у 1399 г. (улева)	Ягайла
		Ажаніўся з польскай каралевай Ядвігай (управа)	
		У 1401 г. пайшоў на аднаўленне саюза з Польшчай. (улева)	
		Прыняў у ВКЛ татарскага хана Тахтамыша, які ўцёк з Залатой Арды (улева)	
		Паводле ўмоў Крэўскай уніі прыняў каталіцтва і стаў каралём Польшчы	

	Уладзіславам II (управа)		
	Кіраваў узброенымі сіламі ВКЛ падчас Грунвальдскай бітвы (улева)		
	У 1420 годзе чэхі прапанавалі яму карону Багеміі, але згодна з парадай савета ён адмовіўся (управа)		
	Трапіў у палон да малодшага брата, калі прыехаў прымаць ад яго васальную клятву (управа)		

64) падзеі рэвалюцый ў Францыі 1830 і 1848 гадоў

Другая Французская рэвалюцыя (1830 г.)	Вынікам рэвалюцыі стала ўстанаўленне ліберальнага рэжыму ў Францыі і ўрачыстасць буржуазіі над зямельнай арыстакратыяй (улева)	Рэвалюцыя 1848 года ў Францыі
	Прэзідэнтам Францыі стаў Луі-Напалеон Банарт (управа)	
	Згодна з абноўленай Хартыяй, была абвешчана свабода слова без усялякіх абмежаванняў, былі пашыраны кампетэнцыі Парламента, які з гэтага часу меў права заканадаўчай ініцыятывы (улева)	
	Было ўведзена ўсеагульнае выбарчае права для мужчын (управа)	
	Афіцыйным сцягам Францыі становіцца трыкалор (улева)	
	Рэвалюцыйныя падзеі ў Францыі прывялі да ўздыму ліберальных паўстанняў у іншых краінах Еўропы, т.зв. "Вясне народаў" (управа)	
	Вынікам стала звяржэнне Карла X і ўзвядзенне на прастол Луі-Філіпа, герцага Арлеанскага (улева)	
	У выніку гэтай рэвалюцыі была абвешчана Другая Французская рэспубліка (управа)	


VII. Адзначце “птушачкай” у адпаведным месцы, якая падзея адбылася раней (за кожны правільны адказ – 1 бал)					
Гісторыя Беларусі			Сусветная гісторыя		
65.		Узнікненне епархіі ў Полацку	ці	тут	Пачатак каланізацыі Грэнландыі
66.	тут	Разгром Альгердам мангола-татар на рацэ Сінія Воды.	ці		Бітва на Косавым полі паміж сербскім і і асманскім войскамі
67.	тут	Грунвальдская бітва	ці		Бітва пры Азенкуры паміж Англіяй і Францыяй
68.	тут	Выданне Францыскам Скарынай першай друкаванай кнігі – “Псалтыра”	ці		Марцін Лютэр абнародваў тэкст з 95 тэзісамі пра індульгенцыі
69.		Падпісанне Берасцейскай царкоўнай уніі	ці	тут	Варфаламееўская ноч у Францыі
70.	тут	«Нямы» сойм у Варшаве	ці		Ніштацкі мір
71.	тут	Прыняцце Канстытуцыі Рэчы Паспалітай	ці		Указ аб вольных хлебапашцах Александра I
72.	тут	Падпісанне БССР мірных дагавораў з Балгарыяй, Венгрыяй, Румыніяй і Фінляндыяй	ці	тут	Стварэнне НАТА
73.		Аварыя на Чарнобыльскай АЭС	ці	тут	Пачатак прэзідэнцтва Рональда Рэйгана ў ЗША
74.	тут	Наданне статусу канстытуцыйнага закона Дэкларацыі аб дзяржаўным суверэнітэце БССР	ці		Падпісанне дагавора аб стварэнні Еўрапейскага Саюза

VIII.	Падбярэце агульнае паняцце да прапанаваных элементаў	
	За кожны правільны адказ – 1 бал	
75.	Бернардзінскі, іезуітаў, піяраў	ордэн
76.	Рагвалодаў, Барысаў, межавы	камень
77.	Стогадовая, Сямігадовая, грамадзянская	вайна
78.	Рымская, Свяшчэнная, Візантыйская	імперыя
79.	Чума, халера, іспанка	эпідэмія
80.	Агінскага, Аўгустоўскі, Дняпра-Бугскі	канал
81.	Лібава-Роменская, Пецярбурска- Варшаўская, Дынабургска-Віцебская	чыгунка
82.	Варшаўская, Грунвальдская, народаў	бітва
83.	Тыльзіцкі, Ям-Запольскі, “вечны”	мір
84.	Дропшот, Чарыяцір, Флітвуд	план

IX.	Расшыфруйце абрэвіатуры	
	(кожны правільны адказ – 1 бал)	
85.	ШАС	Шанхайская арганізацыя супрацоўніцтва
86.	АДКБ	Арганізацыя Дагавора аб калектыўнай бяспецы
87.	АСЕАН	Асацыяцыя дзяржаў Паўднёва-Усходняй Азіі
88.	СНД	Садружнасць Незалежных Дзяржаў
89.	ЕўрАзЭС	Еўразійскае эканамічнае супольніцтва

X.	Напішыце, якія гістарычныя падзеі адлюстраваны на карцінах і ў якім годзе яны адбыліся
-----------	---

Кожны поўны адказ – 2 балы (1 бал – падзея, 1 бал – год)




90. Усеслаў Полацкі ў цямніцы ў Кіеве, 1068



91. Узяцце крыжакамі Канстантынопаля, 1204



92. Пахаванне Гедыміна, 1341



93. Падзенне Троі, 1180, 1185 прымаем



94. Люблінская ўнія, 1569



95. Капітуляцыя г. Брэда, 1625, прымаць адказ Вайна Нідэрландаў за незалежнасць ад Іспаніі 1568–1648



96. Прыняцце Канстытуцыі Рэчы Паспалітай, 3 мая 1791



97. Бітва пры Гетысбергу, вайна Поўначы і Поўдня, ЗША, 1863 г.



98. Ліпеньская рэвалюцыя ў Францыі, 1830 г.



99. Паўстанне 1863 г. у Беларусі