

Третий этап республиканской олимпиады по учебному предмету «География»
2022/2023 учебный год

Мультимедиа-тест.

Вариант 2

УВАЖАЕМЫЙ ОЛИМПИОНИК!

На выполнение заданий мультимедиа-теста отводится 1 час (60 минут).

Ты имеешь право просматривать слайды в произвольном порядке и в свободном ритме.

Ответы на задания мультимедиа-теста необходимо вписать в предлагаемый бланк ответов.

По результатам мультимедиа-теста можно получить максимум 40 баллов.

ЖЕЛАЕМ ТЕБЕ УДАЧИ!

Вопрос 1: Определите азимут, по которому для игрока под номером 2 находится второй член его команды, если игра проходила в полдень в Северном полушарии.

Варианты ответа: А) 0° ; Б) 90° ; В) 180° ; Г) 270°

(За правильный ответ – 1 балл)



Вопрос 2: Страны-участницы какого объединения обозначены на карте оттенками синего цвета?

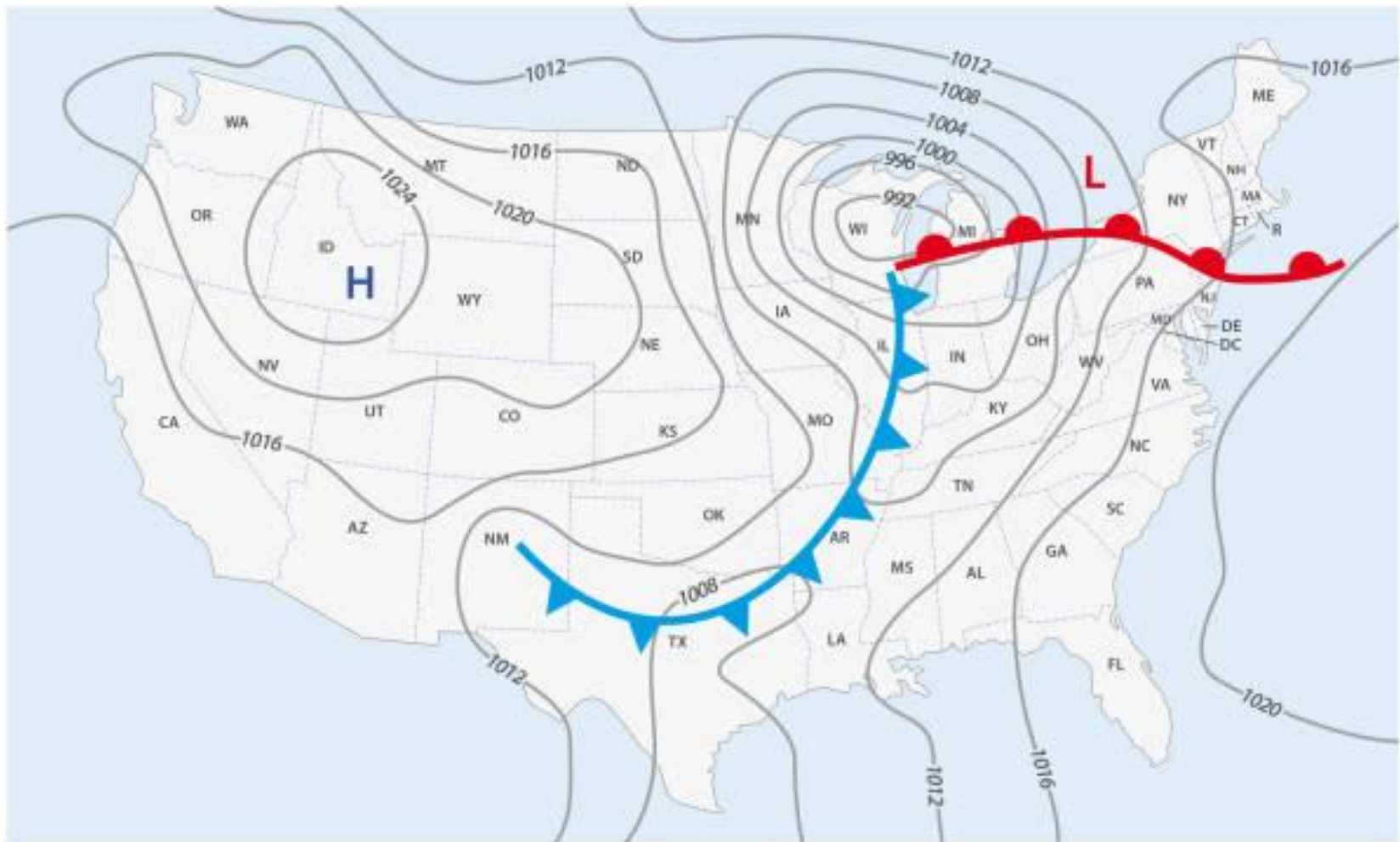
Варианты ответа: А) Научный комитет по антарктическим исследованиям (SCAR); Б) Всемирная метеорологическая организация (WMO); В) Всемирная торговая организация (WTO); Г) Межпарламентский союз
(За правильный ответ – 1 балл)



Вопрос 3: Объект, полностью или частично расположенный внутри изобары, очерчивающей центр циклона на приведённой карте.

Варианты ответа: А) штат Айдахо; Б) Саргассово море; В) Мексиканский залив; Г) озеро Мичиган

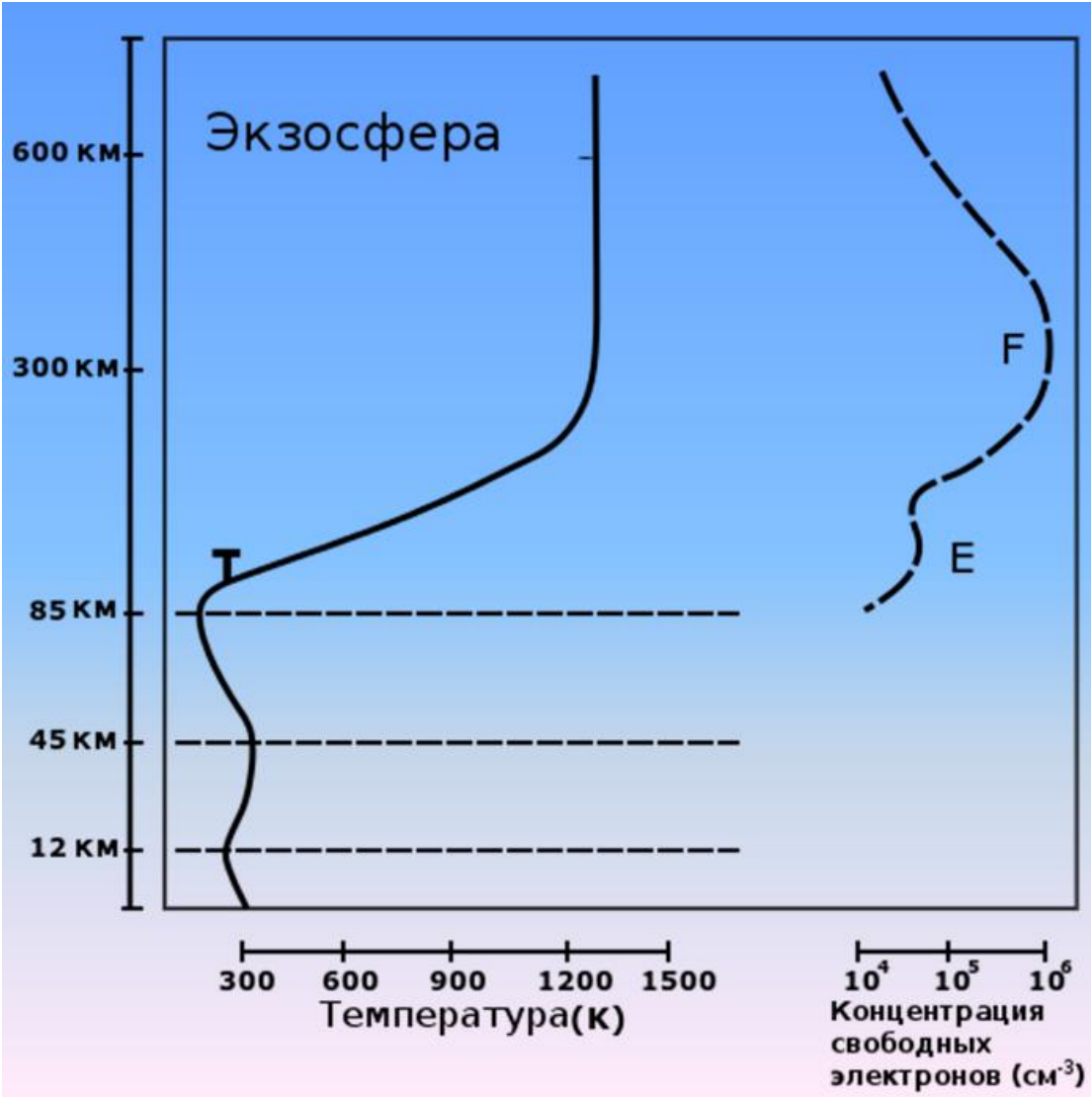
(За правильный ответ – 1 балл)



Вопрос 4: Выберите из перечня лишнее.

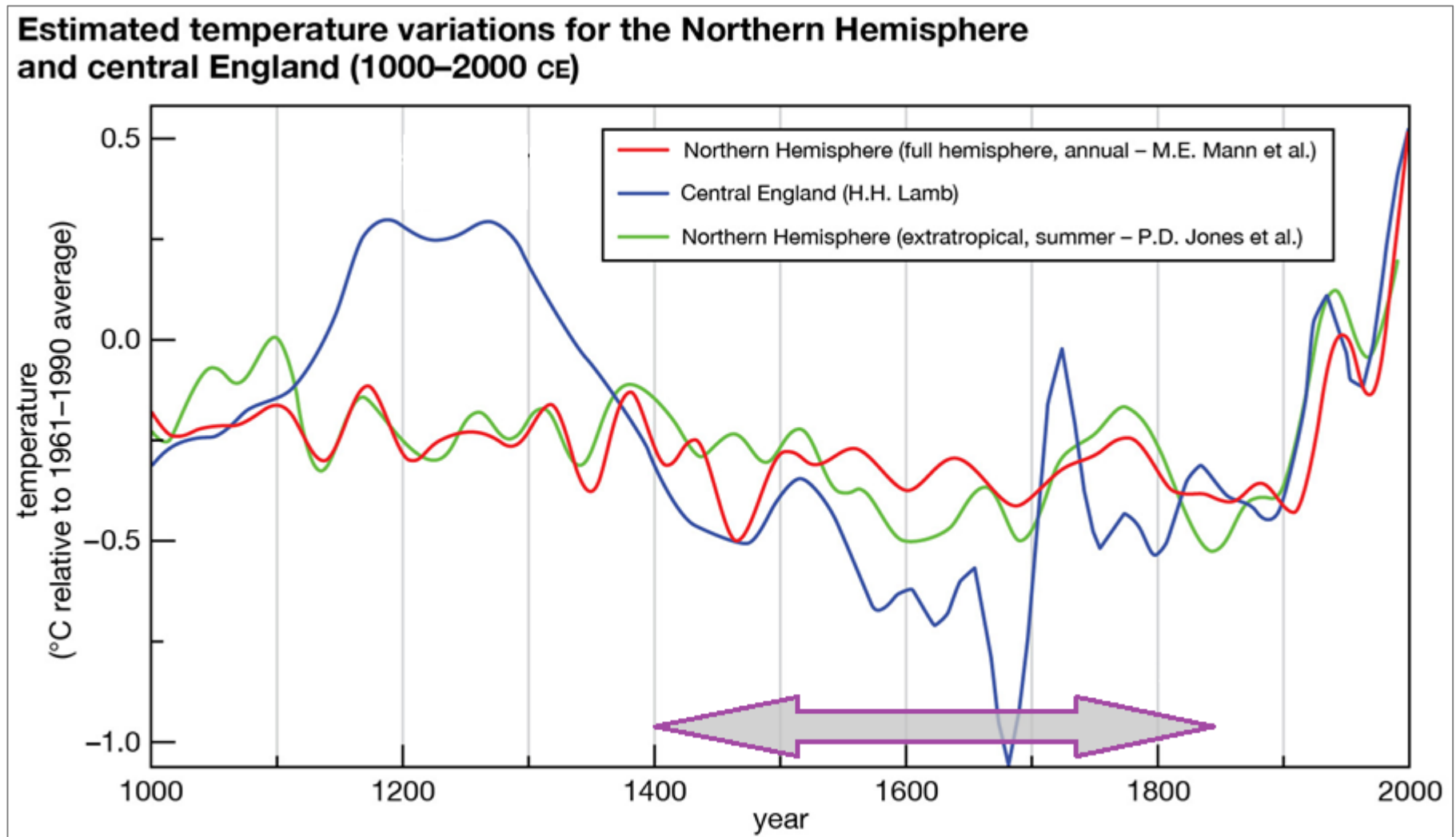
Варианты ответа: А) стратосфера; Б) мезосфера; В) тропосфера; Г) ионосфера

(За правильный ответ – 1 балл)



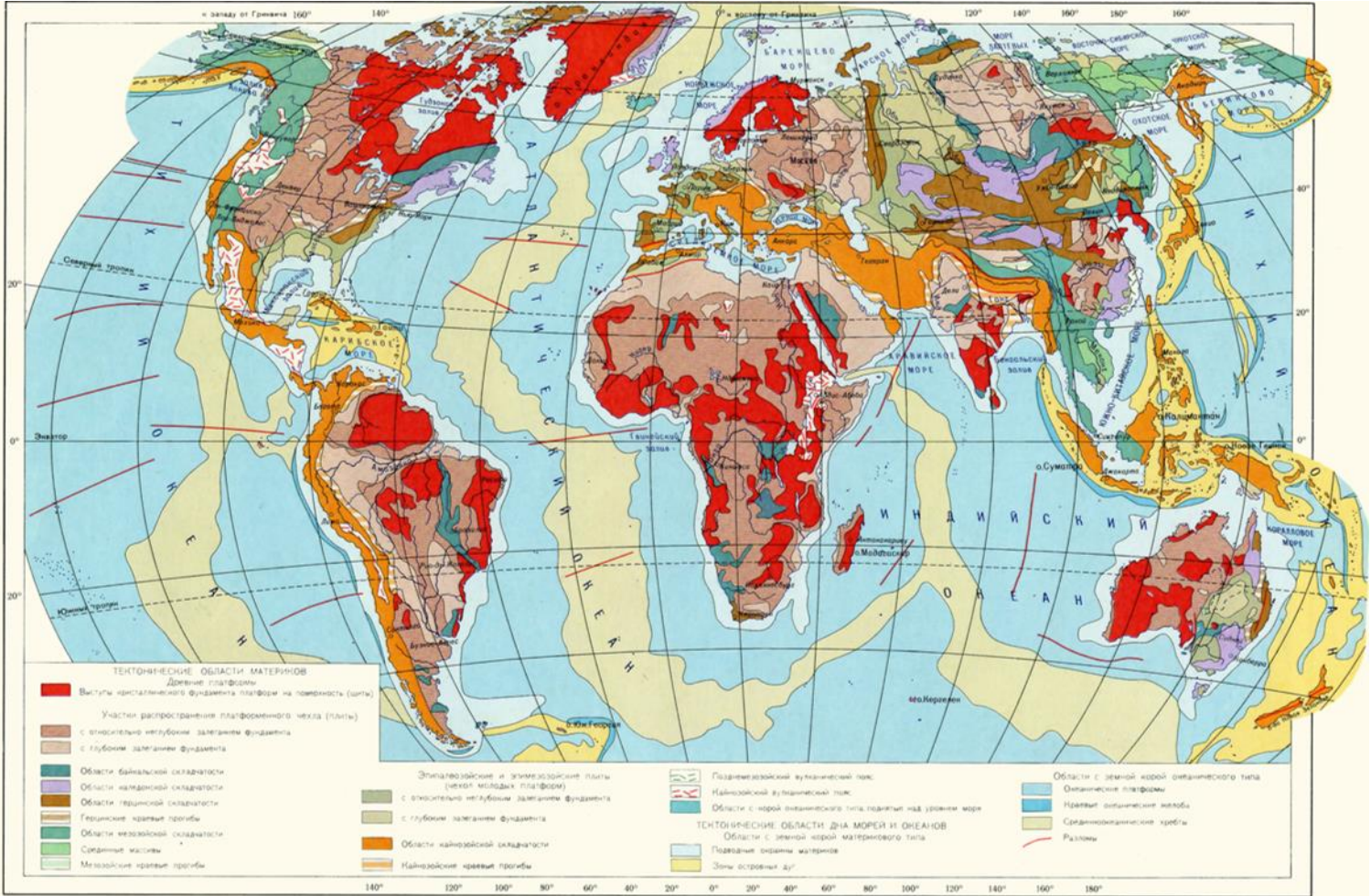
Вопрос 5: Период, примерные временные рамки которого обозначены стрелками.

Варианты ответа: А) малый климатический оптимум; Б) суббореальный; В) малый ледниковый период; Г) атлантический
(За правильный ответ – 1 балл)



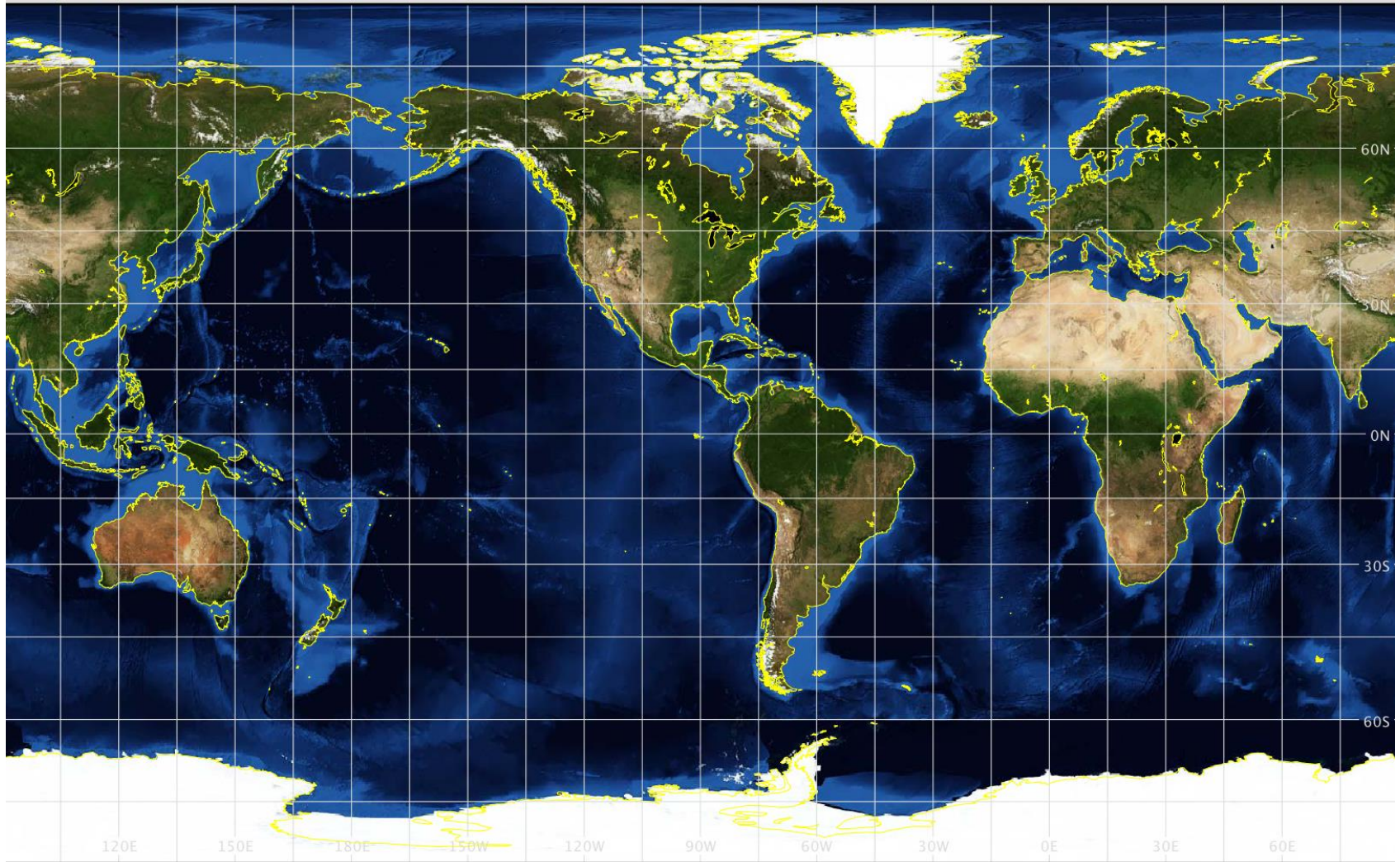
Вопрос 6: Найдите лишний по времени образования объект в одном из перечней. В качестве ответа запишите букву варианта ответа и сам лишний объект.

Варианты ответа: А) Хибины, Драконовы горы, Западные Гаты; Б) Анды, Альпы, Гималаи; В) Скалистые горы, Сихотэ-Алинь, Карпаты; Г) Алтай, Капские горы, Уральские горы
(За правильный ответ – 2 балла)






Вопрос 7: Укажите тип картографической проекции (по виду нормальной сетки меридианов и параллелей), использованный для построения приведённой ниже карты.

Варианты ответа: А) параболическая; Б) коническая; В) азимутальная; Г) цилиндрическая
(За правильный ответ – 1 балл)



Вопрос 8: Укажите иллюстрацию, соответствующую геодинамическому процессу спрединга. Ответ запишите.
(За правильный ответ – 1 балл)



Вопрос 9: Запишите номер растения, являющегося плотоядным.
(За правильный ответ – 1 балл)

1)



2)



3)



4)



Вопрос 10: Техногенные ландшафты, представленные на всех трёх снимках.

Варианты ответа: А) селитебные; Б) сельскохозяйственные; В) линейно-дорожные; Г) беллигеративные
(За правильный ответ – 1 балл)



Вопрос 11: Назовите материк, где расположен национальный парк, чьё название происходит от названия местности со сложно расчленённым труднопроходимым рельефом, непригодной для земледелия. Укажите название этой местности.

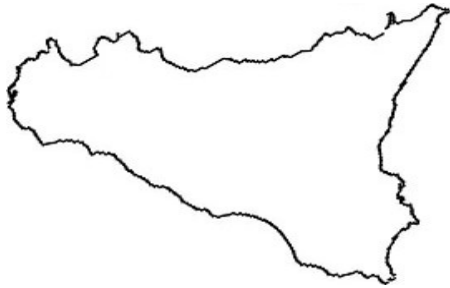
(За правильный ответ – 2 балла)



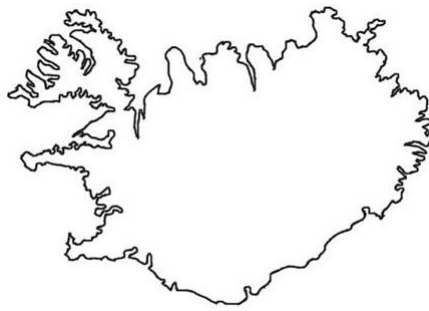
Вопрос 12: Остров с какими очертаниями расположен севернее остальных? Выберите правильный вариант ответа и запишите название острова.

(За правильный ответ – 2 балла)

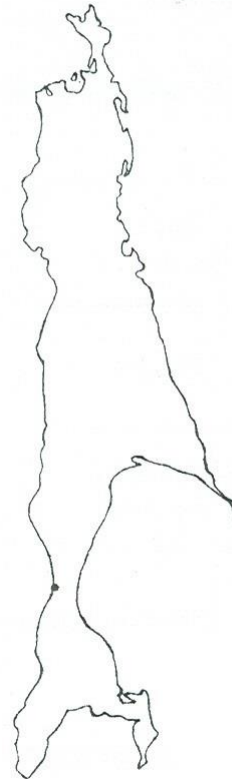
А)



Б)



В)



Г)



Вопрос 13: Выберите лишнее.

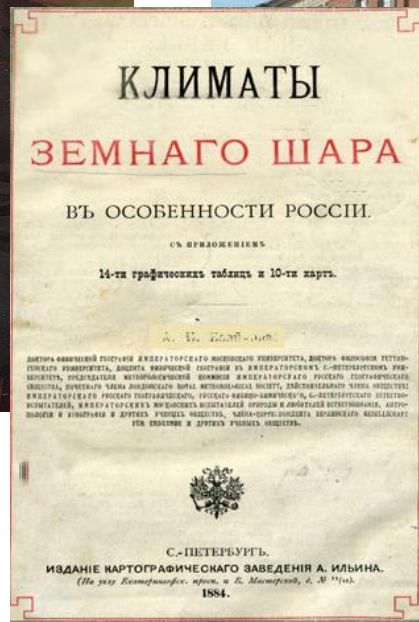

Варианты ответа: А) гамада; Б) кум; В) эрг; Г) нефуд.

(За правильный ответ – 1 балл)




Вопрос 14: Русский климатолог, один из основателей сельскохозяйственной метеорологии. Автор трудов «Климаты земного шара, в особенности России» и «Климат Полесья». Его именем названа Главная геофизическая обсерватория в Санкт-Петербурге. В ответе запишите фамилию этого учёного.

(За правильный ответ – 2 балла)



Вопрос 15: Запишите название реки, долина которой изображена на фотографиях. Укажите, к бассейну какого моря она относится.
(За правильный ответ – 2 балла)





Вопрос 16: Достопримечательности какой административной области Беларуси представлены на слайде? Ответ запишите.
(За правильный ответ – 1 балл)



Вопрос 17: Какой памятник истории Республики Беларусь представлен на слайде?

Варианты ответа: А) мемориальный комплекс «Ола»; Б) государственный мемориальный комплекс «Хатынь»; В) мемориальный комплекс «Дальва»; Г) мемориальный комплекс «Буйничское поле»
(За правильный ответ – 2 балла)



Вопрос 18: Достопримечательности какой страны представлены на слайде?

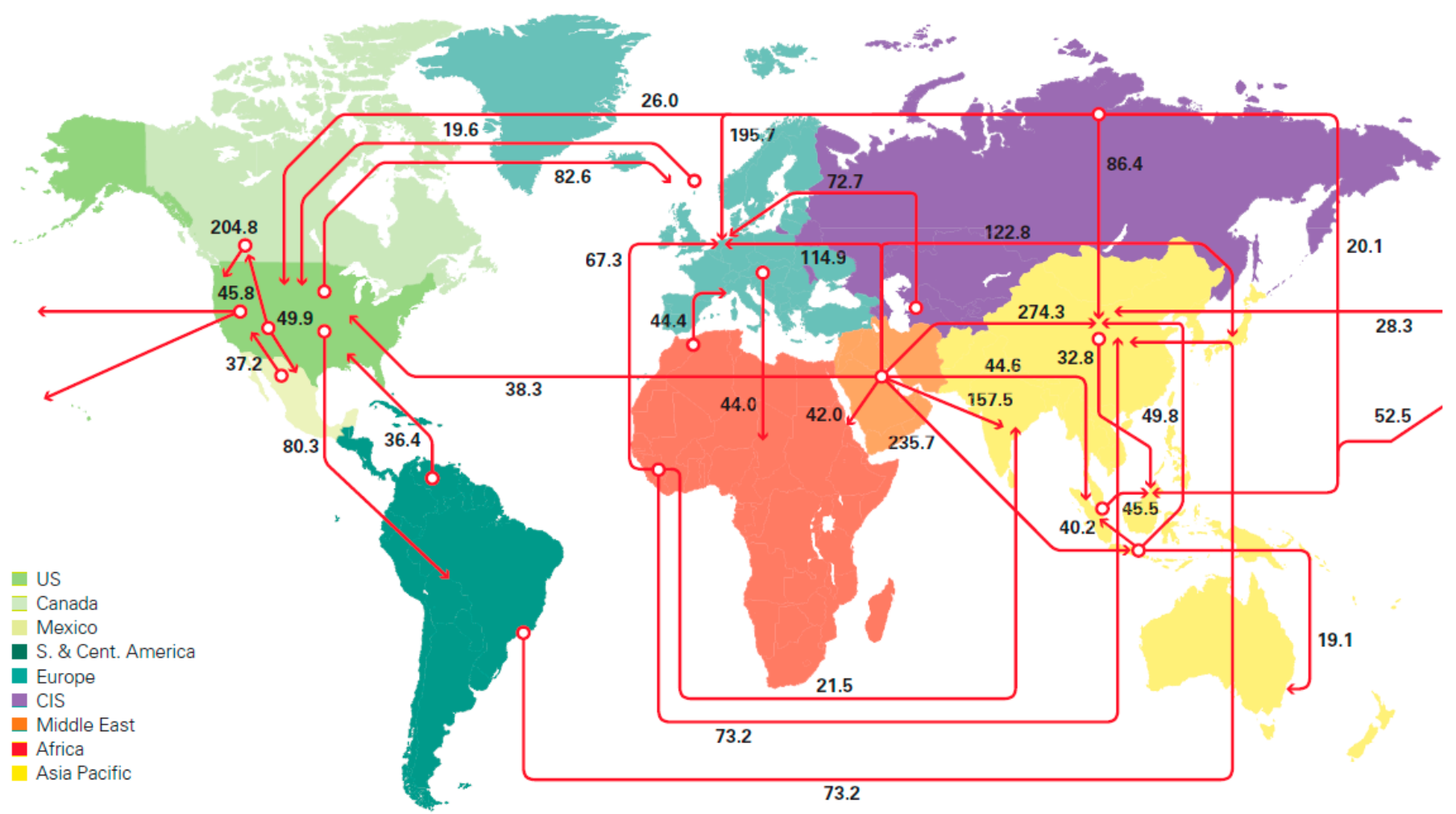
Варианты ответа: А) Индонезия; Б) Таиланд; Вьетнам; Г) КНР

(За правильный ответ – 1 балл)



Вопрос 19: Основные торговые потоки какой продукции отражены на данной картосхеме в 2020 году?

Варианты ответа: А) железная руда; Б) нефть; В) древесина; Г) пшеница
(За правильный ответ – 1 балл)




Вопрос 20: Перед Вами изображения логотипов известных во всем мире компаний. Определите страну, где размещаются их штаб-квартиры.

Варианты ответа: А) Сингапур; Б) Республика Корея; В) Китай; Г) Япония

(За правильный ответ – 1 балл)

Panasonic®

Canon



YAMAHA

Вопрос 21: Как называется известная марка польских тракторов?

Варианты ответа: А) Buhler; Б) Valtra; В) Ursus; Г) Zetor

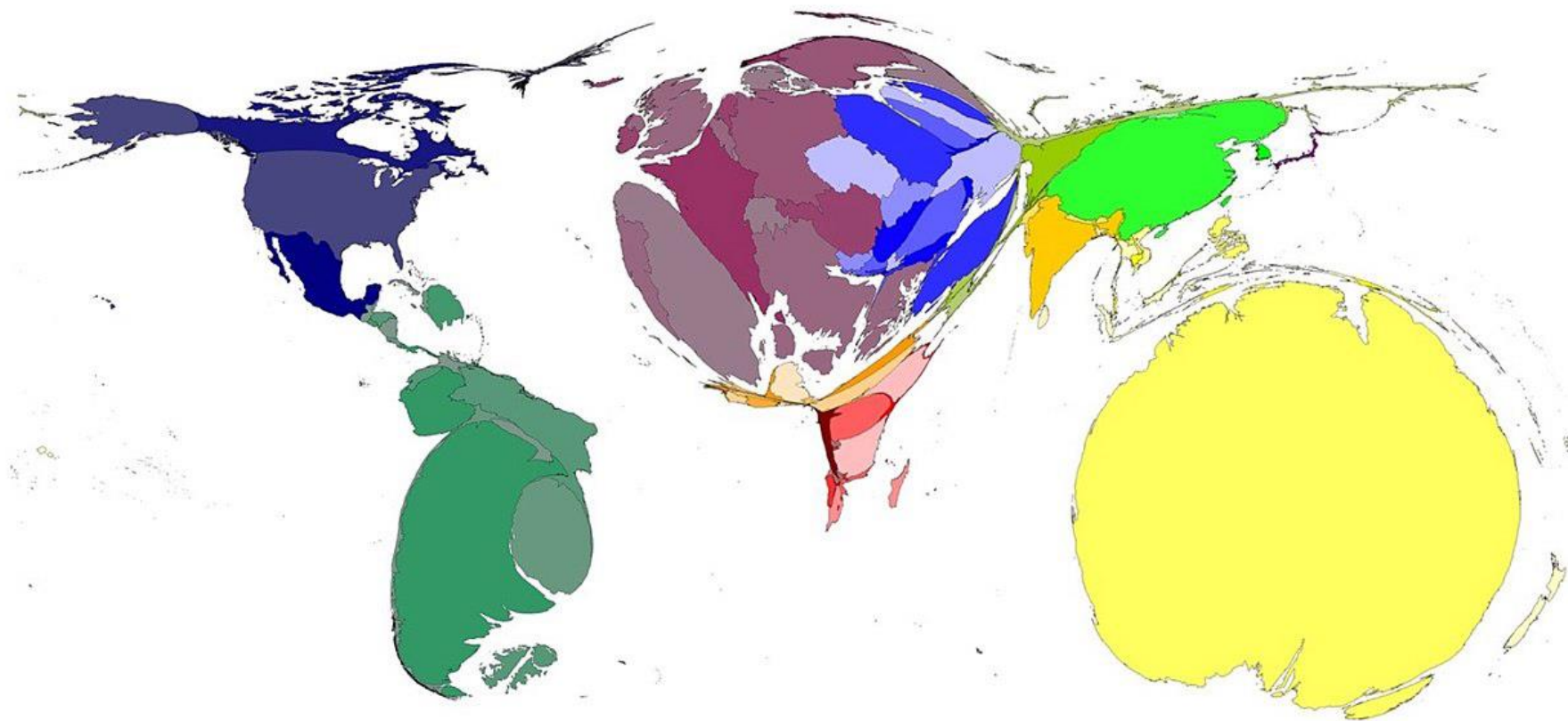
(За правильный ответ – 2 балла)



Вопрос 22: Какой показатель отражает данная карта-анаморфоза?

Варианты ответа: А) уровень развития органического сельского хозяйства; Б) отсутствие доступа к питьевой воде на душу населения; В) производство тонизирующих напитков; Г) обеспеченность медицинского персонала средствами индивидуальной защиты

(За правильный ответ – 1 балл)



Вопрос 23: Национальным блюдом какой страны является гуляш?

Варианты ответа: А) Албания; Б) Венгрия; В) Португалия; Г) Румыния

(За правильный ответ – 1 балл)



Вопрос 24: Определите страну по ее национальной валюте.

Варианты ответа: А) Азербайджан; Б) Армения; В) Грузия;
Г) Туркменистан

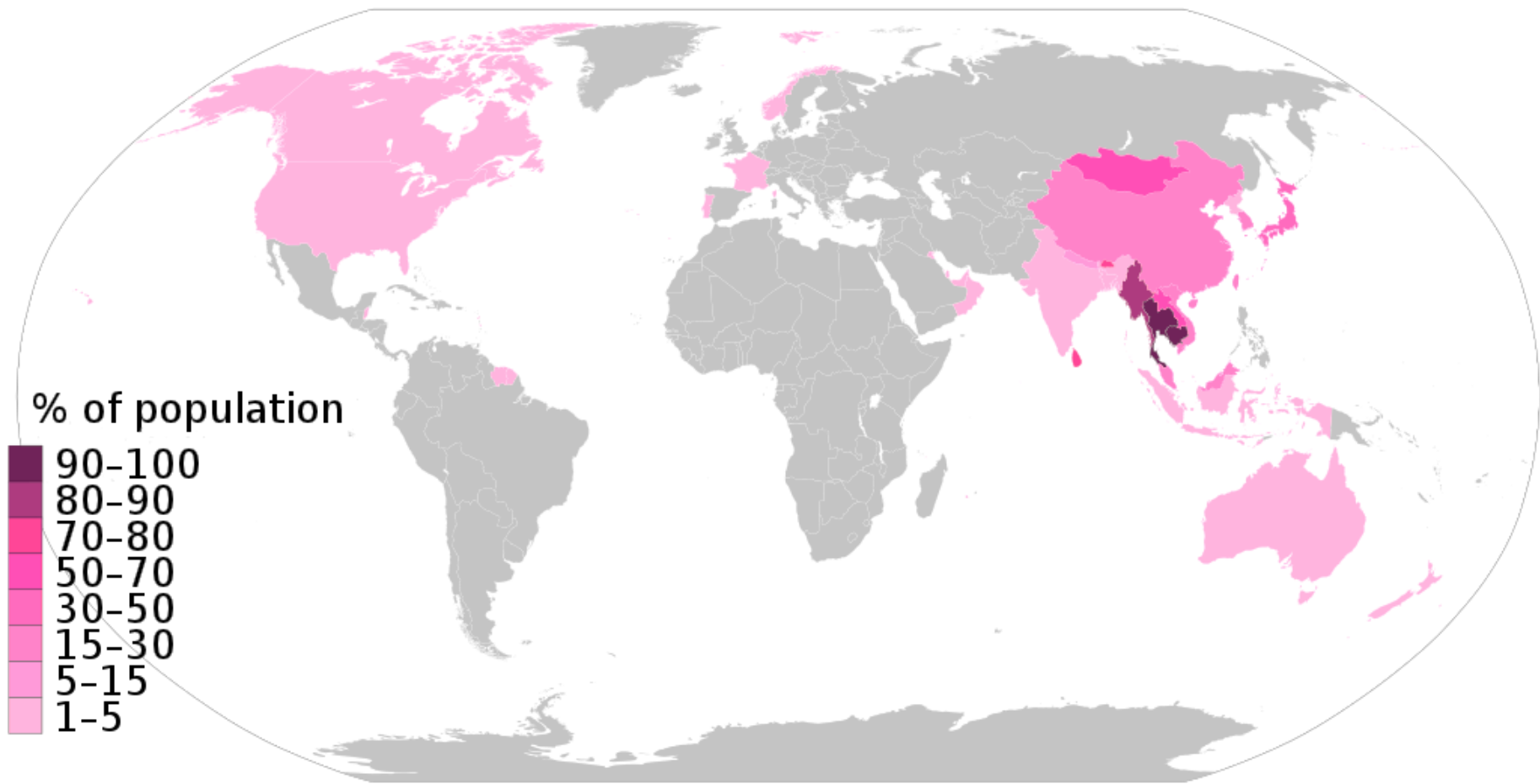
(За правильный ответ – 1 балл)



Вопрос 25: Определите религию по географии ее распространения.

Варианты ответа: А) Буддизм; Б) Индуизм; В) Ислам; Г) Сикхизм


(За правильный ответ – 1 балл)



Вопрос 26: По иллюстрациям определите город Беларуси.

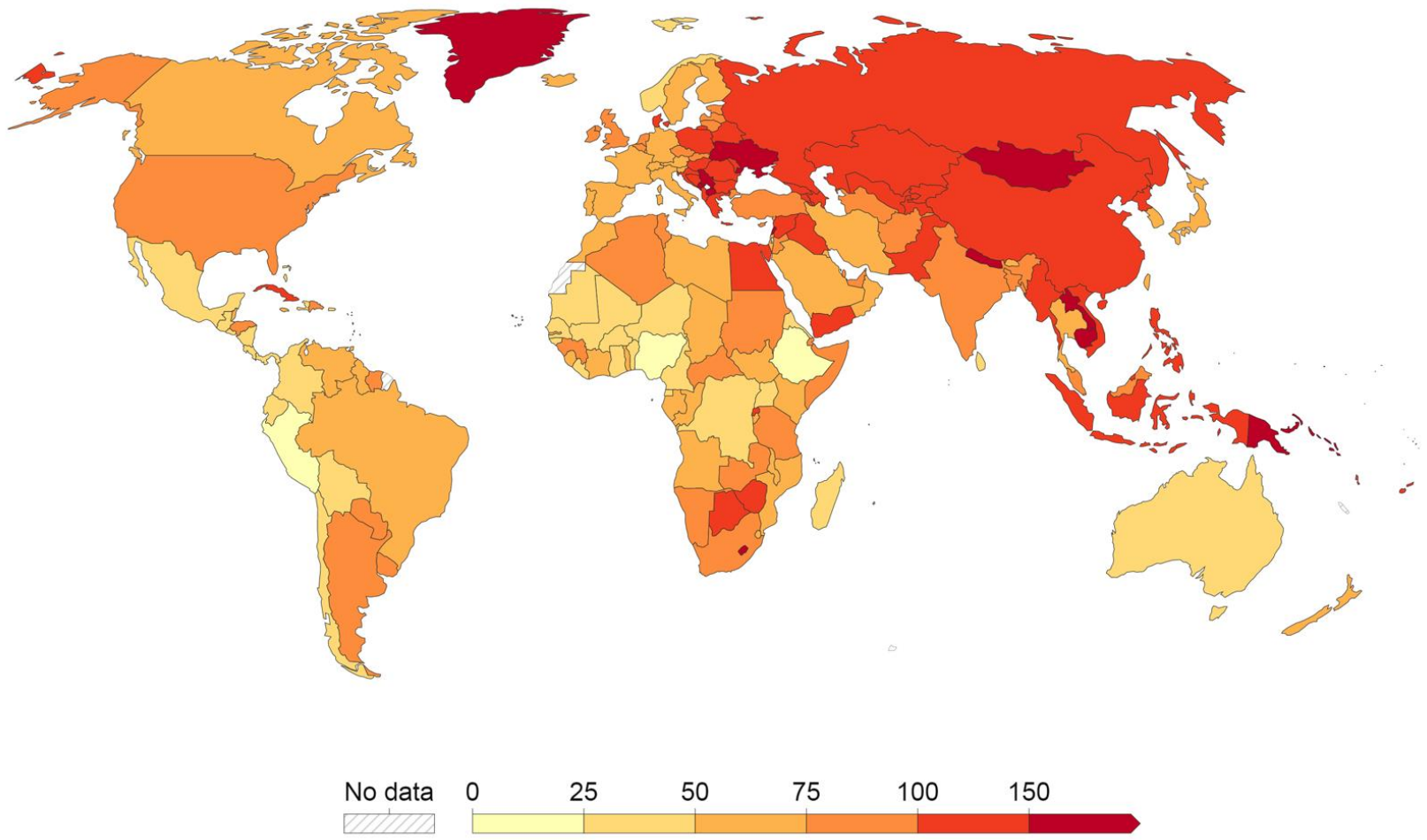
Варианты ответа: А) Верхнедвинск; Б) Иваново; В) Дятлово; Г) Слуцк

(За правильный ответ – 1 балл)



Вопрос 27: Какой показатель отображен на данной картограмме?

- Варианты ответа:** А) обеспеченность населения мобильной связью; Б) уровень преступности; В) количество смертей, связанных с курением; Г) транспортная доступность в городских населенных пунктах
(За правильный ответ – 2 балла)



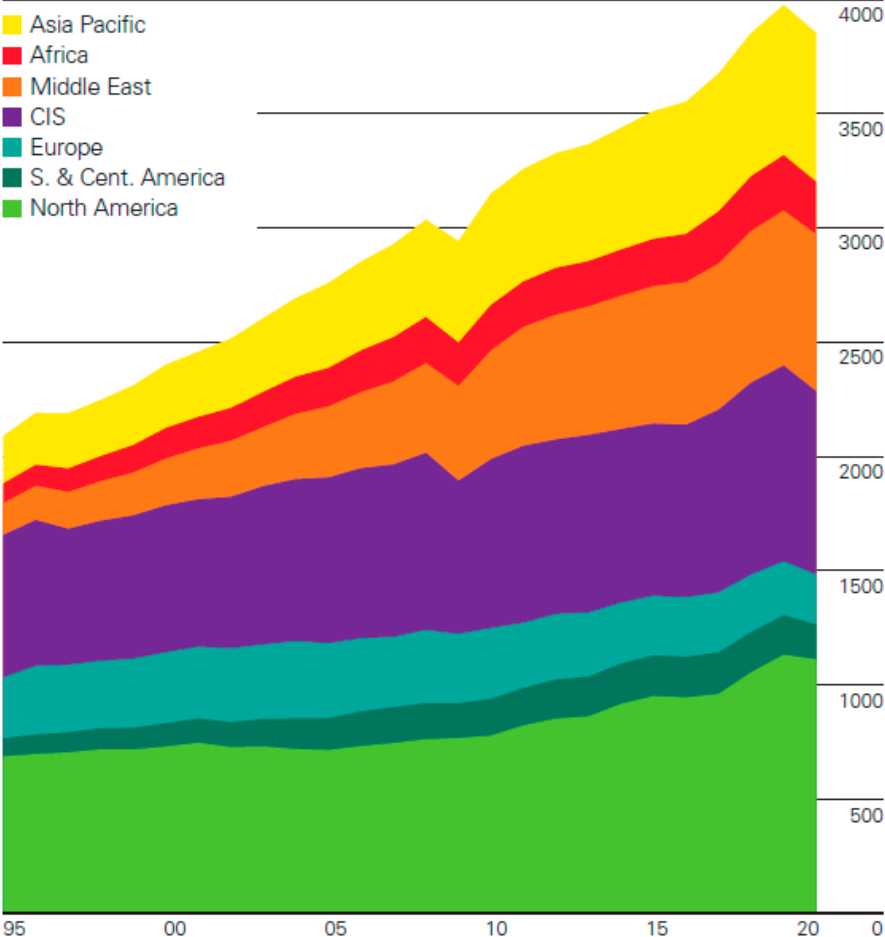
Source: IHME, Global Burden of Disease (2019)

Вопрос 28: Определите по графику какой регион мира лидировал в структуре производства и потребления природного газа 2020 году.

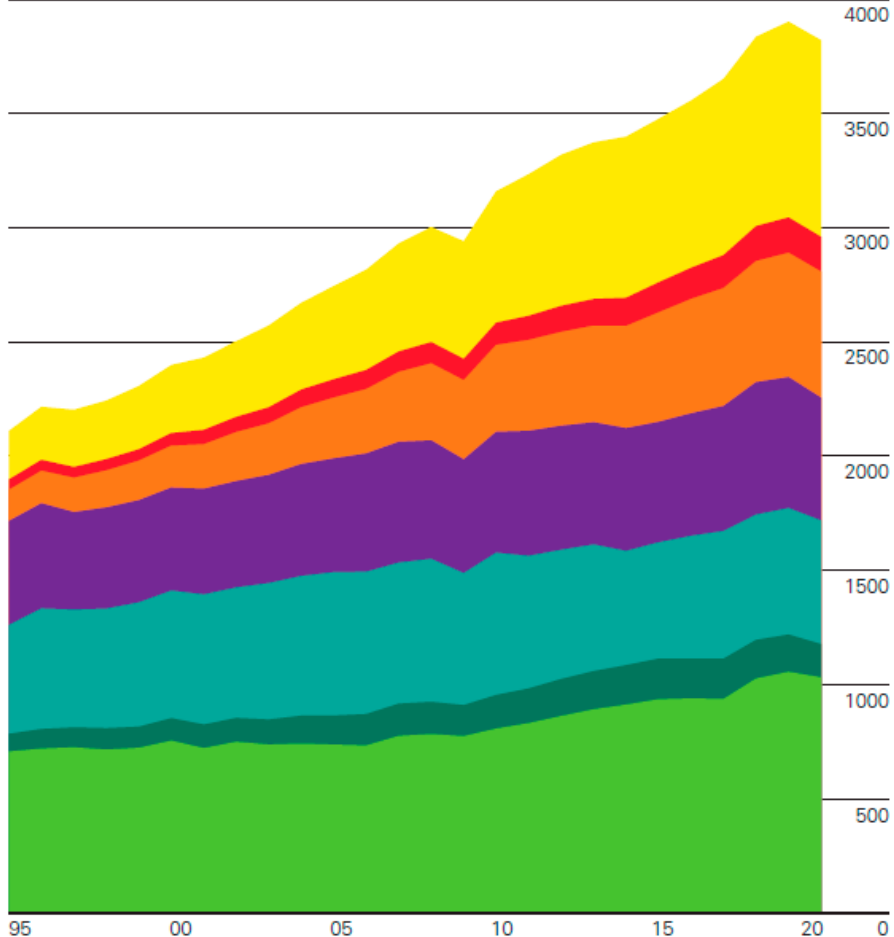
Варианты ответа: А) Азиатско-Тихоокеанский регион; Б) Страны СНГ; В) Европа; Г) Северная Америка

(За правильный ответ – 1 балл)

Natural gas: Production by region
Billion cubic metres



Natural gas: Consumption by region
Billion cubic metres



Вопрос 29: Какой стране принадлежит указанный на рисунке флаг?

Варианты ответа: А) Иордания; Б) Кувейт; В) ОАЭ; Г) Палестина

(За правильный ответ – 2 балла)



Вопрос 30: Назовите один из старейших и самых популярных морских курортов Мексики, который ежегодно привлекает миллионы туристов. Этот курорт прославился в 1950-е годы, став популярным местом отдыха звёзд Голливуда. Ответ запишите.

(За правильный ответ – 2 балла)

