

10 класс

2 тур





Уважаемые участники олимпиады! Вам предлагаются практические задания, на которые необходимо дать краткие ответы. Правильный ответ обведите кружочком. В случае, если вы изменили своё решение, правильный ответ обведите квадратом.

I. Выберите правильный вариант ответа (каждый правильный ответ – 1 балл)	
1. Земледелие и животноводство на территории Беларуси повсеместно утвердилось с наступлением: а) неолита б) бронзового века в) железного века г) средневековья	6. Специальная церемония передачи земли от сеньора к вассалу в период средневековья называлась: а) инвеститура б) феодализм в) вотчина г) оммаж
2. Первой формой религиозных верований человека являлся: а) тотемизм б) фетишизм в) магия г) анимизм	7. В 1157 г. князь Юрий Ярославич возглавил: а) Полоцкое княжество б) Минское княжество в) Туровское княжество г) Гродненское княжество
3. Государство Маурьев достигло расцвета во время правления царя: а) Эхнатона б) Цинь Шихуанди в) Ашоки г) Навуходоносор	8. Монгольская династия, правившая с 1271 г. в Китае носила название: а) Юань б) Тан в) Ямато г) Аббасидов
4. В битве при Херонее в 334 г. до н.э. победу одержали: а) македоняне б) спартанцы в) персы г) афиняне	9. Армия ВКЛ под руководством К. Ходкевича в 1605 г. разгромила шведов в битве: а) под Кирхгольмом б) на реке Нева в) под Вилькомиром г) под Оршей
5. Одним из первых о балтах упоминает римский историк: а) Прокопий Кесарийскими б) Нестор в) Тацит г) Ксенофонт	10. Первый на славянских землях университет был основан в 1348 г. в: а) Праге б) Полоцке в) Варшаве г) Кракове

<p>11. Автором политического плаката под названием «Мир хижинам, война дворцам!» является:</p> <p>а) Я. Дроздович б) М. Шагал в) К. Малевич г) И. Хруцкий</p> <p>12. Манифест, которым провозглашалось образование Социалистической Советской Республики Беларуси (ССРБ), был обнаружен:</p> <p>а) 25 октября 1917 г. б) 1 января 1919 г. в) 25 марта 1918 г. г) 3 марта 1918 г.</p> <p>13. Партизанский парад, посвященный освобождению столицы БССР, состоялся в Минске:</p> <p>а) 25 ноября 1943 г. б) 3 июля 1944 г. в) 28 июля 1944 г. г) 16 июля 1944 г.</p> <p>14. В годы Великой Отечественной войны на железнодорожном узле Орша диверсионную деятельность развернул бывший начальник паровозного депо этого узла</p> <p>а) К. Заслонов б) П. Машеров в) В. Корж г) М. Шмырёв</p> <p>15. Брестский мирный договор был заключен между Германией и Советской Россией:</p> <p>а) 23 февраля 1917 г.</p>	<p>б) 1 января 1919 г. в) 18 марта 1921 г. г) 3 марта 1918 г.</p> <p>16. Когда была принята первая конституция Японии и создан японский парламент:</p> <p>а) 1832, 1833 гг. б) 1854, 1855 гг. в) 1889, 1890 гг. г) 1913, 1914 гг.</p> <p>17. Одним из теоретиков анархо-синдикализма был:</p> <p>а) М. А. Бакунин б) М. М. Сперанский в) А. Ф. Керенский г) А. И. Герцен</p> <p>18. Какой титул принял Кромвель в 1653 г.?</p> <p>а) лорд-канцлер б) лорд-протектор в) лорд-казначей г) король</p> <p>19. В каких войнах участвовала Франция в эпоху правления Людовика XIV?</p> <p>а) война за испанское наследство; б) Тридцатилетняя война; в) Столетняя война; г) семилетняя война.</p> <p>20. Концлагерь, созданный польскими властями на территории Западной Беларуси в 1934 г. находился в:</p> <p>а) Пинске б) Березе-Картузской в) Бресте г) Гродно</p>
---	--

II.	Правильно соотнесите элементы двух множеств (Например: А-1, Б-2) (Каждый полный правильный ответ – 4 балла, в задании №28 – 5 баллов)
------------	---

21. Произведения живописи и их авторов:

			
А-	Б-	В-	Г-
1. М. Савицкий	2. В. Серов	3. В. Волков	4. Я. Дроздович.

22. Соотнесите имена королей польских, великих князей литовских и их жен:

а) Сигизмунд I	1) Анна Ягеллонка		
б) Стефан Баторий	2) Констанция Австрийская		
в) Сигизмунд III Ваза	3) Луиза Лотарингская		
г) Генрих Валуа	4) Бона Сфорца		
А-	Б-	В-	Г-

23. Деятелей науки и страны, в которых они проживали:

а) Н. Бор	1) Англия		
б) В. Рентген	2) Франция		
в) П. Кюри	3) Германия		
г) Э. Резерфорд	4) Дания		
А-	Б-	В-	Г-

24. Деятелей культуры и сферу их деятельности:

а) В. Жуковский	1) кинематограф		
б) Т. Эдисон	2) живопись		
в) Б. Вотье	3) музыка		
г) Г. Берлиоз	4) литература		
А-	Б-	В-	Г-

25. Соотнесите имена исторических личностей с их характеристиками:

а) А.В. Колчак	1) Главнокомандующий Русской армией в Крыму
б) А.И. Деникин	2) Возглавлял силы, действовавшие против большевиков на Северо-Западе, «мастер импровизации»
в) П.Н. Врангель	3) Верховный правитель России
г) Н.Н. Юденич	4) Главнокомандующий Вооруженными силами Юга России

А-	Б-	В-	Г-
26. Соотнесите события Северной войны с годами, в которые они произошли:			
а) Битва под Нарвой		1) 1714 г.	
б) Сражение у д. Лесная		2) 1700 г.	
в) Морское сражение у мыса Гангут		3) 1721 г.	
г) Подписание Ништадтского мирного договора		4) 1708 г.	
А-	Б-	В-	Г-

27. Соотнесите фамилию художника и название картины:			
а) И. Бродский		1) «Революция»	
б) М. Шагал		2) «Декрет о земле»	
в) В. Серов		3) «А.Ф. Керенский»	
г) Н. Воронов		4) «Утро в октябре. Минск. 1917 г.»	
А-	Б-	В-	Г-

28. Произведения литературы и искусства с представленными именами:				
а) «Энеида»		1) Фидий		
б) «Статуя Зевса»		2) Синан		
в) «Площадь Святого Петра в Риме»		3) Вергилий		
г) «Лютнист»		4) Караваджо		
д) «Мечеть Селемие»		5) Дж. Бернини		
А-	Б-	В-	Г-	Д-

III.	Расставьте в правильной хронологической последовательности (Каждый полный ответ 4 балла)
-------------	--

29. Расположите события Второй мировой войны в хронологической последовательности:

А. Белорусская наступательная операция «Багратион»		В. Капитуляция Японии	
Б. Создание антигитлеровской коалиции		Г. Тегеранская конференция	
1	2	3	4

30. Исторические события второй половины XIX века:			
А. Начало издания газеты «Мужыцкая праўда»		В. Начало проведения судебной реформы в Беларуси	
Б. Убийство царя Александра II		Г. Создание группы «Гомон».	
1	2	3	4

31. Получение белорусскими городами магдебургского права:			
А. Полоцк		В. Минск	
Б. Брест		Г. Слуцк	

1	2	3	4
----------	----------	----------	----------

32. Правление королей Речи Посполитой:

А. Генрих Валуа		В. Август II Сильный	
Б. Стефан Баторий		Г. Сигизмунд II Август	
1	2	3	4

33. События первой четверти XX века:

А. Подписание Рижского мирного договора между РСФСР, УССР и Польшей		В. Брестский мирный договор	
Б. Первое территориальное укрупнение БССР		Г. Сен-Жерменский договор с Австрией	
1	2	3	4

34. События XVIII века в истории Речи Посполитой:

А. Война за «Польское наследство»		В. «Великий сойм»	
Б. «Немой» сейм		Г. Создание Торуньской конфедерации	
1	2	3	4

IV.	Выберите правильный вариант ответа За каждый правильный ответ – 2 балла		
35. Верно ли, что: 1) Война за испанское наследство (1701–1714) ознаменовала ослабление падение Испании? 2) Война за испанское наследство (1701–1714) ослабление международных позиций Франции? а) верно 1 б) верно 2 в) верно 1 и 2 г) неверно 1 и 2	б) верно 2 в) верно 1 и 2 г) неверно 1 и 2		
36. Верно ли, что: 1) На Всебелорусском съезде 1917 г. сторонники ВБР добивались провозглашения Беларуси как равноправной республики в составе общероссийской федерации народов? 2) На Всебелорусском съезде 1917 г. делегаты от БОК предлагали областную автономию Беларуси в составе Советской России?	37. Верно ли, что: 1) Роялистский мятеж 1795 г. в Париже был подавлен Робеспьером? 2) 1804 г. «императором французов» стал Наполеон III? а) верно 1 б) верно 2 в) верно 1 и 2 г) неверно 1 и 2		
	38. Верно ли, что: 1) США приобрели Западную Луизиану за 45 млн долларов у Испании? 2) Массовое общенациональное движение против рабства в США называлось протекционизм? а) верно 1 б) верно 2		

а) верно 1	в) верно 1 и 2
г) неверно 1 и 2 39. Верно ли, что: 1) «зелёная революция» произошла в Ираке; 2) результатом «зелёной	революции» стала исламизация Ирана а) верно 1 б) верно 2 в) верно 1 и 2 г) неверно 1 и 2

V.	Определите следующие понятия (Каждый правильный ответ – 1 балл)	
40.		это исторический процесс становления человеческой личности и межличностных взаимоотношений, а также формирования собственно человеческого общества с системой социальных отношений.
41.		глава городского ополчения в древнерусских городах
42.		арендаторы земли в Древнем Риме. Колоны получали от землевладельца право обрабатывать (арендовать) участок земли, а взамен выплачивали ему денежный налог. В IV веке они были прикреплены к земле своего хозяина и уже не могли уйти от него.
43.		феодално-зависимые крестьяне в ВКЛ и Российской империи, которых селили на небольших участках земли и обязывали исполнять определенные повинности.
44.		выборный орган местного самоуправления в Российской империи во второй половине XIX – начале XX вв.
45.		верующие-христиане, которые не придерживались господствующего вероисповедания, преимущественно в странах, где государственной или господствующей религией являлось католичество или протестантизм
46.		радикальные экономические реформы перехода к рыночной экономике, осуществляющиеся в короткие сроки и сопровождающиеся рядом отрицательных последствий: инфляцией, ростом безработицы, падением уровня жизни и т. д.
47.		комплекс мероприятий самодержавия, в результате которых большая часть мелкой шляхты исключалась из дворянства и переводилась в податные сословия
48.		политическое течение, направленное против левых и либеральных деятелей и организаций в США. Свое название получило по имени его организатора.

49.	особая форма народовластия в Республике Беларусь, общее собрание представителей власти и белорусского общества, на котором обсуждаются результаты социально-экономического развития и утверждаются планы на следующий пятилетний срок.
------------	--

VI.	Отметьте «птичкой» в соответствующем месте, какое событие произошло раньше За каждый правильный ответ – 1 балл			
50.	Исчезновение милоградской археологической культуры	или		Появление вельбарской археологической культуры
51.	Битва при Пуатье	или		Грюнвальдская битва
52.	Утрехтская уния	или		Кейданская уния
53.	Венский конгресс	или		Первый раздел Речи Посполитой
54.	«Славная революция» в Англии	или		Термидорианский переворот
55.	Начало религиозных войн между католиками и протестантами во Франции	или		Опубликование «95 тезисов» М. Лютера. Начало Реформации в Германии
56.	Война в Боснии и Герцеговине между сербскими и хорватско-мусульманскими отрядами	или		Начало военных действий между сербами и албанцами в сербском крае Косово
57.	Подписание Рижского мирного договора	или		Подписание Брестского мирного договора
58.	Карибский кризис	или		Подписание Заключительного акта Совещания по безопасности и сотрудничеству в Европе (СБСЕ)
59.	Исламская революция в Иране	или		Четвертая республика во Франции

VII	Правильно расшифруйте аббревиатуры (Каждый правильный ответ – 1 балл)	
60.	СЭВ	
61.	СРЮ	

62.	КПК	
-----	-----	--

VIII. Определите историческое событие, которое отражено на картинах и в каком году они произошли
(Каждый полный ответ – 2 балла. Всего за выполнение задания – 12 баллов)



63.



64.



65.



66.






67.	68.

IX. **Определите авторов и названия произведений**
(Каждый полный ответ 2 балла. Всего за задания – 12 баллов)

		
69.	70.	71.
		
72.	73.	74.

X. **Определите памятники архитектуры и город, где они находятся**
(Каждый полный ответ 2 балла. Всего за задание – 6 баллов)

		
---	--	---

75.	76.	77.
------------	------------	------------