

Третий этап республиканской олимпиады по учебному предмету «География»  
2021/2022 учебный год

**11 класс.**  
**Мультимедиа-тест.**  
**Вариант 2**

**УВАЖАЕМЫЙ ОЛИМПИОНИК!**

На выполнение заданий мультимедиа-теста отводится 1 час (60 минут).

Ты имеешь право просматривать слайды в произвольном порядке и в свободном ритме.

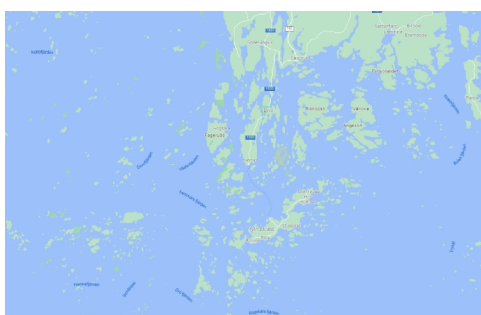
Ответы на задания мультимедиа-теста необходимо вписать в предлагаемый бланк ответов.

По результатам мультимедиа-теста можно получить максимум 40 баллов.

**ЖЕЛАЕМ ТЕБЕ УДАЧИ!**

**Вопрос 1:** Какой тип берега представлен на слайде?  
**Варианты ответа:** А) рiasовой; Б) далматинский; В) шхерный; Г) лиманный

(За правильный ответ – 1 балл)







**Вопрос 2:** На рисунке изображён археоптерикс — вымершее животное, обитавшее 150-147 млн лет назад. Определите, в какой эре и каком периоде обитал данный организм?

**Варианты ответа:** А) мезозой, юрский период; Б) мезозой, триасовый период; В) палеозой, каменноугольный период; Г) кайнозой, палеогеновый период

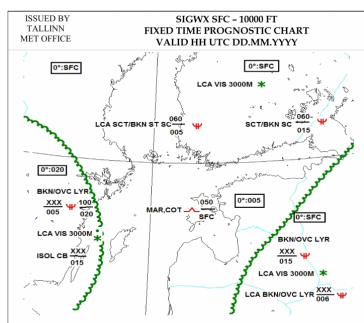
(За правильный ответ – 2 балла)



**Вопрос 3:** Вашему вниманию представлены карта особых явлений погоды на низких высотах для обслуживания полётов. Карта содержит прогноз особых метеорологических условий и данные об облачности. Какой символ характеризует умеренную турбулентность?

**Варианты ответа:** А) ; Б) ; В) ; Г) 

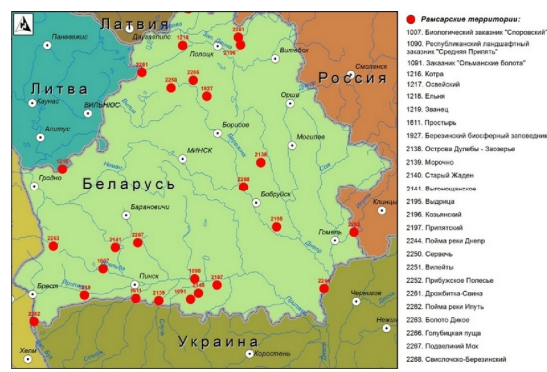
(За правильный ответ – 2 балла)



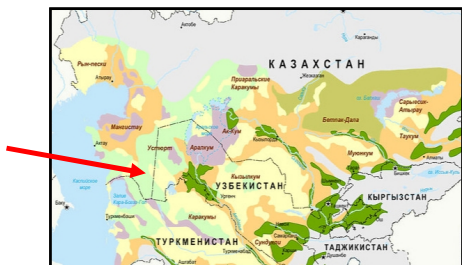
**Вопрос 4:** Какой заказник имеет статус биосферного резервата ЮНЕСКО?

**Варианты ответа:** А) Выдрица; Б) Котра; В) Вилейты; Г) Прибужское Полесье

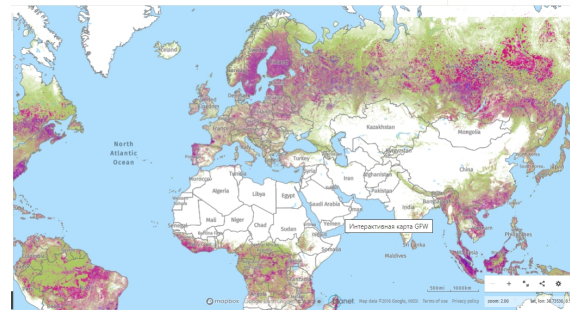
(За правильный ответ – 1 балл)



**Вопрос 5:** Проанализируйте картосхему типов среднеазиатских пустынь и определите, какие пустыни на ней обозначены светло-зеленым цветом.  
**Варианты ответа:** А) глинистые; Б) каменные (гипсовые); В) песчаные; Г) солончаковые  
 (За правильный ответ – 1 балл)



**Вопрос 6:** Что изображено на картосхеме сиреневым цветом (период 2001-2020 гг.)?  
**Варианты ответа:** А) радиоактивное загрязнение; Б) загрязнение рек; В) увеличение биоразнообразия; Г) утрата древесного покрова  
 (За правильный ответ – 1 балл)




**Вопрос 7:** Найдите «лишнее» слово в строке группы терминов. В качестве ответа запишите букву варианта ответа и сам «лишний» термин.  
**Варианты ответа:** А) регуры, смолницы, брунизем; Б) шибляк, гаруа, фригана; В) гамада, серир, рег; Г) ватты, марши, польдеры  
 (За правильный ответ – 2 балла)



**Вопрос 8:** Название произошло из эвенкийского слова, обозначающего «высокая безлесная гора». На склонах – горная тайга; на гольцах кедровый стланик и горная тундра. Что это за хребет?  
**Варианты ответа:** Название хребта запишите.  
 (За правильный ответ – 2 балла)



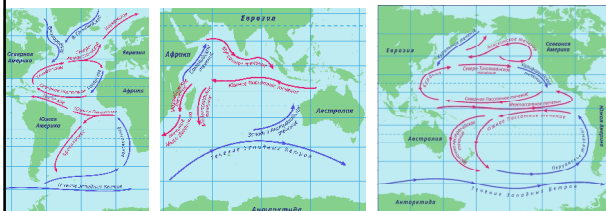
**Вопрос 9:** По графике определите город Беларуси.  
**Варианты ответа:** А) Лунинец; Б) Кобрин; В) Мозырь; Г) Речица  
 (За правильный ответ – 1 балл)




**Вопрос 10:** Узнай страну по инфографике?  
 В ответе запишите название страны.  
 (За правильный ответ – 1 балл)



**Вопрос 11:** Какое из течений НЕ относится к подповерхностным?  
**Варианты ответа:** А) Ломоносова; Б) Кромвела; В) Гюнтера; Г) Гумбольдта  
 (За правильный ответ – 2 балла)



**Вопрос 12:** В какой из стран в 1989 году была подписана Конвенция о контроле за трансграничной перевозкой опасных отходов и их удалением?  
**Варианты ответа:** А) Иран; Б) Швейцария; В) Австрия; Г) Дания  
 (За правильный ответ – 1 балл)




**Вопрос 13:** Что объединяет населенные пункты, представленные на слайде?  
**Варианты ответа:** А) содержание золота в песках; Б) высокий радиационный фон; В) рекреационная нагрузка; Г) уровень загрязнения побережья нефтепродуктами  
 (За правильный ответ – 1 балл)



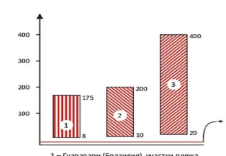
Керала, Индия



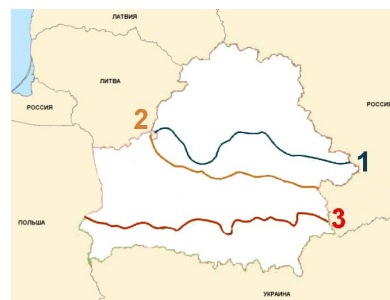
Рамсар, Иран



Гуарапари, Бразилия



**Вопрос 14:** Ареалы северных и южных границ сплошного распространения каких лесов показаны цифрами на карте? Выберите верный вариант.  
**Варианты ответа:** А) 1-грабняки, 2-сероольшанники, 3-ельники; Б) 1-сероольшанники, 2-грабняки, 3-ельники; В) 1-грабняки, 2-ельники, 3-сероольшанники; Г) 1-сероольшанники, 2-ельники, 3-грабняки  
 (За правильный ответ – 1 балл)

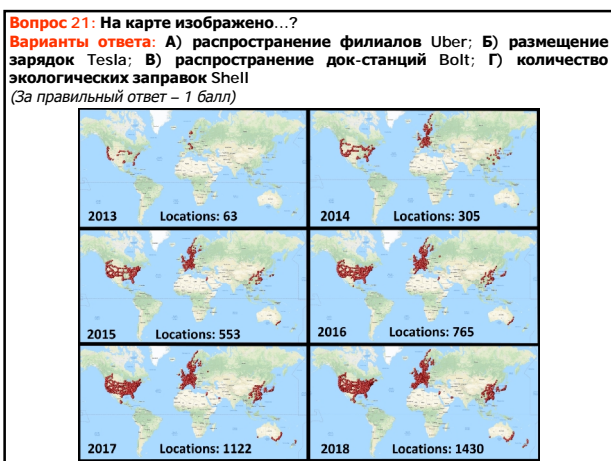


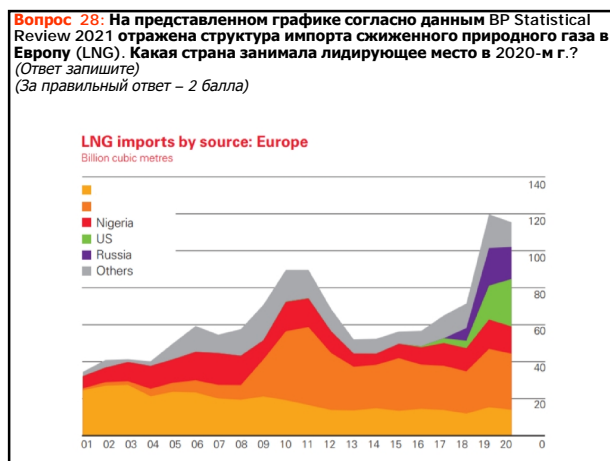
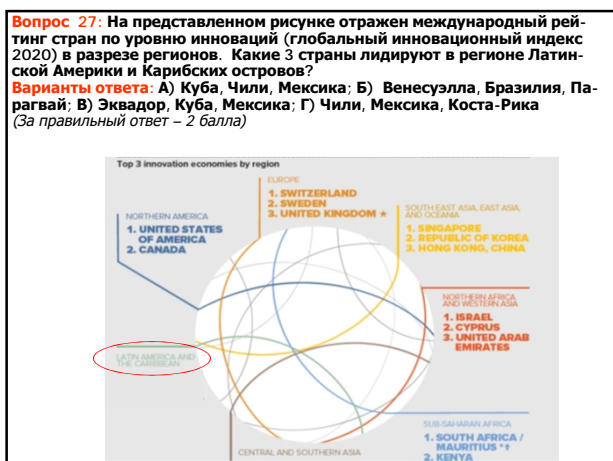
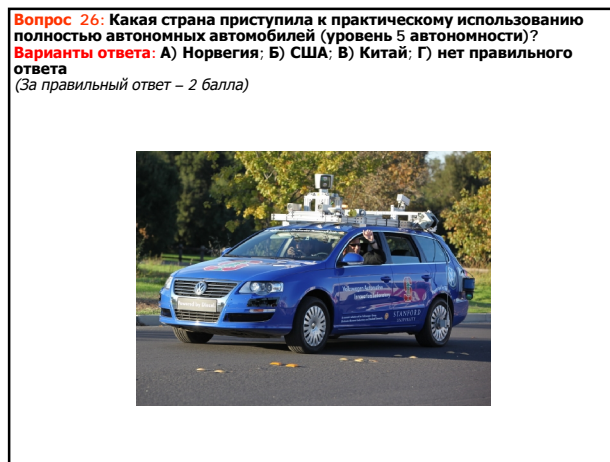
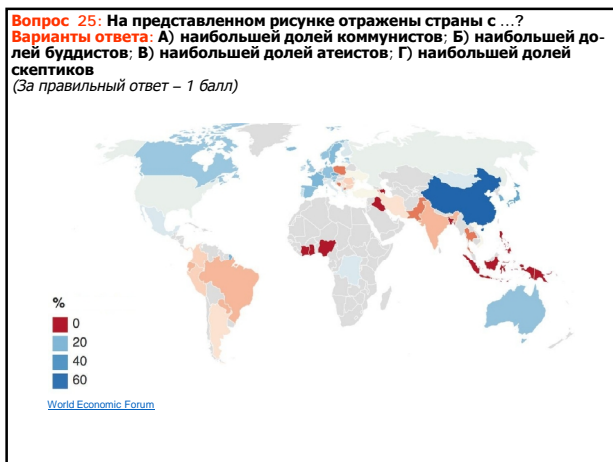
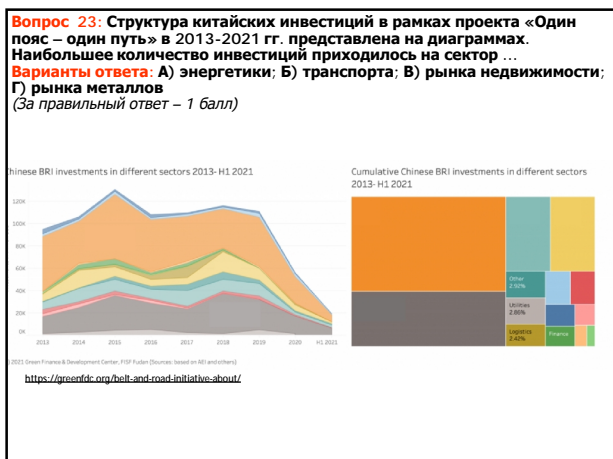
**Вопрос 15:** Выберите правильное определение для меромиктического озера.  
**Варианты ответа:** А) озеро, концентрация солей в котором настолько велика, что возможна их кристаллизация и выпадение в осадок на дно; Б) озеро, бедное питательными веществами и кислородом, с большим количеством органических кислот; В) озеро, не имеющее поверхностного или подземного стока; Г) озеро, в котором практически отсутствует циркуляция воды между слоями  
 (За правильный ответ – 1 балл)



**Вопрос 16:** Определите, горы какой складчатости НЕ представлены на слайде?  
**Варианты ответа:** А) герцинской; Б) альпийской; В) каледонской; Г) байкальской  
 (За правильный ответ – 1 балл)









**Вопрос 30:** Какая страна являлась крупнейшим экспортером товаров в 2020 г.?

**Варианты ответа:** А) Китай; Б) США; В) Германия; Г) Япония  
(За правильный ответ – 1 балл)

