

Заключительный этап республиканской олимпиады по учебному предмету «География»
2022/2023 учебный год

Мультимедиа-тест.

Вариант 1

УВАЖАЕМЫЙ ОЛИМПИОНИК!

На выполнение заданий мультимедиа-теста отводится 1 час (60 минут).

Ты имеешь право просматривать слайды в произвольном порядке и в свободном ритме.

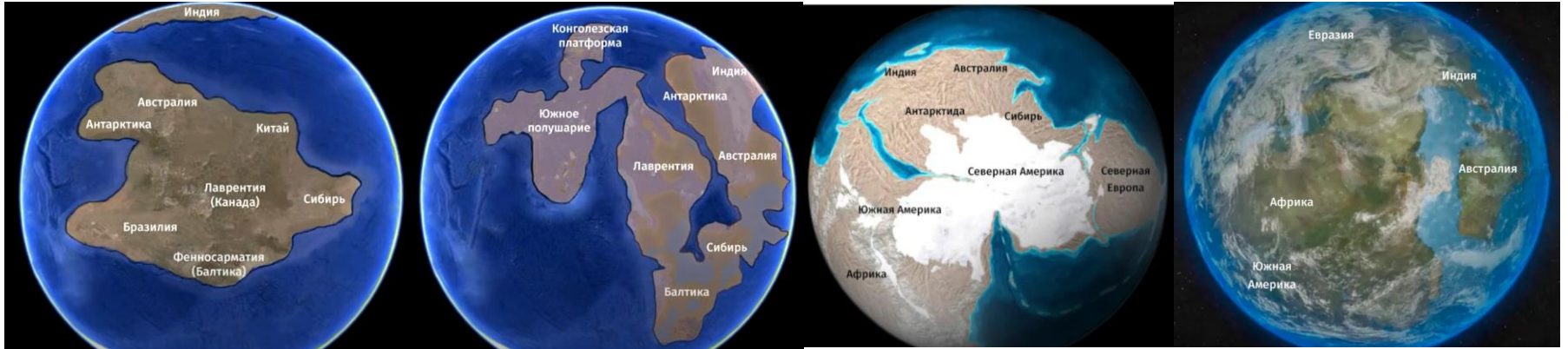
Ответы на задания мультимедиа-теста необходимо вписать в предлагаемый бланк ответов.

По результатам мультимедиа-теста можно получить максимум 40 баллов.

ЖЕЛАЕМ ТЕБЕ УДАЧИ!

Вопрос 1: Отметьте правильную последовательность в существовании суперконтинентов (начиная от более ранних этапов развития).

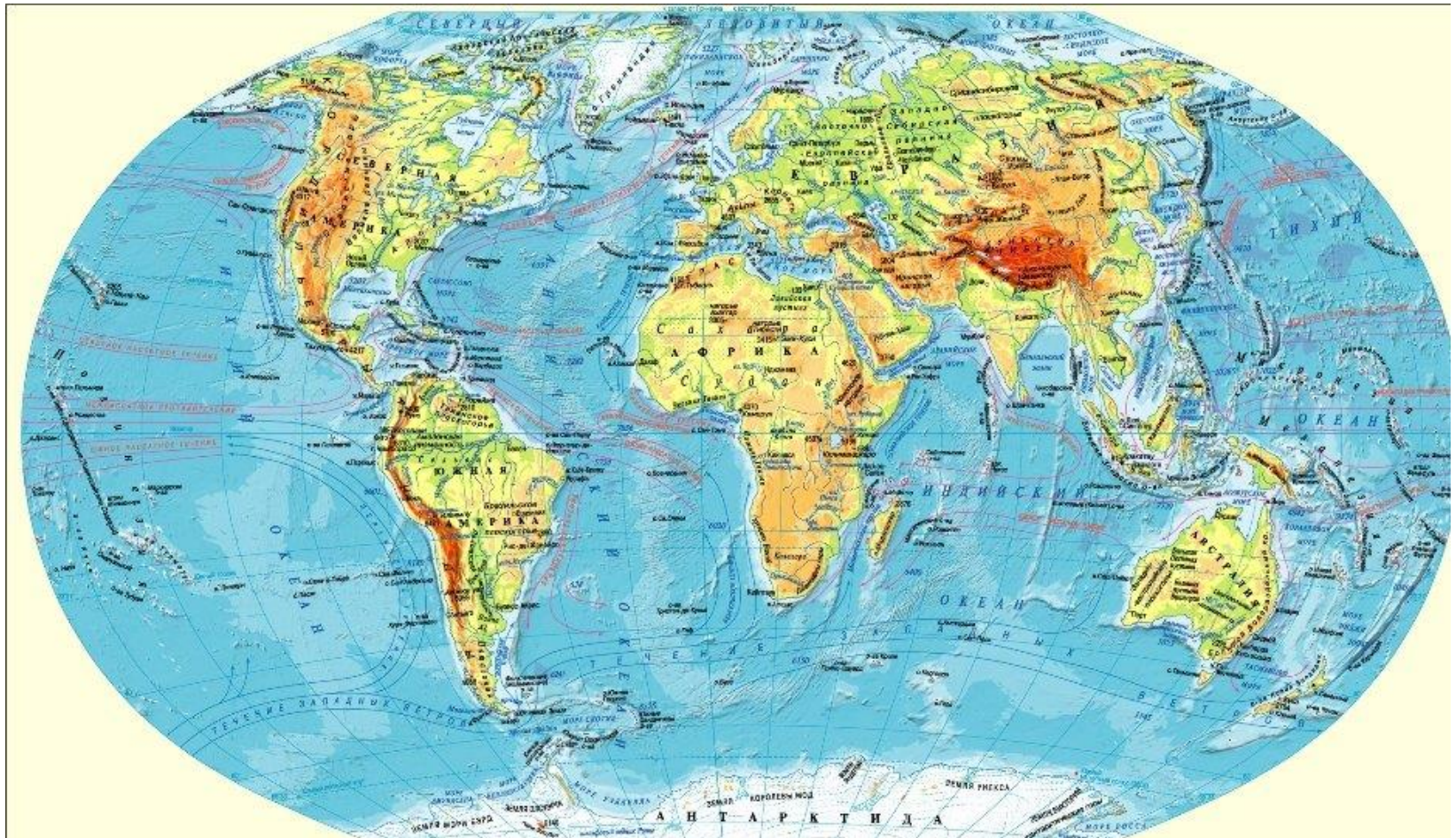
Варианты ответа: А) Колумбия (или Нуна) - Кенорленд - Родиния - Пангея; Б) Кенорленд - Колумбия (или Нуна) – Родиния - Пангея; В) Родиния - Колумбия (или Нуна) - Кенорленд - Пангея; Г) Родиния – Пангея - Колумбия (или Нуна) - Кенорленд
(За правильный ответ – 1 балл)



Вопрос 2: Укажите правильную последовательность расположения географических объектов с севера на юг:

Варианты ответа: А) мысы Мерчисон-Принца Уэльского-Челюскин-Дежнева; Б) острова Святой Елены-Тимор-Минданао-Мартиника; В) вулканы Лаки-Килауэа-Даллол-Эребус; Г) желоба Марианский-Филиппинский-Кермадек-Тонга

(За правильный ответ – 1 балл)



Вопрос 3: Рассмотрите фотографии. Название этой реки происходит от местного наречия племени макололо. Мост через реку и остров в центре вершины каньона носят имя человека, впервые открывшего объект, который позже был включен в список Всемирного наследия. Укажите название реки и фамилию ученого-путешественника. Ответ запишите.
(За правильный ответ – 2 балла)



Вопрос 4: Национальный банк Беларуси в 2021 году выпустил в обращение памятные монеты серии «Архітэктурная спадчына Беларусі». Соотнесите монеты с названиями мест, в которых расположены архитектурные достопримечательности.

Варианты ответа: А) Несвиж; Б) Чечерск; В) Сынкавичи; Г) Ружаны
(За правильный ответ – 2 балла)

1



2



3

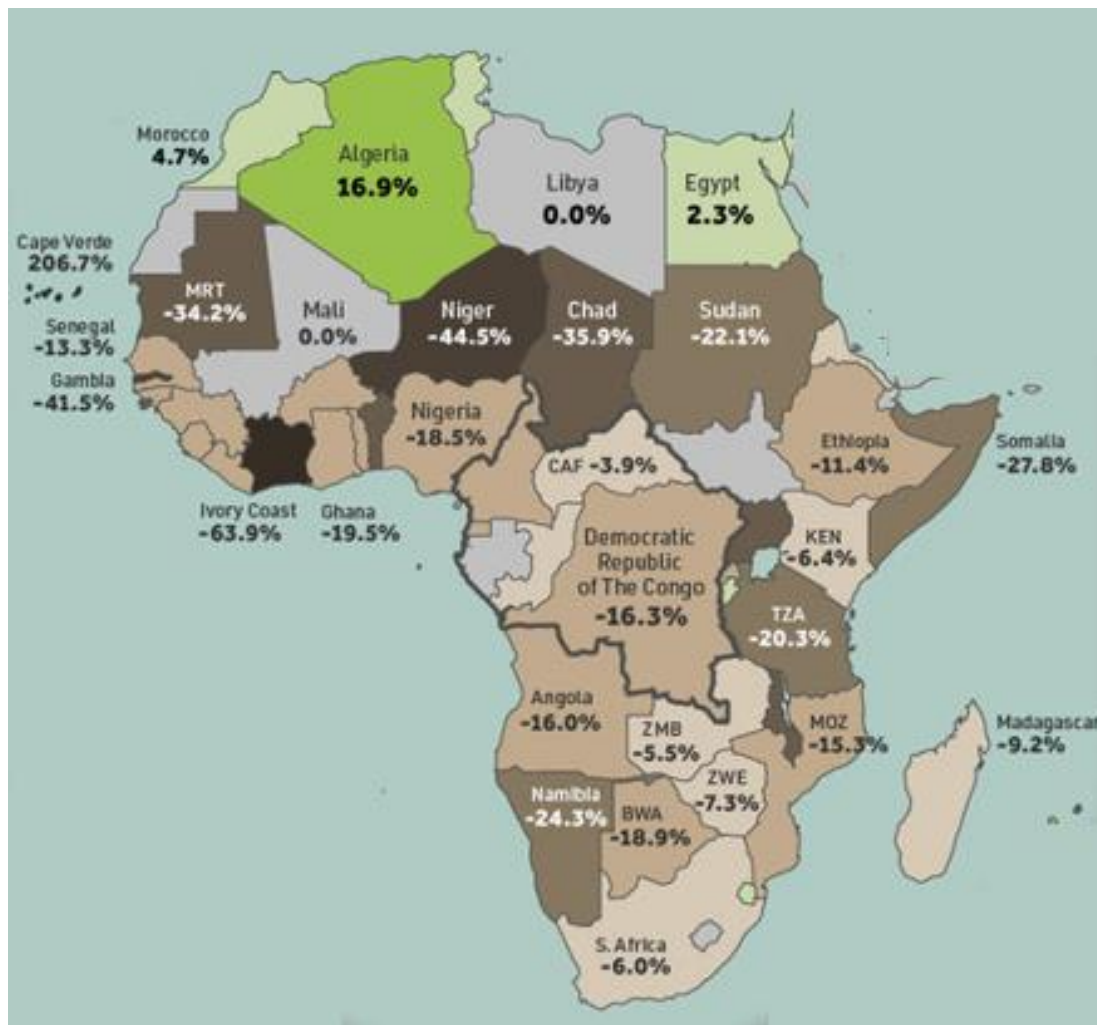


4



Вопрос 5: Какие изменения отражает представленная инфографика (с 1990 по 2020 гг.)?

Варианты ответа: А) площадь лесов; Б) количество представителей животного мира; В) площадь сельскохозяйственных земель; Г) выполнение международных проектов по защите окружающей среды
(За правильный ответ – 1 балл)



Вопрос 6: Найдите «белую ворону» в представленных терминах.
Варианты ответа: А) вади; Б) узбой; В) курумы; Г) арройо
(За правильный ответ – 1 балл)



Вопрос 7: Из древесины какого дерева был сделан плот «Кон-Тики», на котором Тур Хейердал пересек Тихий океан?

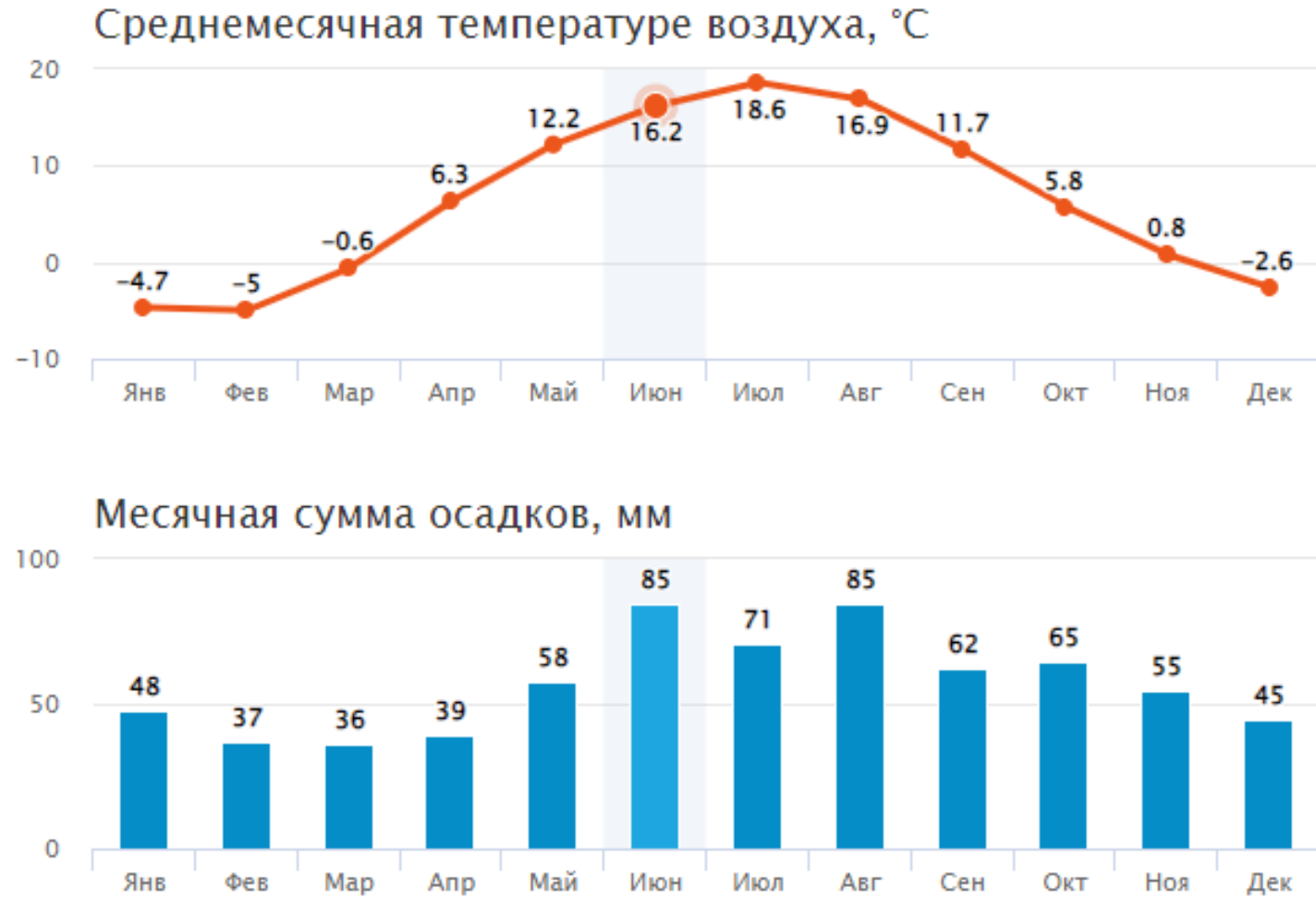
Варианты ответа: А) сейба; Б) араукария; В) бальса; Г) пробковый дуб

(За правильный ответ – 1 балл)



Вопрос 8: Проанализируйте и определите пункт России, характеристики климата которого отражены в климатограмме.

Варианты ответа: А) Псков; Б) Пермь; В) Сочи; Г) Ставрополь
(За правильный ответ – 1 балл)



Вопрос 9: Установите соответствие между национальным парком и фотографией.

Варианты ответа: А) Сарек; Б) Ману; В) Банф; Г) Цаво

Ответ запишите в формате: А1; Б2; В3; Г4

(За правильный ответ – 2 балла)

1



2



3

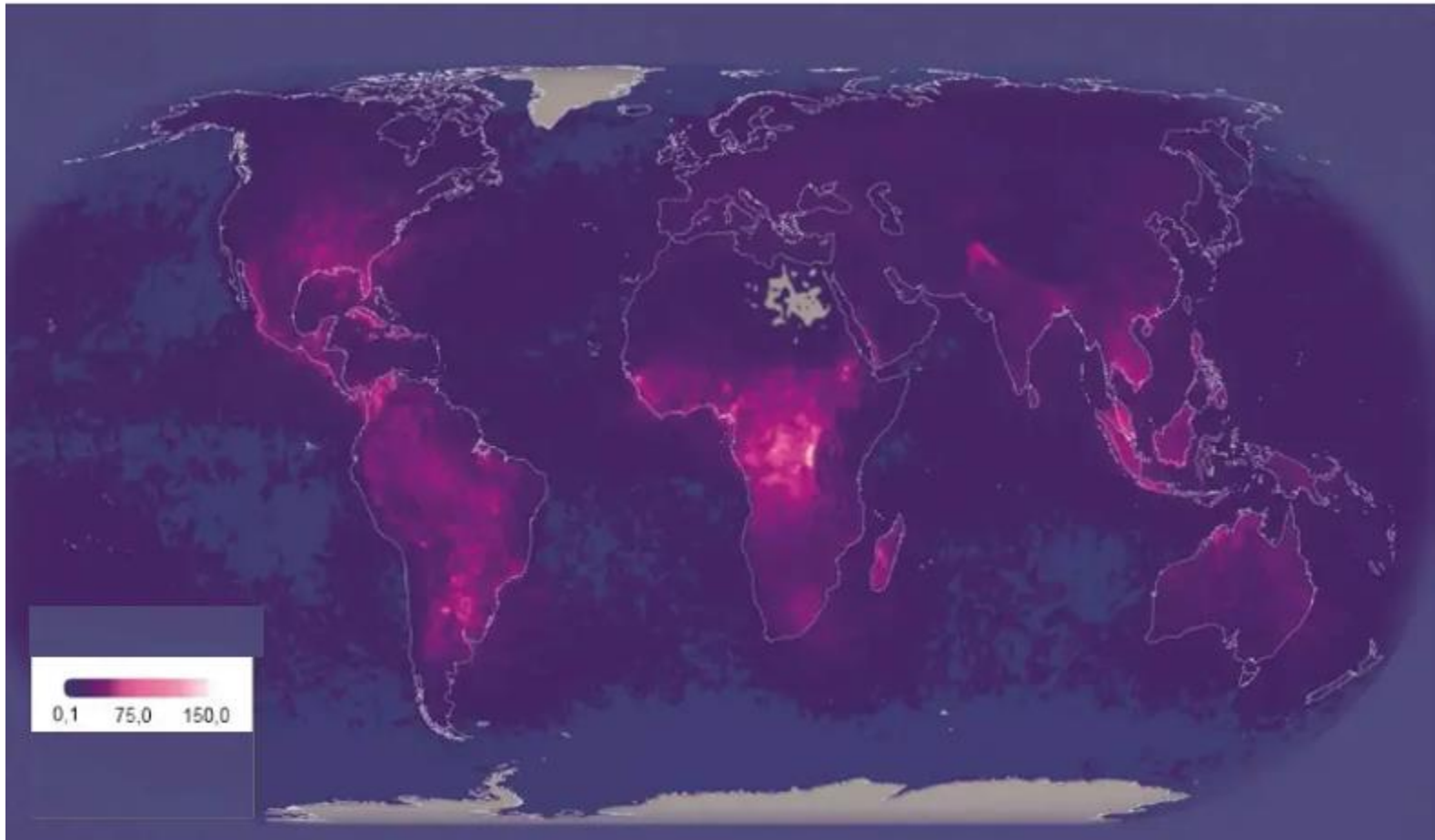


4



Вопрос 10: На карте показана:

Варианты ответа: А) интенсивность пожаров; Б) молниевая активность;
В) биоемкость региона; Г) заболоченность
(За правильный ответ – 1 балл)




Вопрос 11: Соотнесите географические памятники с местами, где они расположены.

Варианты ответа: А) Бразилия (г.Макапа); Б) Австралия (г.Бунарга); В) США (г. Энтерпрайз); Г) Россия (г. Кызыл)

Ответ запишите в формате: А1; Б2; В3; Г4

(За правильный ответ – 2 балла)

1



3



2



4



Вопрос 12: Тапиры НЕ обитают в естественных условиях в:
Варианты ответа: А) Южной Америке; Б) Центральной Америке; В) Юго-Восточной Азии; Г) Африке
(За правильный ответ – 1 балл)



Тапир Бэрда



Тапир равнинный



Горный тапир



Чепрачный тапир

Вопрос 13: На рисунке изображены отвалы карьера «Павлиний хвост» в Чукикамата. Разработка какого полезного ископаемого здесь ведется? Выберите вариант ответа и запишите страну, где находится карьер.

Варианты ответа: А) алмазов; Б) бурого угля; В) изумрудов ; Г) меди

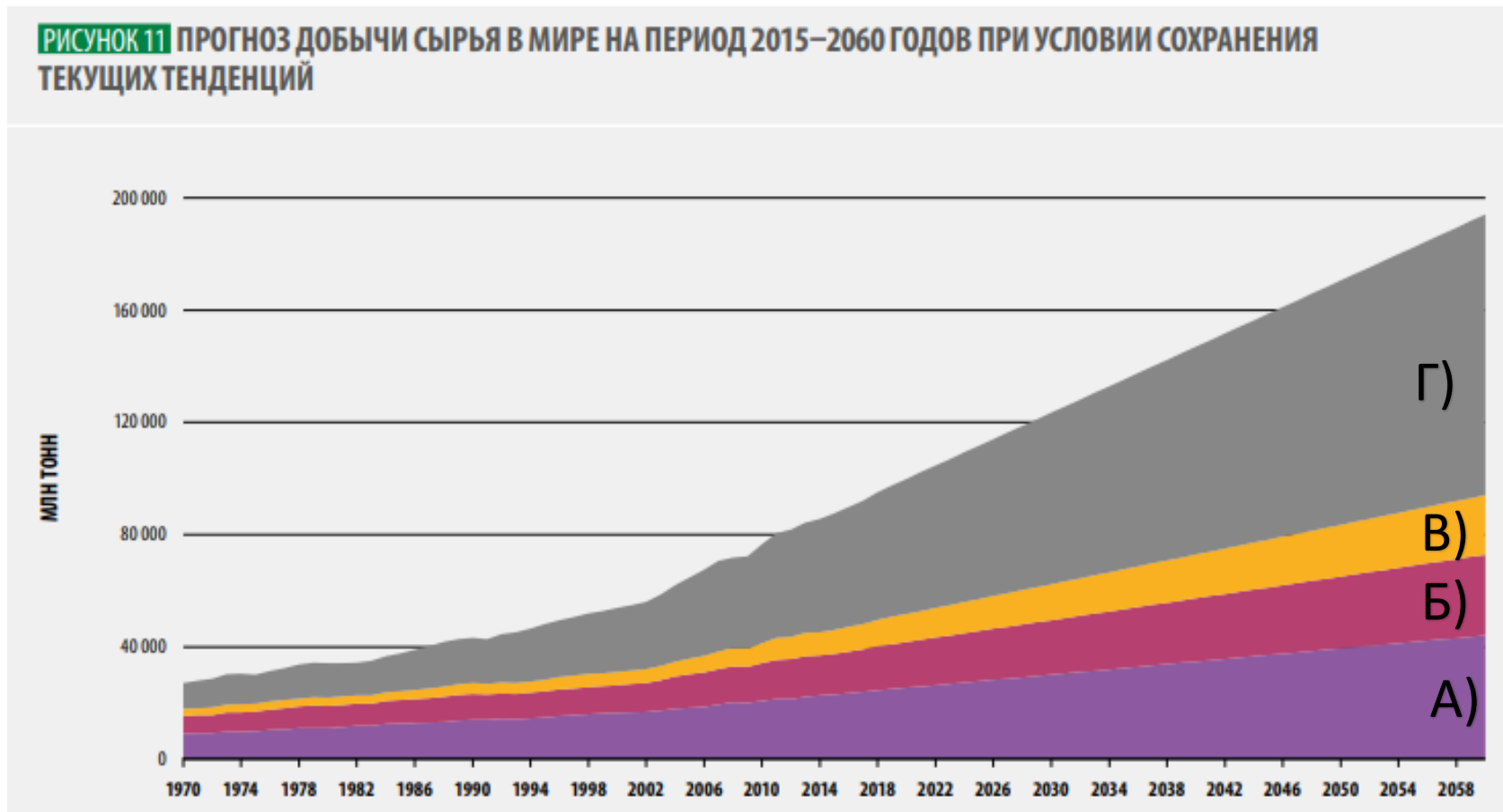
Ваш ответ:

(За правильный ответ – 2 балла)



Вопрос 14: На рисунке представлен прогноз добычи таких видов сырья, как ископаемые виды топлива, металлические руды, неметаллические полезные ископаемые и биомасса. Каким цветом обозначен прогноз добычи биомассы?

Варианты ответа: А) сиреневым; Б) бордовым; В) желтым ; Г) серым
(За правильный ответ – 1 балл)



ИСТОЧНИК: Oberle, B., Bringezu, S., Hatfield-Dodds, S., Hellweg, S., Schandl, H. & Clement, J. 2019. Global resources outlook 2019 – Natural resources for the future we want. Nairobi, United Nations Environment Programme.

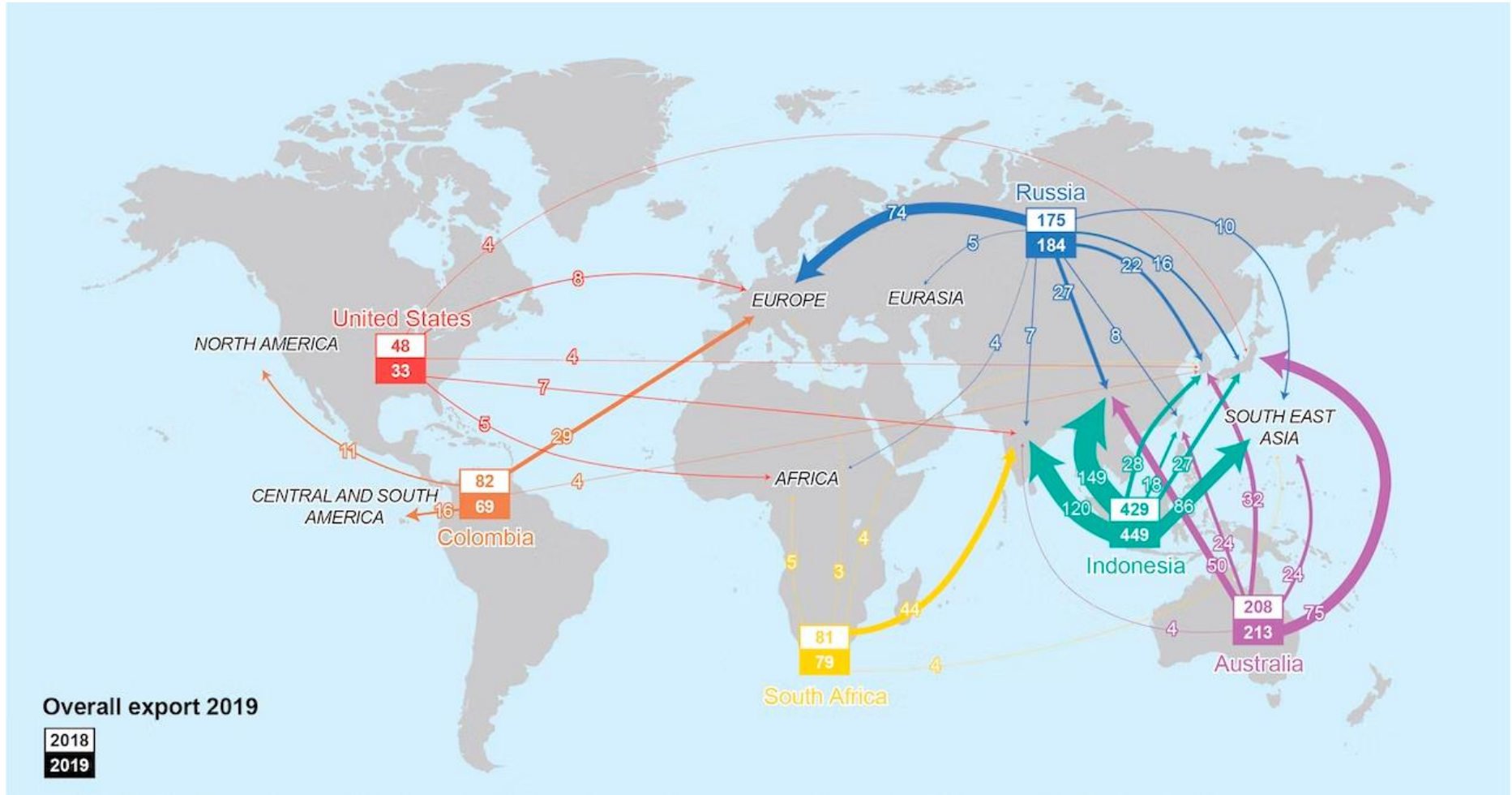
Вопрос 15: Какая страна зашифрована в символах?

Варианты ответа: А) Португалия; Б) Испания; В) Италия; Г) Греция
(За правильный ответ – 1 балл)



Вопрос 16: Важнейшие мировые торговые потоки какой продукции отражены на данной картосхеме?


Варианты ответа: А) железная руда; Б) нефть; В) пшеница; Г) уголь.
(За правильный ответ – 1 балл)



Вопрос 17: Какая из перечисленных стран входит в число мировых лидеров по запасам и производству олова?

Варианты ответа: А) Аргентина; Б) Ботсвана; В) Индонезия; Г) Канада.

(За правильный ответ – 1 балл)



Вопрос 18: Какой архитектурный объект изображен на иллюстрации?

Варианты ответа: А) дворец Святополк-Четвертинских в Желудке; Б) усадьба Гатовских-Поклевских-Козелл в Красном Береге; В) дворец Румянцевых и Паскевичей в Гомеле; Г) дворец Пусловских в Коссово.


(За правильный ответ – 1 балл)



Вопрос 19: Перед Вами изображения логотипов известных во всем мире компаний. Определите страну, где размещаются их штаб-квартиры.

Варианты ответа: А) Ирландия; Б) Испания; В) Франция; Г) Швейцария.

(За правильный ответ – 1 балл)



UBS



NOVARTIS



Nestlé

Вопрос 20: Как называется известная марка немецких пылесосов?

Варианты ответа: А) Electrolux; Б) Kärcher; В) Michelin; Г) Whirlpool.

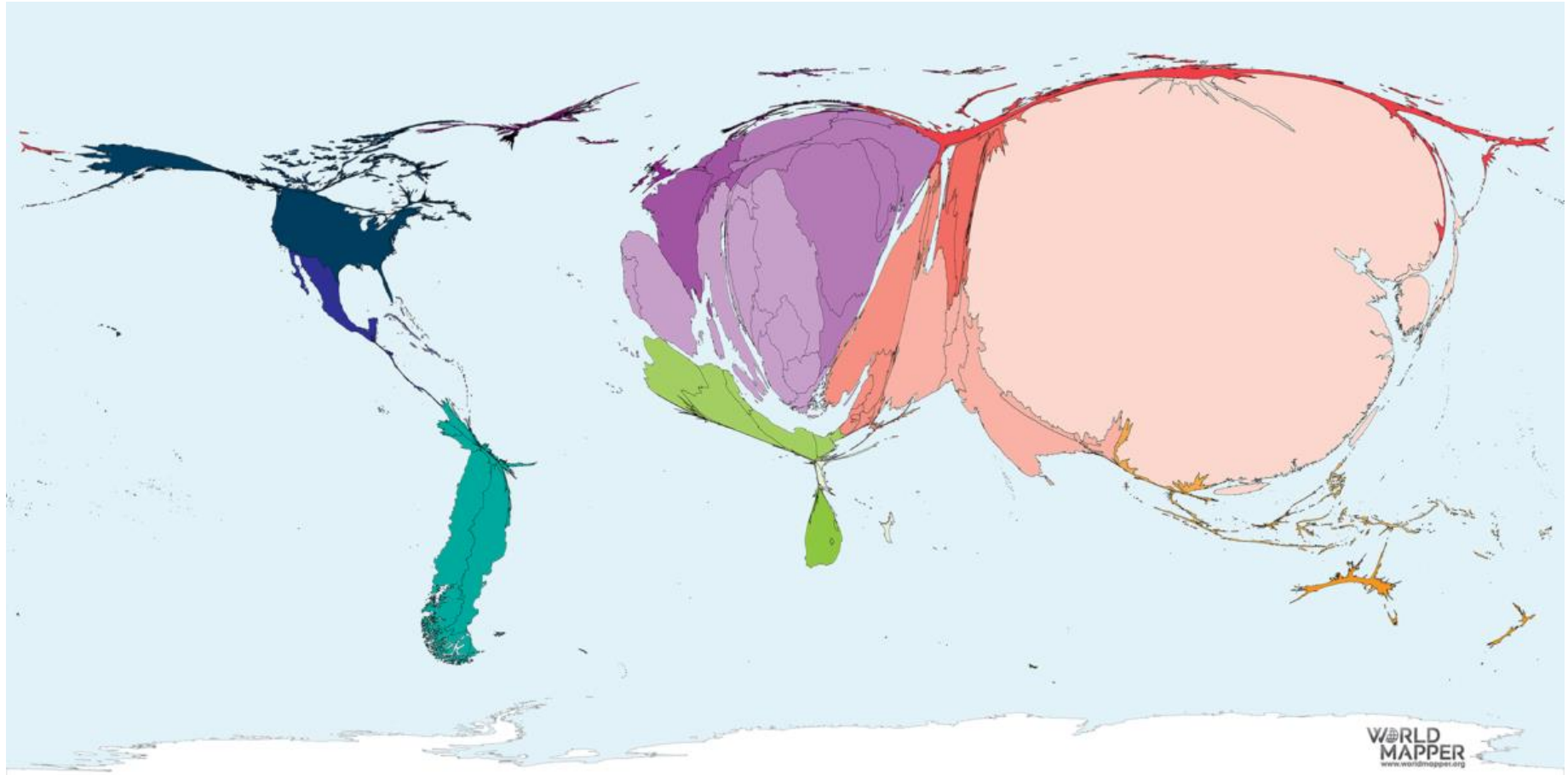
(За правильный ответ – 1 балл)



Вопрос 21: Какой показатель, связанный с плодовой культурой, отражает данная карта-анаморфоза?

Варианты ответа: А) производство сливы; Б) экспорт вишни; В) потребление яблок; Г) импорт груши.

(За правильный ответ – 1 балл)



Вопрос 22: Национальным блюдом какой страны является кимчхи?

Варианты ответа: А) Бангладеш; Б) Вьетнам; В) Республика Корея;
Г) Таиланд.

(За правильный ответ – 1 балл)



Вопрос 23: Определите страну по её национальной валюте.

Варианты ответа: А) Дания; Б) Нидерланды; В) Норвегия; Г) Швеция.

(За правильный ответ – 1 балл)



Вопрос 24: В каком штате США расположена штаб-квартира компании, производящей популярный во всем мире газированный безалкогольный напиток?



Варианты ответа: А) Джорджия; Б) Колорадо; В) Орегон; Г) Теннесси.
(За правильный ответ – 1 балл)



Вопрос 25: По иллюстрациям определите город Беларуси.

Варианты ответа: А) Барановичи; Б) Жлобин; В) Молодечно; Г) Орша.

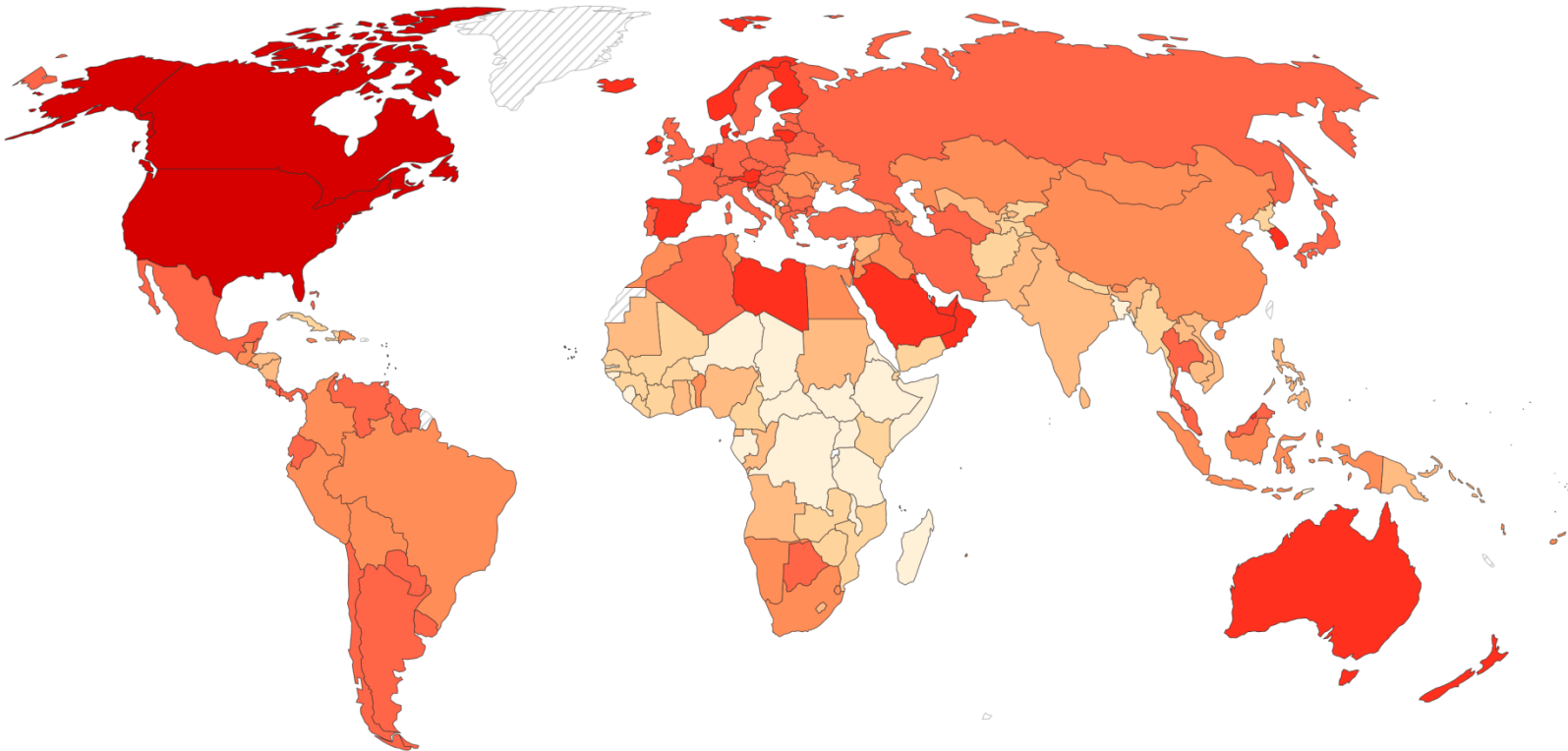
(За правильный ответ – 1 балл)



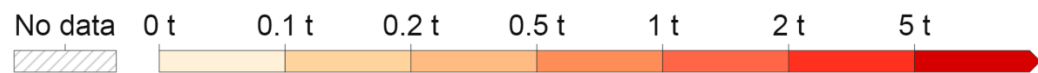
Вопрос 26: Какой показатель отображен на данной картограмме?

Варианты ответа: А) обеспеченность населения продуктами питания; Б) уровень экспортоориентированности экономики; В) количество смертей, связанных с употреблением наркотических средств; Г) объем выбросов углекислого газа на душу населения от транспортных средств.

(За правильный ответ – 1 балл)



Our World
in Data



Вопрос 27: В каком областном центре Беларуси находится предприятие, которое производит указанную на рисунке продукцию?

Варианты ответа: А) Брест; Б) Витебск; В) Гомель; Г) Могилёв.

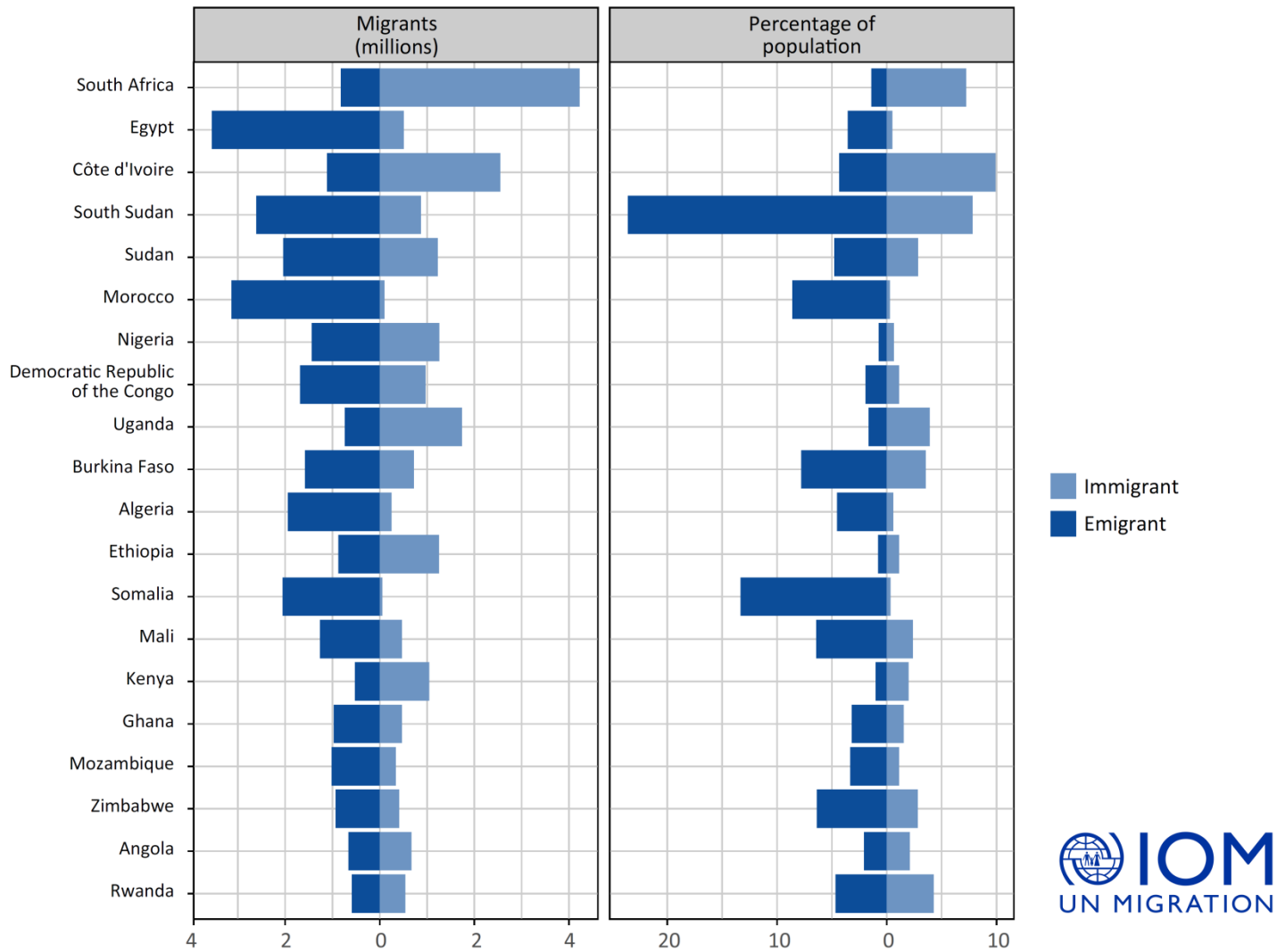
(За правильный ответ – 1 балл)



Вопрос 28: Определите по графику африканскую страну, где отмечалась наибольшая доля эмигрантов в структуре ее населения в 2019 году согласно отчету Международной организации по миграции.

Варианты ответа: А) Алжир; Б) Уганда; В) Южный Судан; Г) ЮАР.

(За правильный ответ – 1 балл)



Вопрос 29: Какой стране принадлежит указанный на рисунке флаг?

Варианты ответа: А) Гана; Б) Гвинея; В) Камерун; Г) Сенегал.

(За правильный ответ – 1 балл)



Вопрос 30: Назовите один из популярных европейских курортов, который славится своими вечеринками и природной красотой и расположен на одном из островов Балеарского архипелага. Ответ запишите.
(За правильный ответ – 2 балла)

