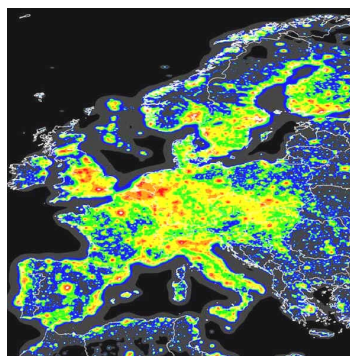


Вопрос 5: Проанализируйте картосхему типов среднеазиатских пустынь и определите, какие пустыни на ней обозначены желтым цветом.
Варианты ответа: А) глинистые; Б) каменные (гипсовые); В) песчаные; Г) солончаковые
 (За правильный ответ – 1 балл)



Вопрос 6: Что изображено на картосхеме?
Варианты ответа: А) радиоактивное загрязнение; Б) световое загрязнение; В) тепловое загрязнение; Г) вырубка лесов
 (За правильный ответ – 1 балл)




Вопрос 7: Найдите «лишнее» слово в строке географических названий. В качестве ответа запишите букву варианта ответа и само «лишнее» слово.
Варианты ответа: А) Такла-Макан, Гоби, Алашань; Б) Гиндукуш, Кызылкум, Тянь-Шань; В) Балхаш, Убсу-Нур, Кукунор; Г) Босфор, Каттегат, Ла-Манш
 (За правильный ответ – 2 балла)



Вопрос 8: Название острова Святой Яков дано Х. Колумбом в день его открытия, но оно не закрепилось. Современное название острова трансформировано от местного названия на языке индейцев-араваков – «остров родников». Как называется этот остров?
Варианты ответа: Название острова запишите
 (За правильный ответ – 2 балла)



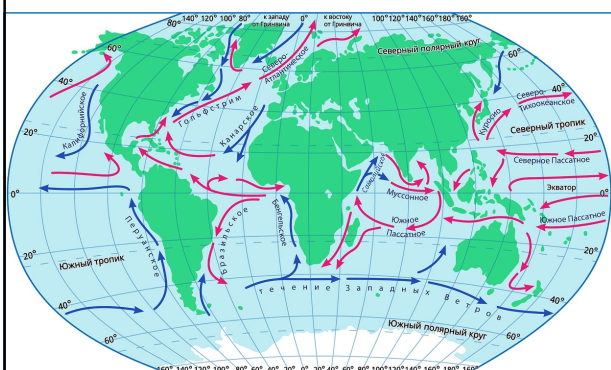
Вопрос 9: По графике определите город Беларуси.
Варианты ответа: А) Гродно; Б) Пинск; В) Мозырь; Г) Речица
 (За правильный ответ – 1 балл)



Вопрос 10: Узнай страну по инфографике?
 В ответе запишите название страны.
 (За правильный ответ – 1 балл)



Вопрос 11: Какое из течений относится к стоковому типу?
Варианты ответа: А) Аляскинское; Б) Гренландское; В) Флоридское; Г) Калифорнийское
 (За правильный ответ – 2 балла)




Вопрос 12: В какой из стран в 1971 году была подписана Конвенция о водно-болотных угодьях?
Варианты ответа: А) Иран; Б) Япония; В) Австрия; Г) Дания
 (За правильный ответ – 1 балл)



Рамсар



Киото

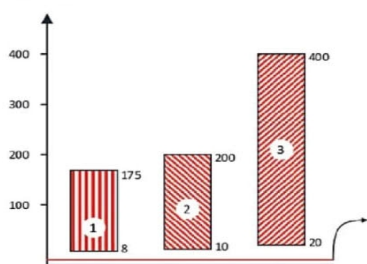


Вена



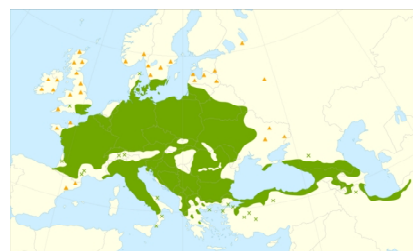
Орхус

Вопрос 13: Что отображено на диаграмме?
Варианты ответа: А) содержание золота в песках; Б) радиоактивный фон; В) уровень загрязнения нефтепродуктами; Г) рекреационная нагрузка
 (За правильный ответ – 1 балл)



1 – Гуарапари (Бразилия), участки пляжа
 2 – Керала (Индия), пляж
 3 – Рамсар (Иран)

Вопрос 14: Северная граница ареала распространения какой древесной породы проходит через центральную часть республики Беларусь?
 Ответ запишите.
 (За правильный ответ – 1 балл)




Вопрос 15: Выберите правильное определение для эндорейного озера.
Варианты ответа: А) озеро, не имеющее поверхностного или подземного стока; Б) озеро, сильно загрязненное биогенными веществами; В) озеро, в котором практически отсутствует циркуляция воды между слоями; Г) озеро, бедное питательными веществами и кислородом, с большим количеством органических кислот
 (За правильный ответ – 1 балл)



Вопрос 16: Определите, горы какой складчатости НЕ представлены на слайде?
Варианты ответа: А) герцинской; Б) альпийской; В) каледонской; Г) байкальской
 (За правильный ответ – 1 балл)



Куньлунь



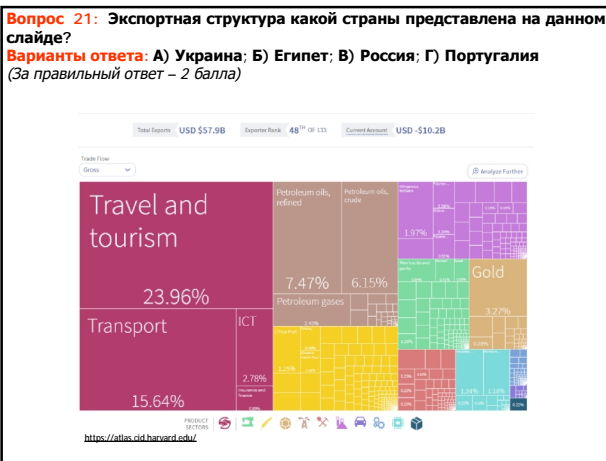
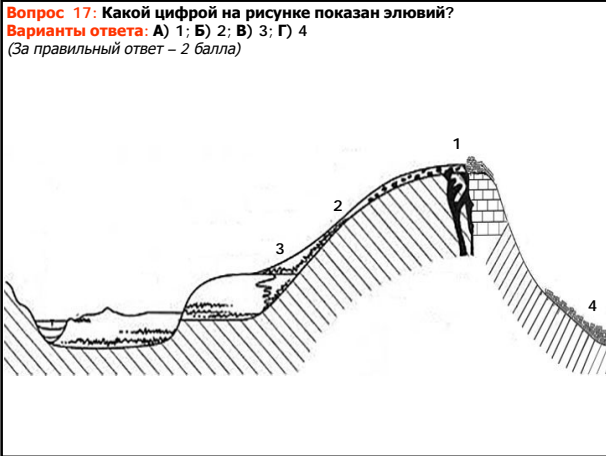
Хамар-Дабан



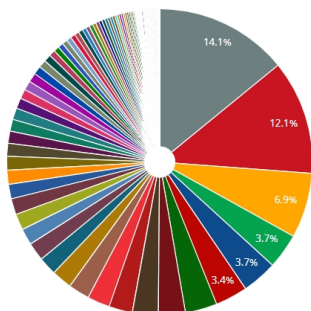
Северные Аппалачи



Шварцвальд



Вопрос 29: Какая страна находилась на 3-м месте по экспорту товаров в 2020 г.?
Варианты ответа: А) Китай; Б) США; В) Германия; Г) Япония
 (За правильный ответ – 1 балл)



Вопрос 30: У кого из британских премьер-министров имеется географическое образование?
Варианты ответа: А) Маргарет Тетчер; Б) Тереза Мэй; В) Борис Джонсон;
 Г) Тони Блэр
 (За правильный ответ – 1 балл)



© Wikimedia Commons