

Третий этап республиканской олимпиады по учебному предмету «География»
2020/2021 учебный год

**11 класс.
Мультимедиа-тест.
Вариант 2**

УВАЖАЕМЫЙ ОЛИМПИОНИК!

На выполнение заданий мультимедиа-теста отводится 1 час (60 минут).
Ты имеешь право просматривать слайды в произвольном порядке и в свободном ритме.
Ответы на задания мультимедиа-теста необходимо вписать в предлагаемый бланк ответов.
По результатам мультимедиа-теста можно получить максимум 40 баллов.

ЖЕЛАЕМ ТЕБЕ УДАЧИ!

Вопрос 1: Вашему вниманию представлены последствия Европейского миграционного кризиса 2015 г. Какая страна ЕС по квотам приняла наибольшее количество беженцев на 10 тыс. населения?
Варианты ответа: А) Франция; Б) Испания; В) ФРГ; Г) Венгрия
(За правильный ответ – 1 балл)

Вопрос 2: Какая река создает часть естественной государственной границы между ЦАР и ДРК?
Варианты ответа: А) Касаи; Б) Шари; В) Убанги; Г) Риу-Мансу
(За правильный ответ – 2 балла)

Вопрос 3: Что изображено на данном рисунке?
Варианты ответа: А) маятниковая миграция в Москве; Б) возраст построек в центре Парижа; В) степень озелененности центральной части Лондона; Г) уровень шумового загрязнения центральной части Берлина
(За правильный ответ – 1 балл)

Вопрос 4: Представители какой религии получили наибольшее распространение в Эфиопии?
Варианты ответа: А) православие; Б) католицизм; В) ислам; Г) традиционные верования
(За правильный ответ – 1 балл)


Вопрос 5: Выберите представленный на рисунке вулкан.
Варианты ответа: А) Фудзи; Б) Унзен; В) Асо; Г) Кирисима
 (За правильный ответ – 2 балла)



Вопрос 6: На какой из картосхем показан ареал обитания очкового медведя?
Варианты ответа: А) 1; Б) 2; В) 3; Г) 4
 (За правильный ответ – 2 балла)



Вопрос 7: В каком национальном парке охраняются причудливые вулканические формы рельефа - «камины фей»?
Варианты ответа: А) Гёреме; Б) Кроноцкий; В) Долина монументов; Г) Нгоронгоро
 (За правильный ответ – 1 балл)



Вопрос 8: Определите природный регион по иллюстрациям.
Варианты ответа: А) Забайкалье; Б) Урал; В) Карпаты; Г) Кавказ
 (За правильный ответ – 1 балл)

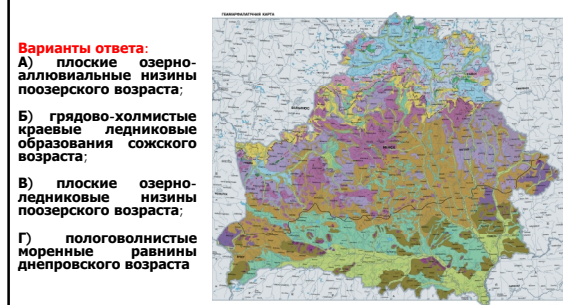


Вопрос 9: В результате какого процесса образуются изображенные на рисунке формы рельефа - булгуняхи?
Варианты ответа: А) выветривание; Б) водная эрозия; В) термокарст; Г) тропический карст
 (За правильный ответ – 1 балл)



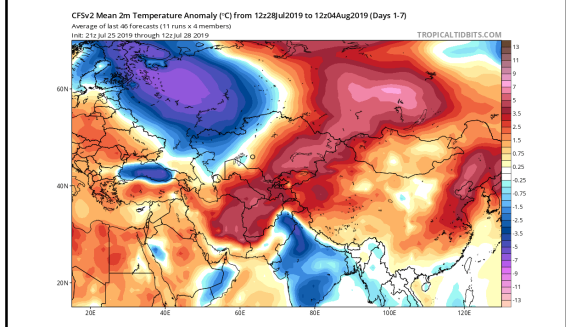
Вопрос 10: Какие формы рельефа показаны на геоморфологической карте Беларуси зеленым цветом?
 (За правильный ответ – 1 балл)

Варианты ответа:
 А) плоские озерно-аллювиальные низины поозерского возраста;
 Б) грядово-холмистые краевые ледниковые образования сожского возраста;
 В) плоские озерно-ледниковые низины поозерского возраста;
 Г) пологоволнистые моренные равнины днепровского возраста



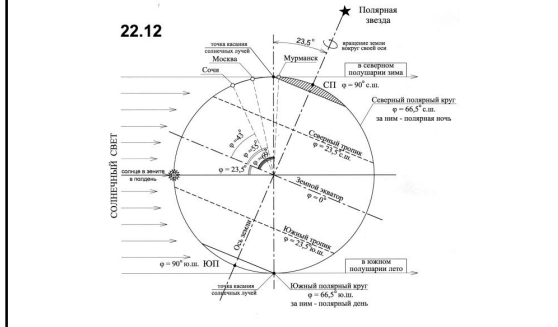
Вопрос 11: Определите по карте максимальную величину аномалии температуры приземного слоя воздуха в июле 2019 г. на территории Ирана.

Варианты ответа: А) -1,5°С; Б) +2,0°С; В) +3,5°С; Г) +5,0°С
(За правильный ответ – 2 балла)



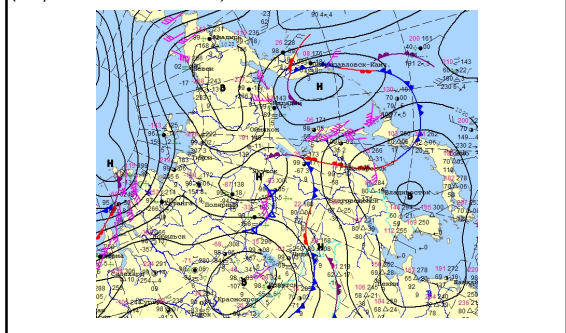
Вопрос 12: Рассчитайте высоту Солнца над горизонтом (в градусах) в день зимнего солнцестояния в пункте на 10° ю.ш. Ответ запишите

(За правильный ответ – 2 балла)



Вопрос 13: Проанализируйте фрагмент синоптической карты Гидрометцентра России на 14.11.2020. Определите по карте направление и скорость ветра в Магадане. Ответ запишите

(За правильный ответ – 2 балла)



Вопрос 14: Как называется остров, разделяющий водопад на картинке?

Варианты ответа: А) Медвежий; Б) Козий; В) Барсучий; Г) Птичий
(За правильный ответ – 1 балл)



Вопрос 15: Чем знаменит ученый-географ на слайде?

Варианты ответа: А) известный геолог; Б) полярный исследователь; В) океанограф; Г) путешественник-авантюрист
(За правильный ответ – 1 балл)

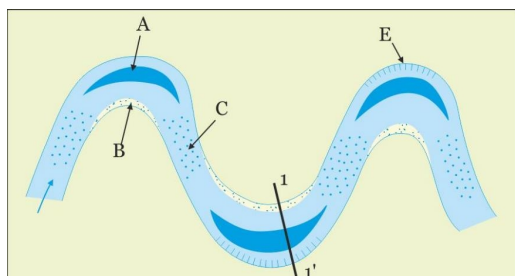


Вопрос 16: Какая страна представлена на карикатурной карте художника-гравера Уильяма Харви (1796-1866)?

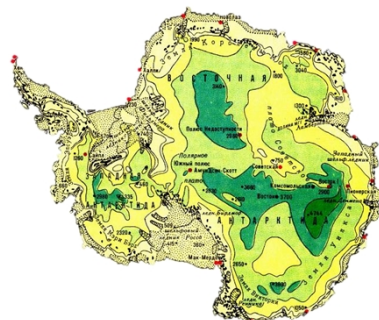
Варианты ответа: А) Чехия; Б) Дания; В) Ирландия; Г) Бельгия
(За правильный ответ – 1 балл)



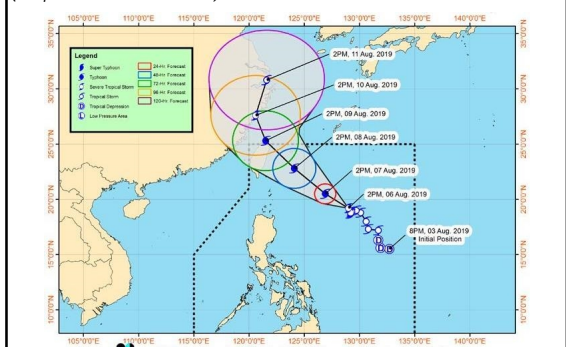
Вопрос 17: Под какой буквой на рисунке обозначен побочень?
Варианты ответа: А) В; Б) А; В) С; Г) Е
 (За правильный ответ – 2 балла)



Вопрос 18: На карте изображено...?
Варианты ответа: А) подледный рельеф; Б) мощность ледникового щита; В) высота снежного покрова; Г) количество осадков
 (За правильный ответ – 1 балл)



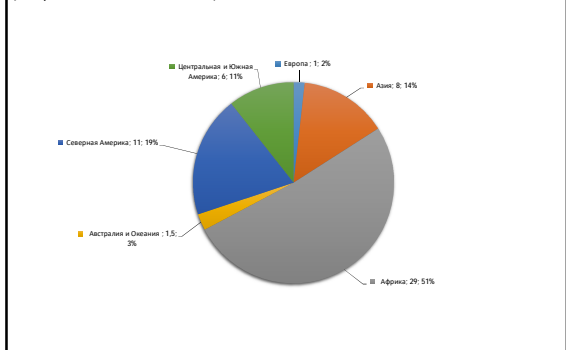
Вопрос 19: Путь какого объект представлен на слайде?
Варианты ответа: А) путь танкера; Б) путь птиц; В) движение спутника; Г) движение тайфуна
 (За правильный ответ – 1 балл)



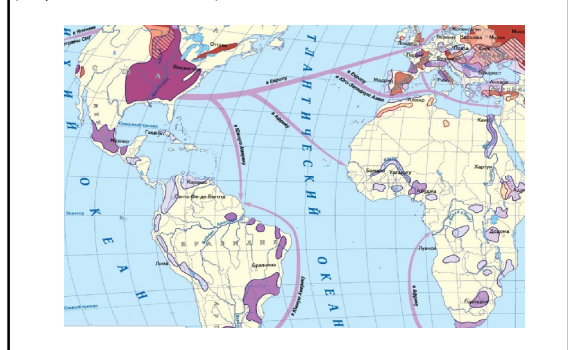
Вопрос 20: На карте изображено распространение...?
Варианты ответа: А) континентальности климата; Б) вечной мерзлоты; В) тайги; Г) кембрийской складчатости
 (За правильный ответ – 1 балл)



Вопрос 21: Региональная структура производства какой зерновой культуры представлена на рисунке?
Варианты ответа: А) пшеница; Б) рис; В) сорго; Г) ячмень
 (За правильный ответ – 1 балл)



Вопрос 22: Ареалы производства какой сельскохозяйственной культуры отражены на картограмме фиолетовым цветом?
Варианты ответа: А) пшеница; Б) кукуруза; В) хлопчатник; Г) рис
 (За правильный ответ – 1 балл)



Вопрос 23: На представленном Вам рисунке отражена структура потребления продуктов питания в группе стран с определенным уровнем дохода. Определите, какая это группа стран?
Варианты ответа: А) страны с высоким уровнем дохода; Б) страны с уровнем дохода выше среднего; В) страны с уровнем дохода ниже среднего; Г) страны с низким уровнем дохода
 (За правильный ответ – 1 балл)



Вопрос 24: Укажите, какие виды домашних животных были одомашнены человеком в центре, обозначенном цифрой 2? Ответ запишите
 (За правильный ответ – 2 балла)

Основные центры одомашнивания домашнего скота, определенные на основе археологической и молекулярно-генетической информации



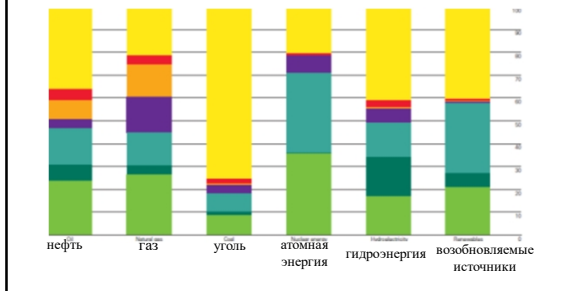
Вопрос 25: На представленном Вам рисунке отражен международный рейтинг стран по уровню инноваций (глобальный инновационный индекс 2020) в разрезе регионов. Какие 3 страны лидируют в регионе Центральная и Южная Азия?
Варианты ответа: А) Индонезия, Индия, Пакистан; Б) Индия, Иран, Казахстан; В) Саудовская Аравия, Иран, Пакистан; Г) Малайзия, Индонезия, Туркменистан
 (За правильный ответ – 1 балл)



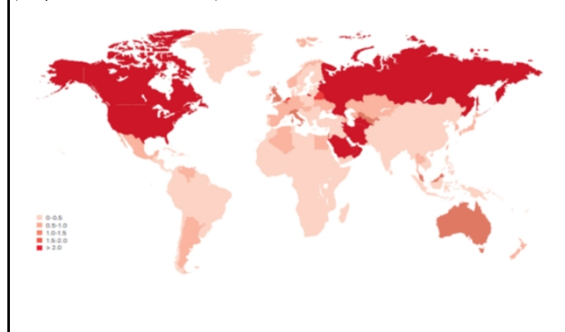
Вопрос 26: В зоне Сахеля расположена значительная часть стран Африки, нуждающихся во внешней продовольственной помощи. В каком из примеров указаны такие страны?
Варианты ответа: А) Алжир, Ливия, Мозамбик, Намибия; Б) Ангола, Демократическая Республика Конго, Нигерия, Замбия; В) Сенегал, Судан, Нигерия, Мали; Г) Того, Зимбабве, Танзания, Марокко
 (За правильный ответ – 2 балла)



Вопрос 27: На представленном Вам рисунке согласно данным BP Statistical Review отражена структура потребления энергоносителей в разрезе макро и мезорегионов мира. Какой регион обозначен на рисунке салатовым цветом?
Варианты ответа: А) азиатско-Тихоокеанский; Б) Европа; В) Северная Америка; Г) Южная и Центральная Америка; Д) Африка; Е) Ближний Восток
 (За правильный ответ – 2 балла)



Вопрос 28: Что отражает данная картограмма?
Варианты ответа: А) производство древесины на душу населения; Б) потребление газа на душу населения; В) потребление нефти на душу населения; Г) выбросы CO2 на душу населения
 (За правильный ответ – 1 балл)



Вопрос 29: Какой стране принадлежат четыре из пяти крупнейших в мире офшорных ветряных электростанций?
Варианты ответа: А) Великобритания; Б) США; В) Германия; Г) Китай
(За правильный ответ – 1 балл)



Вопрос 30: В каком европейском городе находится этот объект Всемирного наследия ЮНЕСКО? Ответ запишите
(За правильный ответ – 1 балл)

