

Третий этап республиканской олимпиады по учебному предмету «География»
2020/2021 учебный год

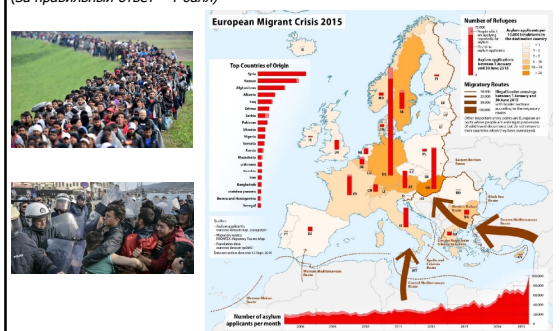
**10 класс.
Мультимедиа-тест.
Вариант 2**

УВАЖАЕМЫЙ ОЛИМПИОНИК!

На выполнение заданий мультимедиа-теста отводится 1 час (60 минут).
Ты имеешь право просматривать слайды в произвольном порядке и в свободном ритме.
Ответы на задания мультимедиа-теста необходимо вписать в предлагаемый бланк ответов.
По результатам мультимедиа-теста можно получить максимум 40 баллов.

ЖЕЛАЕМ ТЕБЕ УДАЧИ!

Вопрос 1: Вашему вниманию представлены последствия Европейского миграционного кризиса 2015 г. Какая страна ЕС по квотам приняла наибольшее количество беженцев?
Варианты ответа: А) Франция; Б) Испания; В) ФРГ; Г) Венгрия
(За правильный ответ – 1 балл)



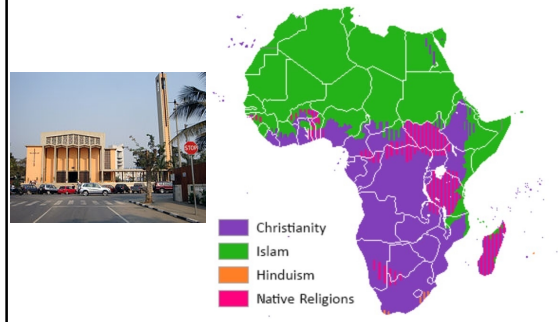
Вопрос 2: Какая река создает часть естественной государственной границы между Аргентиной и Парагваем?
Варианты ответа: А) Рио-Гранде; Б) Парагвай; В) Жипарана; Г) Риу-Мансу
(За правильный ответ – 2 балла)



Вопрос 3: Какой город представлен на рисунке?
Варианты ответа: А) Москва; Б) Париж; В) Лондон; Г) Штутгарт
(За правильный ответ – 1 балл)



Вопрос 4: Представители какой религии получили наибольшее распространение в Анголе?
Варианты ответа: А) протестантизм; Б) католицизм; В) ислам; Г) традиционные верования
(За правильный ответ – 1 балл)



Вопрос 5: Выберите представленный на рисунке вулкан.
Варианты ответа: А) Фудзи; Б) Унзен; В) Асо; Г) Кирисима
 (За правильный ответ – 2 балла)



Вопрос 6: На какой из картосхем показан ареал обитания медведя барибала?
Варианты ответа: А) 1; Б) 2; В) 3; Г) 4
 (За правильный ответ – 2 балла)



Вопрос 7: В каком национальном парке охраняется древняя наскальная живопись?
Варианты ответа: А) Мамонтова пещера; Б) Тассилин-Аджер; В) Блу-Маунтинс; Г) Галапагос
 (За правильный ответ – 1 балл)



Вопрос 8: Определите природный регион по иллюстрациям.
Варианты ответа: А) Сахель; Б) Аралкум; В) Афар; Г) Джунгария
 (За правильный ответ – 1 балл)



Вопрос 9: В результате какого процесса образуются изображенные на рисунке формы рельефа - *ярданги*?
Варианты ответа: А) выветривание; Б) дефляция; В) морская абразия; Г) водная эрозия
 (За правильный ответ – 1 балл)

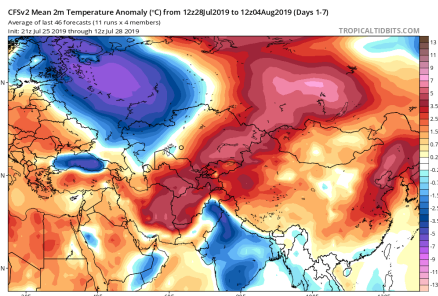


Вопрос 10: Какие формы рельефа показаны на геоморфологической карте Беларуси сиреневым цветом?
 (За правильный ответ – 1 балл)

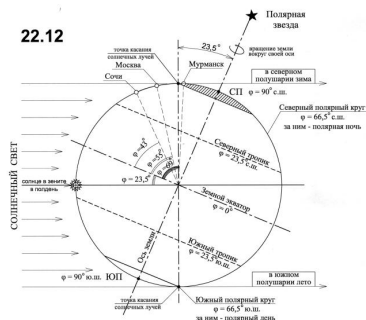
Варианты ответа:
 А) грядово-холмистые краевые ледниковые образования поозерского возраста;
 Б) плоские озерно-аллювиальные низины поозерского возраста;
 В) грядово-холмистые краевые ледниковые образования днепровского возраста;
 Г) пологоволнистые моренные равнины днепровского возраста



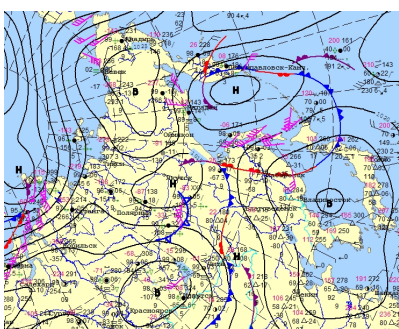
Вопрос 11: Определите по карте максимальную величину аномалии температуры приземного слоя воздуха в июле 2019 г. на территории европейской части России.
Варианты ответа: А) -6°C; Б) -3,5°C; В) -0,5°C; Г) +2,0°C
 (За правильный ответ – 2 балла)




Вопрос 12: Рассчитайте высоту Солнца над горизонтом (в градусах) в день зимнего солнцестояния в пункте на 45° с.ш. Ответ запишите
 (За правильный ответ – 2 балла)



Вопрос 13: Проанализируйте фрагмент синоптической карты Гидрометцентра России на 14.11.2020. Определите по карте направление и скорость ветра в Петропавловске-Камчатском. Ответ запишите
 (За правильный ответ – 2 балла)



Вопрос 14: Какие страны разделяет водопад на картинке?
Варианты ответа: А) США и Мексика; Б) США и Канада; В) Мексика и Гватемала; Г) Россия и Казахстан
 (За правильный ответ – 1 балл)



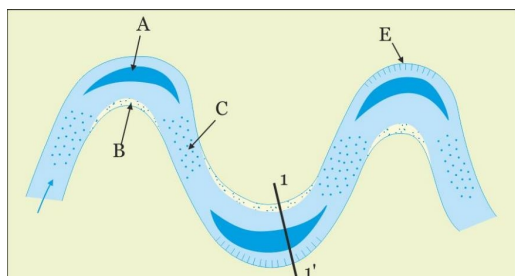
Вопрос 15: Чем знаменит ученый-географ на слайде?
Варианты ответа: А) климатолог; Б) почвовед; В) геолог; Г) геоботаник
 (За правильный ответ – 1 балл)



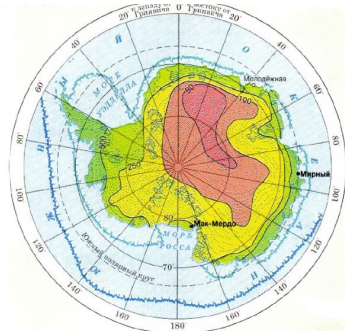
Вопрос 16: Какая страна представлена на карикатурной карте художника-гравера Уильяма Харви (1796-1866)?
Варианты ответа: А) Чехия; Б) Дания; В) Ирландия; Г) Бельгия
 (За правильный ответ – 1 балл)



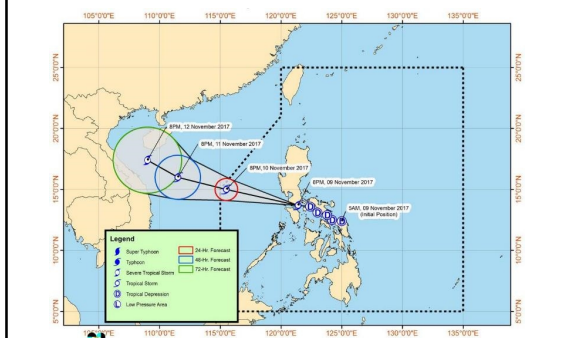
Вопрос 17: Под какой буквой на рисунке обозначен плес?
Варианты ответа: А) В; Б) А; В) С; Г) на схеме не обозначен
 (За правильный ответ – 2 балла)



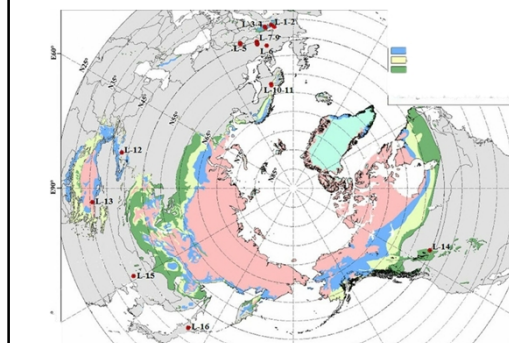
Вопрос 18: На карте изображено...?
Варианты ответа: А) подледный рельеф; Б) мощность ледникового щита; В) высота снежного покрова; Г) количество осадков
 (За правильный ответ – 1 балл)



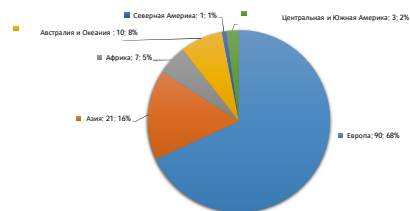
Вопрос 19: Путь какого объект представлен на слайде?
Варианты ответа: А) путь танкера; Б) путь птиц; В) движение спутника; Г) движение тайфуна
 (За правильный ответ – 1 балл)



Вопрос 20: На карте изображено распространение...?
Варианты ответа: А) континентальности климата; Б) вечной мерзлоты; В) тайги; Г) кембрийской складчатости
 (За правильный ответ – 1 балл)



Вопрос 21: Географическая структура производства какой зерновой культуры представлена на рисунке?
Варианты ответа: А) пшеница; Б) рис; В) кукуруза; Г) ячмень
 (За правильный ответ – 1 балл)



Вопрос 22: Перед Вами фрагмент карты, отражающий ареалы производства зерновых культур. Какая сельскохозяйственная культура представлена коричневым цветом?
Варианты ответа: А) пшеница; Б) кукуруза; В) ячмень; Г) рис
 (За правильный ответ – 1 балл)

