

Заключительный этап республиканской олимпиады по учебному предмету «География»
2020/2021 учебный год

9 класс.
Мультимедиа-тест.
Вариант 2

УВАЖАЕМЫЙ ОЛИМПИОНИК!

На выполнение заданий мультимедиа-теста отводится 1 час (60 минут).

Ты имеешь право просматривать слайды в произвольном порядке и в свободном ритме.

Ответы на задания мультимедиа-теста необходимо вписать в предлагаемый бланк ответов.

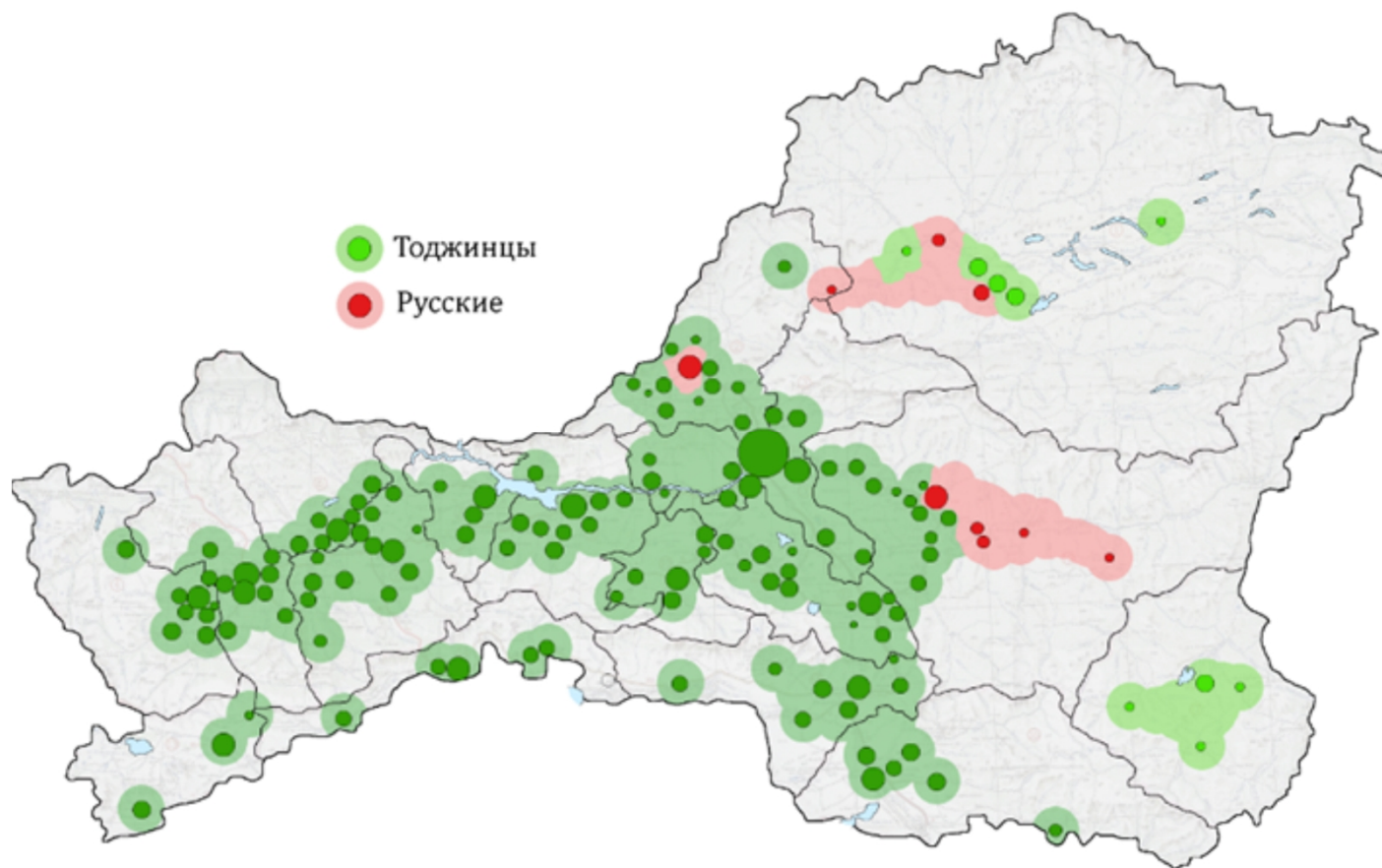
По результатам мультимедиа-теста можно получить максимум 40 баллов.

ЖЕЛАЕМ ТЕБЕ УДАЧИ!

Вопрос 1: Вашему вниманию представлена картосхема размещения народов по данным переписи 2010 г. в пределах какого региона России?

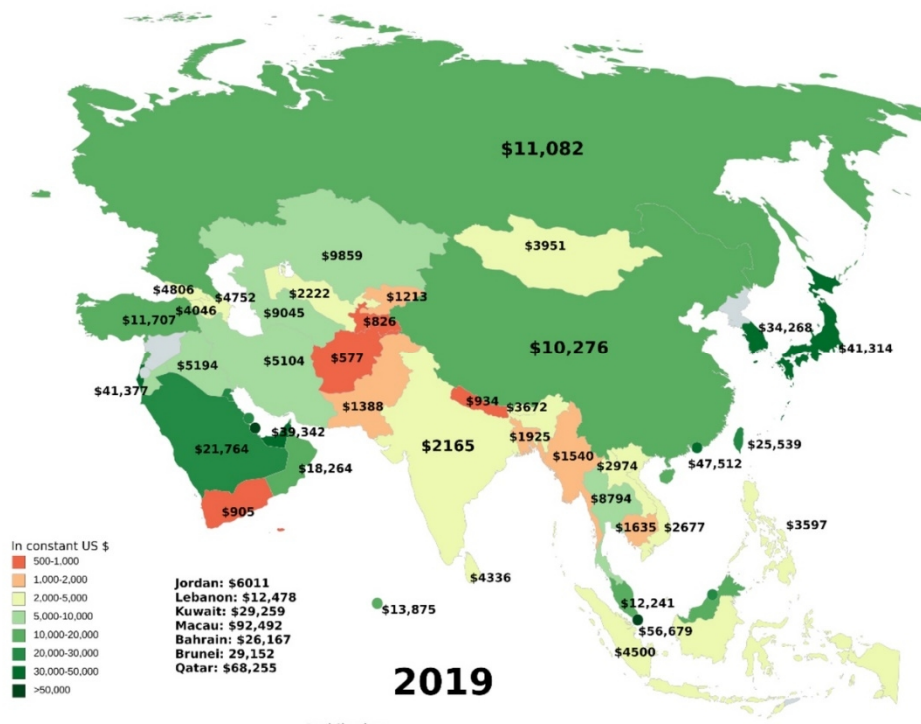
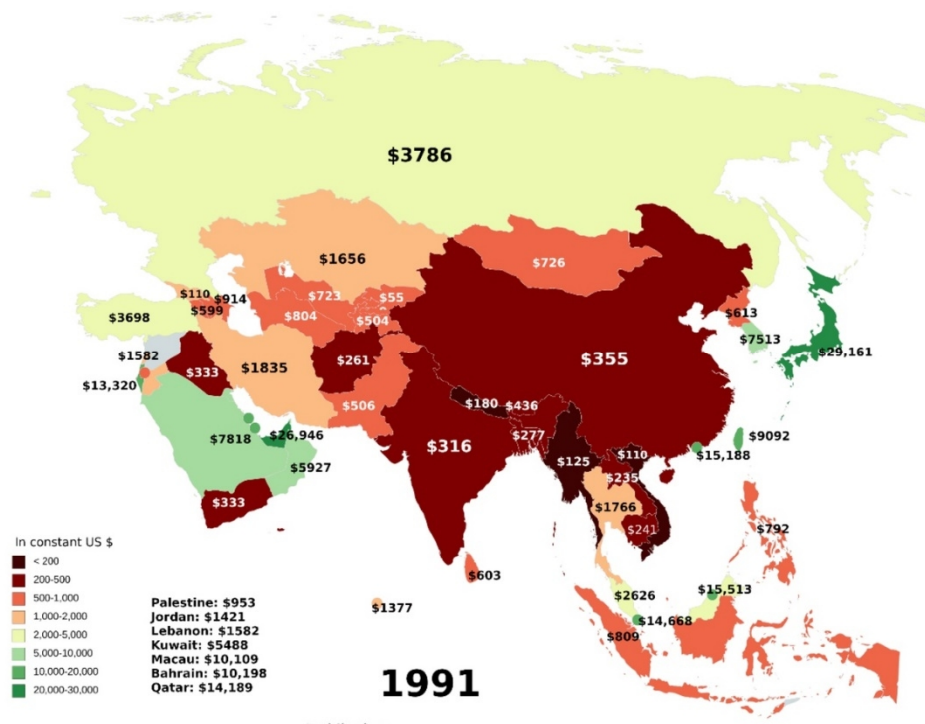
Варианты ответа: А) Алтайский край; Б) Республика Алтай; В) Республика Чувашия; Г) Республика Тыва

(За правильный ответ – 2 балла)



Вопрос 2: Вашему вниманию представлен ВВП на душу населения стран Азии в 1991 г. и 2019 г. Во сколько возрос ВВП на душу населения Китая за данный период?

Варианты ответа: А) в 11 раз; Б) в 19 раз; В) в 29 раз; Г) в 39 раз
(За правильный ответ – 2 балла)



Вопрос 3: Какой город представлен на рисунке?

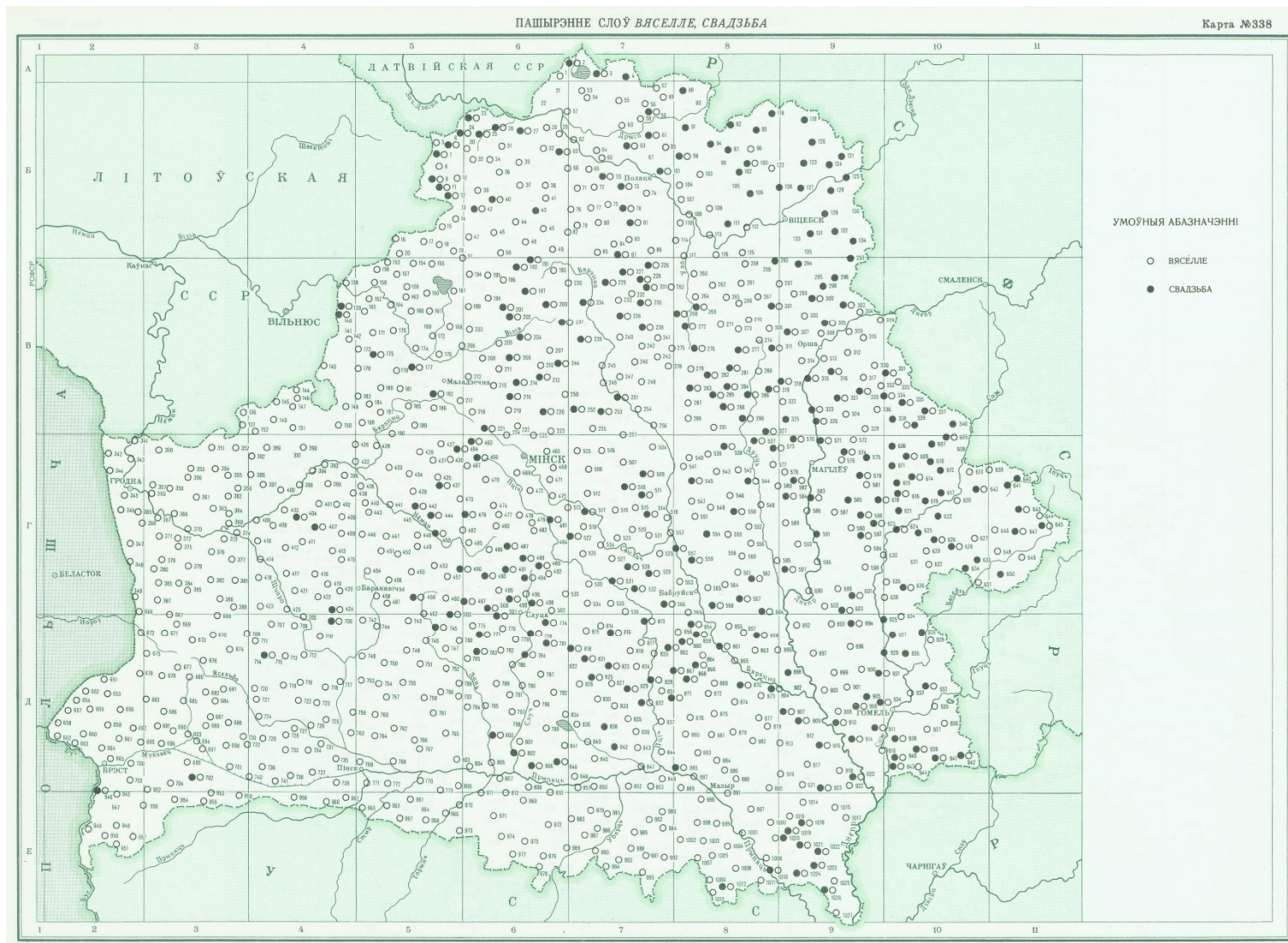
Варианты ответа: А) Шанхай; Б) Сингапур; В) Пусан; Г) Гонконг

(За правильный ответ – 2 балла)



Вопрос 4: Какому диалекту белорусского языка соответствует слово «Свадзьба»?

Варианты ответа: А) Северо-восточному; Б) Юго-западному; В) Среднебелорусскому; Г) Западнополесскому
(За правильный ответ – 2 балла)



Вопрос 5: Какое озеро представлено на рисунке?

Варианты ответа: А) Аральское море; Б) Мертвое море; В) Чад; Г)

Виктория

(За правильный ответ – 1 балл)

1977



1987



1998



2006



2010



2014



Вопрос 6: Какой природный регион России изображен на photographиях?

Варианты ответа: А) Сахалин; Б) Карелия; В) Камчатка; Г) Кавказ

(За правильный ответ – 1 балл)




Вопрос 7: Какой из рисунков соответствует условному обозначению тумана на картах погоды?

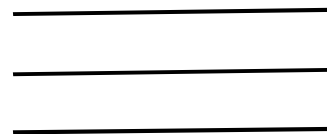
Варианты ответа: 1) А; 2) Б); 3) В; 4) Г

(За правильный ответ – 2 балла)

А)



В)



Б)



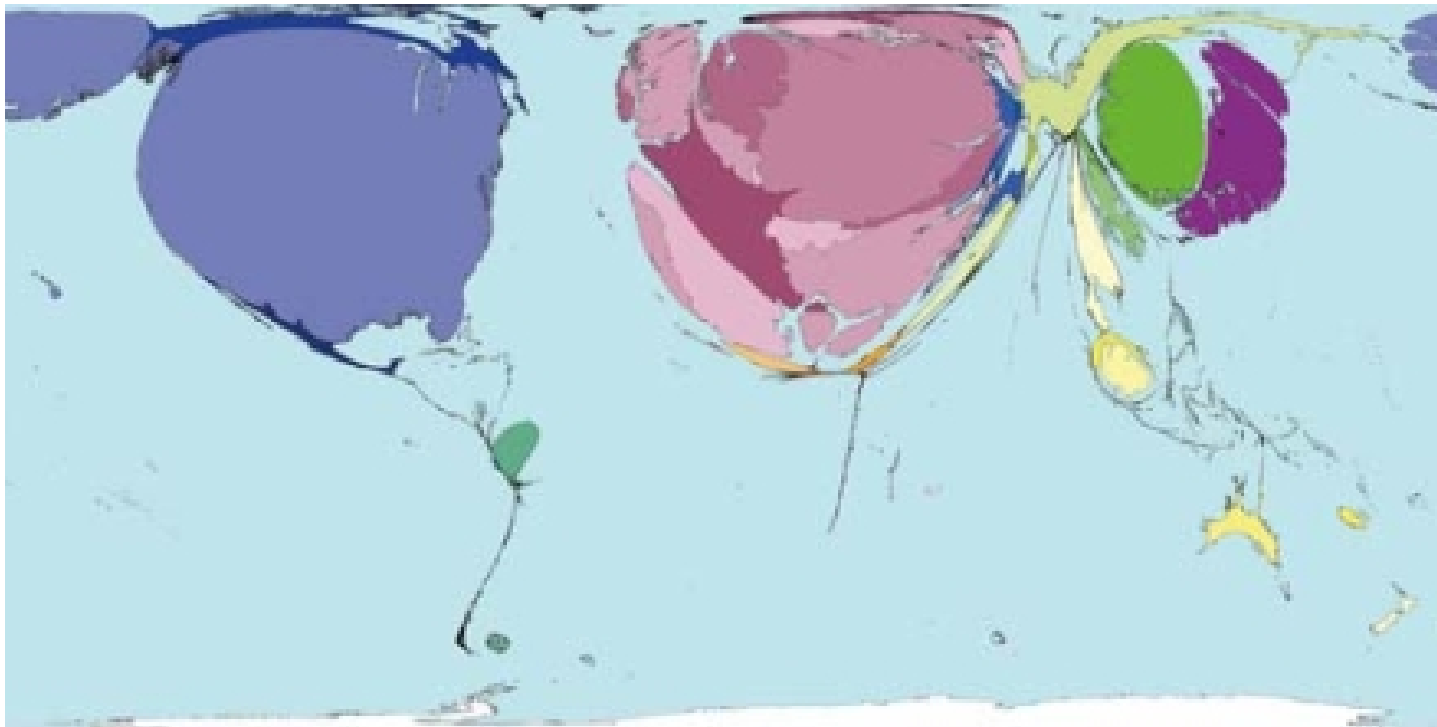
Г)



Вопрос 8: Какой регион Евразии, согласно карте-анаморфозе очистки сточных вод, занимает лидирующее место на континенте по очистке сточных вод?

Варианты ответа: А) Европа; Б) Южная Азия; В) Восточная Азия; Г) Западная Азия

(За правильный ответ – 1 балл)



Вопрос 9: В каком национальном парке охраняются горные гориллы?

Варианты ответа: А) Денали; Б) Вирунга; В) Какаду; Г) Эверглейдс

(За правильный ответ – 1 балл)



Вопрос 10: Какой стране принадлежит почтовая марка с изображением редкого животного?

Варианты ответа: А) Монголия; Б) Судан; В) Панама; Г) Украина

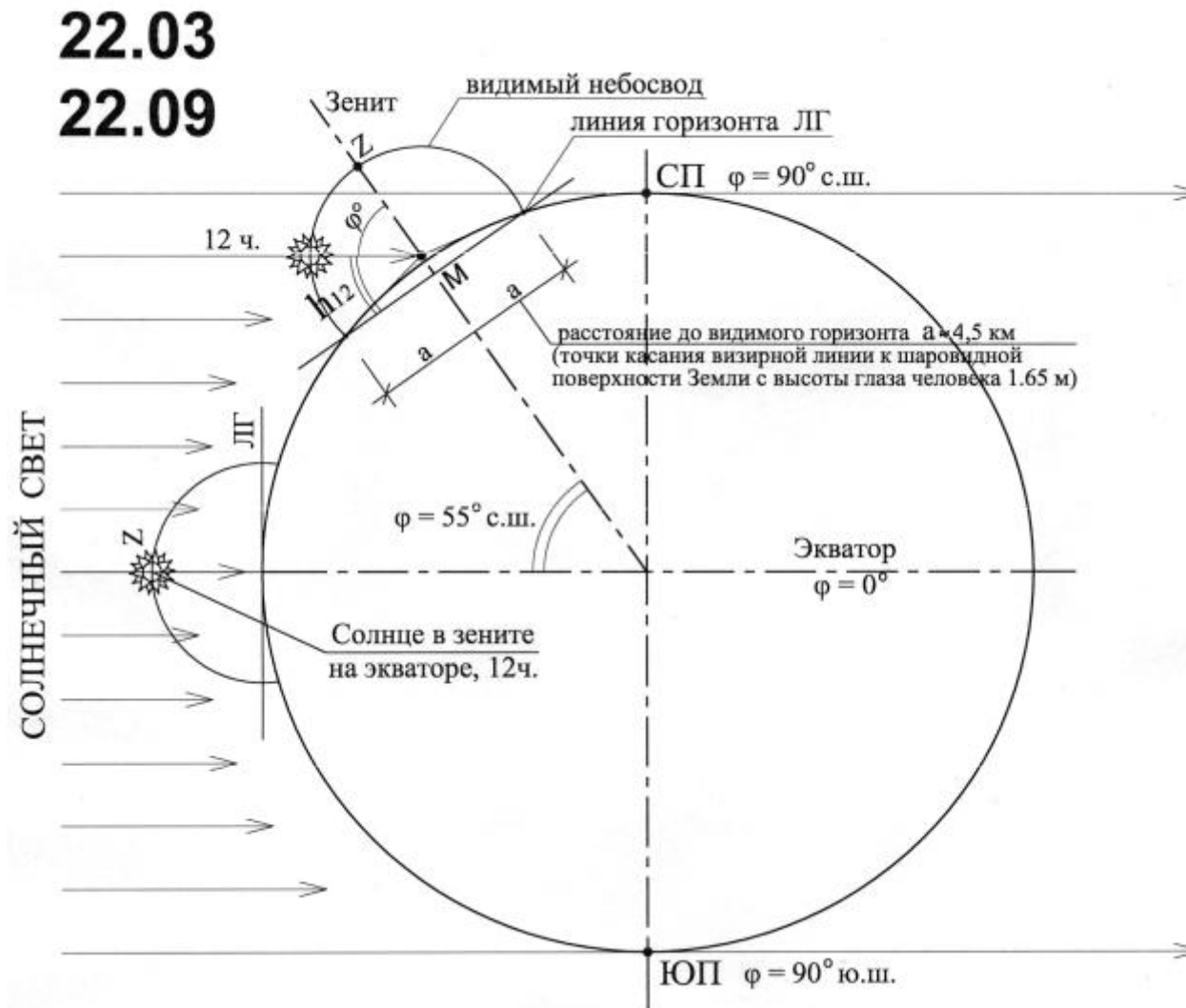
(За правильный ответ – 1 балл)




Вопрос 11: Какой объект культурного наследия Беларуси изображен на гравюре Наполеона Орды? (Ответ запишите)
(За правильный ответ – 1 балл)



Вопрос 12: Какова высота Солнца над горизонтом (в градусах) в день весеннего и осеннего равноденствия в пункте на 30° с.ш.? (Ответ запишите)
(За правильный ответ – 2 балла)



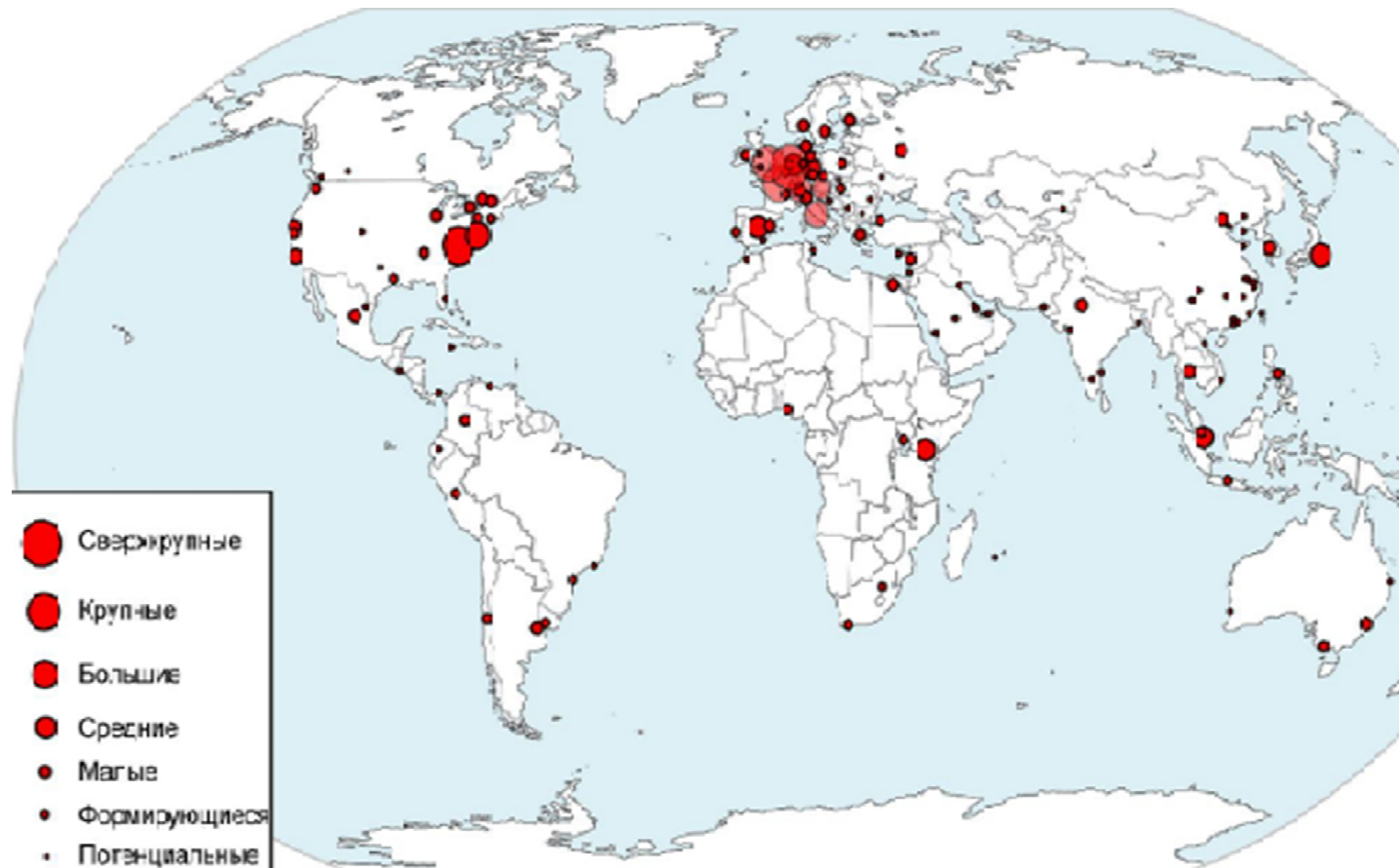
Вопрос 13: Определите, какую страну представляет на данной карикатуре пенсионер, сидящий вторым слева? (Ответ запишите)
(За правильный ответ – 1 балл)



Вопрос 14: На рисунке отражена география центров международных организаций. Размер пунсона соответствует количеству базирующихся штаб-квартир. Какой город занимает лидирующую позицию в рейтинге в Северной Америке?

Варианты ответа: А) Сан-Франциско; Б) Лос-Анджелес; В) Вашингтон; Г) Нью-Йорк

(За правильный ответ – 1 балл)



Вопрос 15: Фрагмент денежной купюры какой страны представлен?

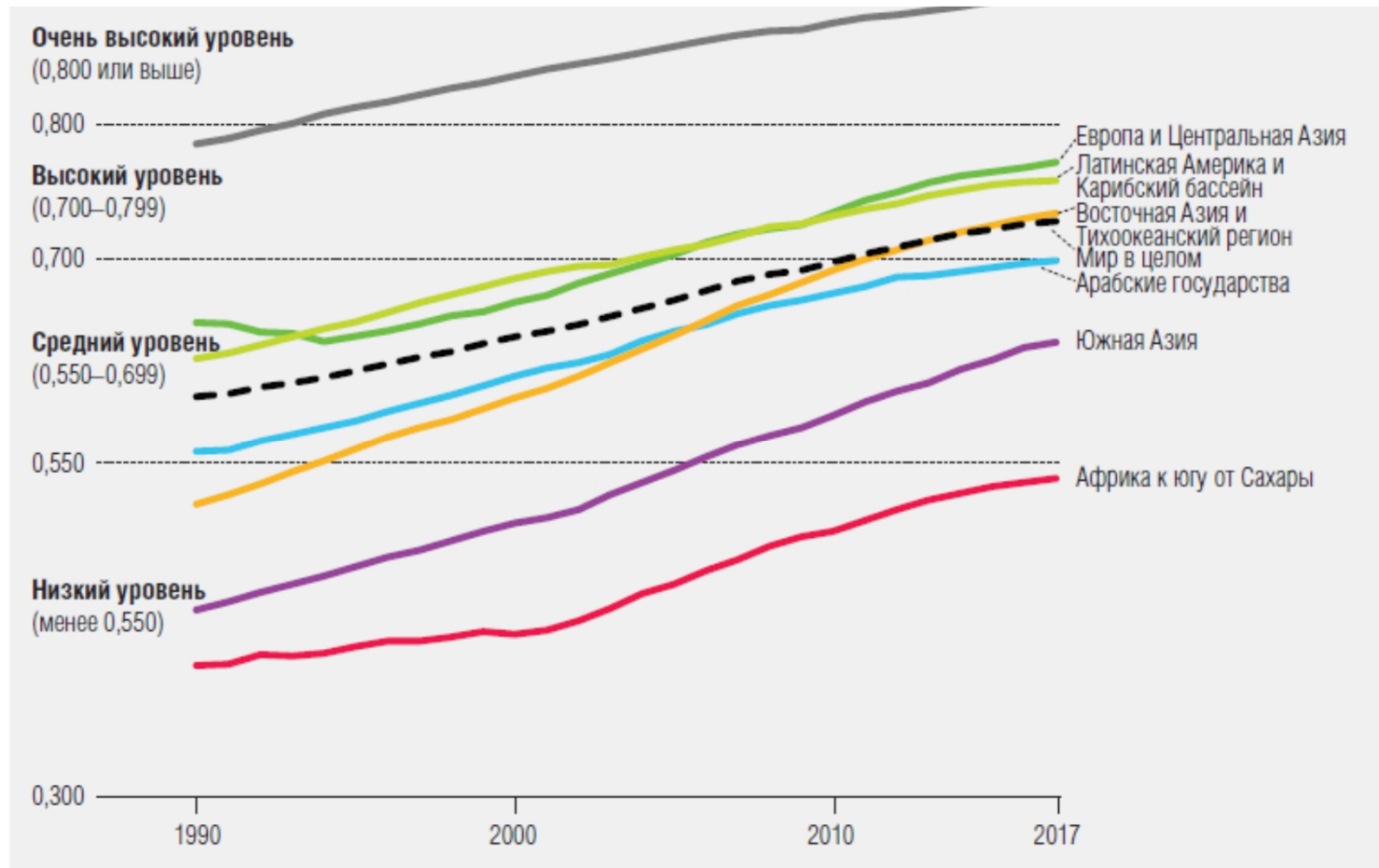
Варианты ответа: А) Нидерланды; Б) Дания; В) Швеция; Г) Великобритания

(За правильный ответ – 1 балл)



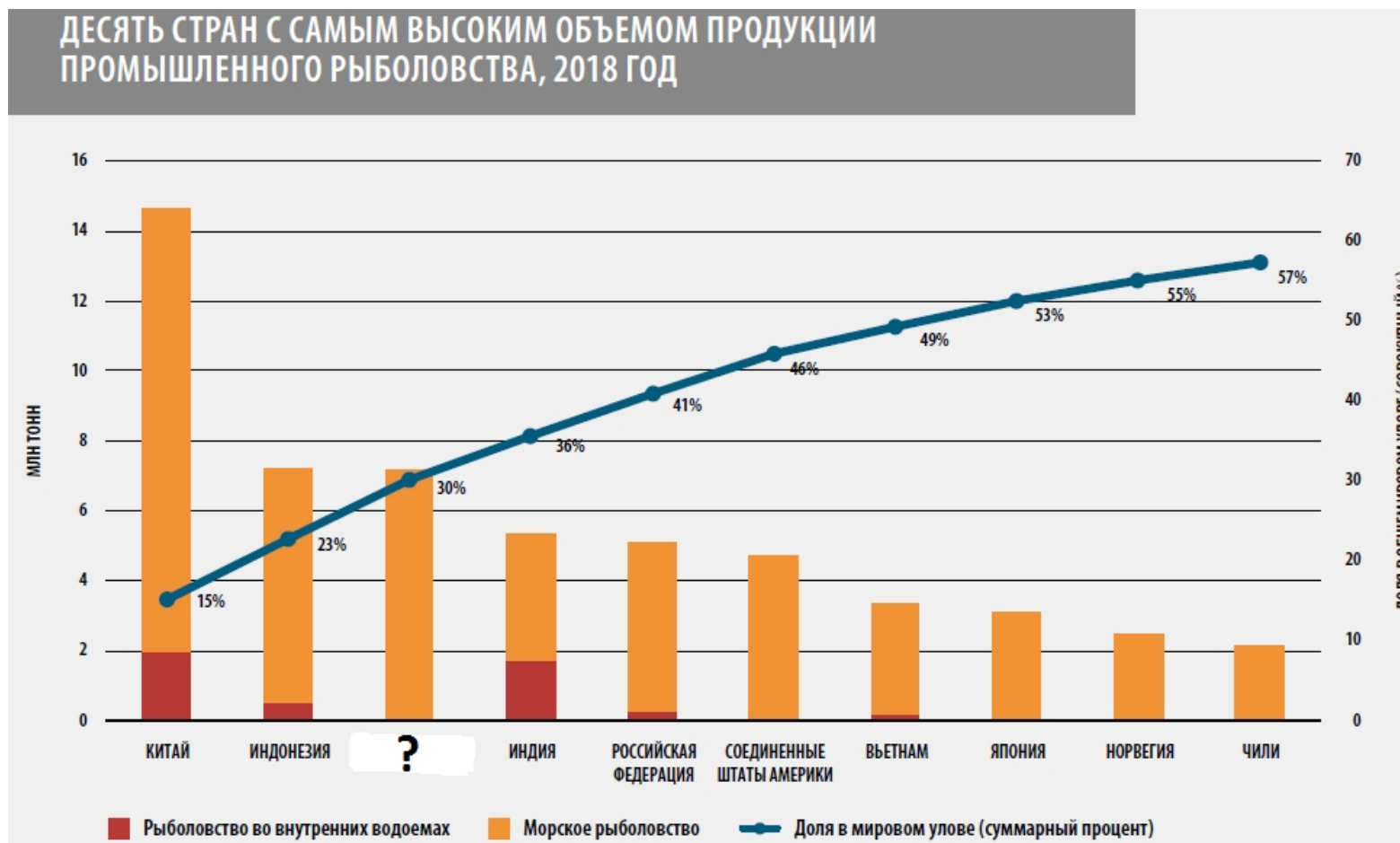
Вопрос 16: Динамика какого показателя отражена на рисунке?

Варианты ответа: А) индекс Джинни; Б) индекс гендерного неравенства; В) индекс человеческого развития; Г) индекс экономической свободы
(За правильный ответ – 2 балла)



Вопрос 17: Какое латиноамериканское государство входит в тройку мировых лидеров по объему промышленного рыболовства?

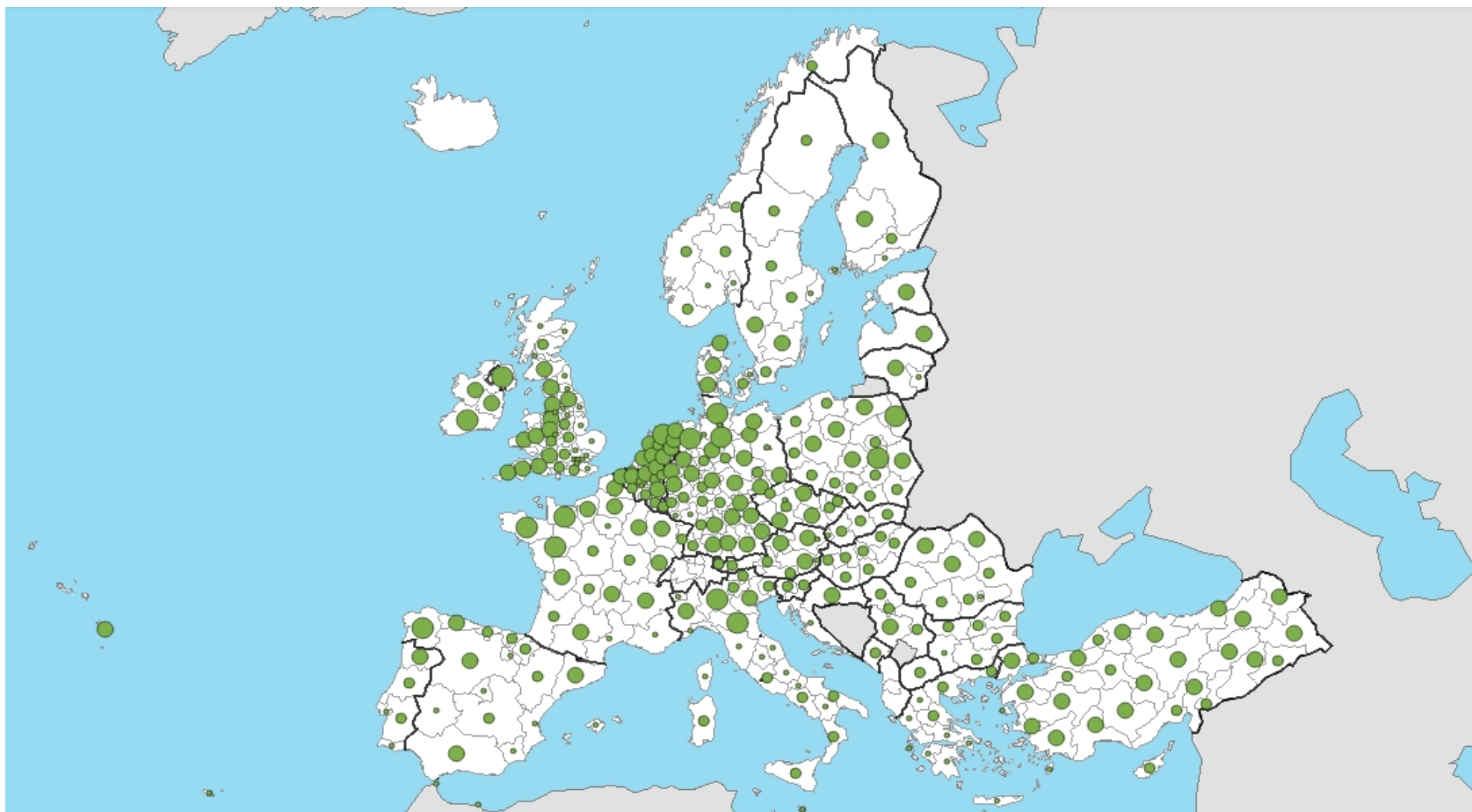
Варианты ответа: А) Мексика; Б) Бразилия; В) Перу; Г) Аргентина
(За правильный ответ – 1 балл)



Вопрос 18: Производство какого вида сельскохозяйственной продукции отражено на рисунке?

Варианты ответа: А) молока; Б) зерновых культур; В) масличных культур; Г) мяса

(За правильный ответ – 1 балл)

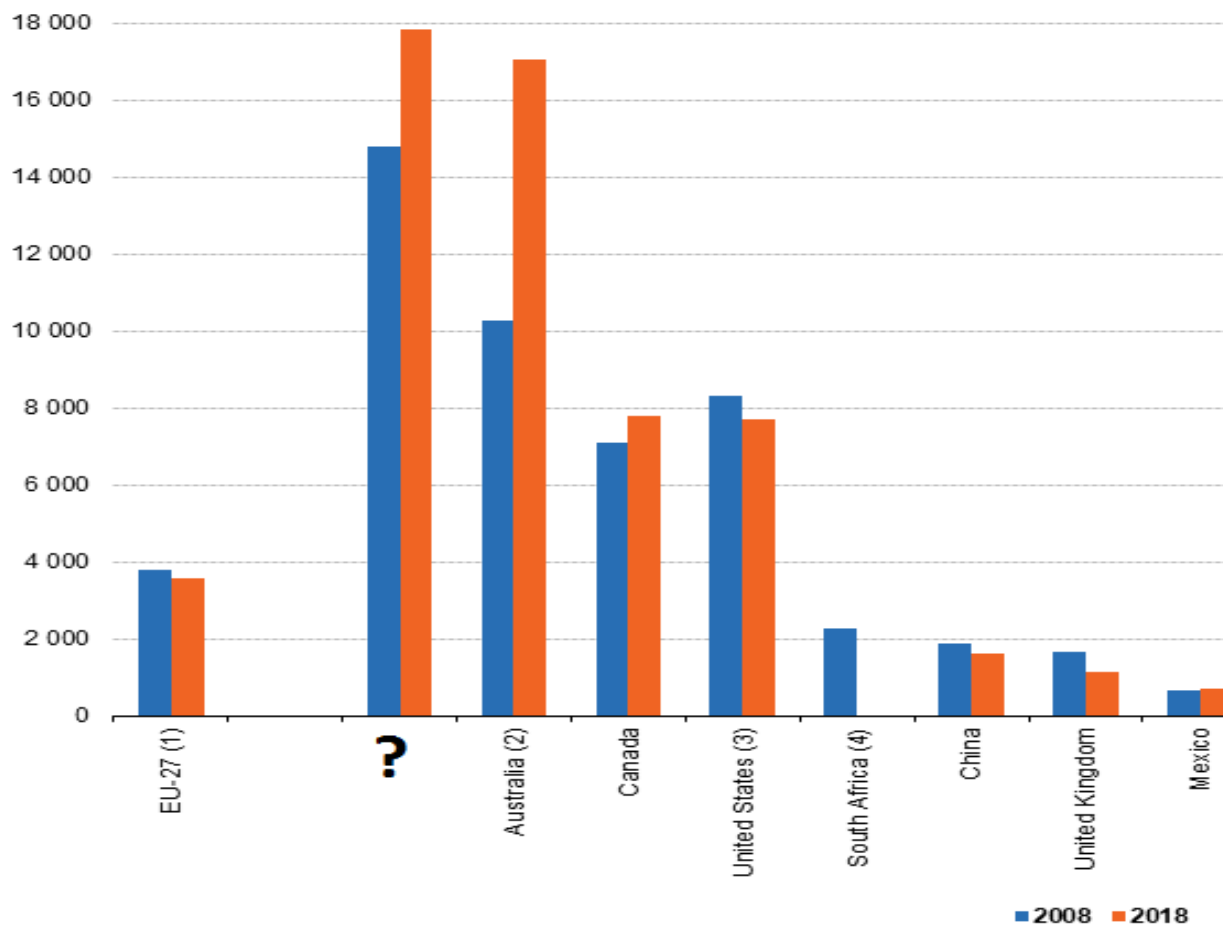


Вопрос 19: Какая страна является мировым лидером по удельному показателю грузооборота железнодорожного транспорта?

Варианты ответа: А) Германия; Б) Индия; В) Китай; Г) Россия

(За правильный ответ – 1 балл)

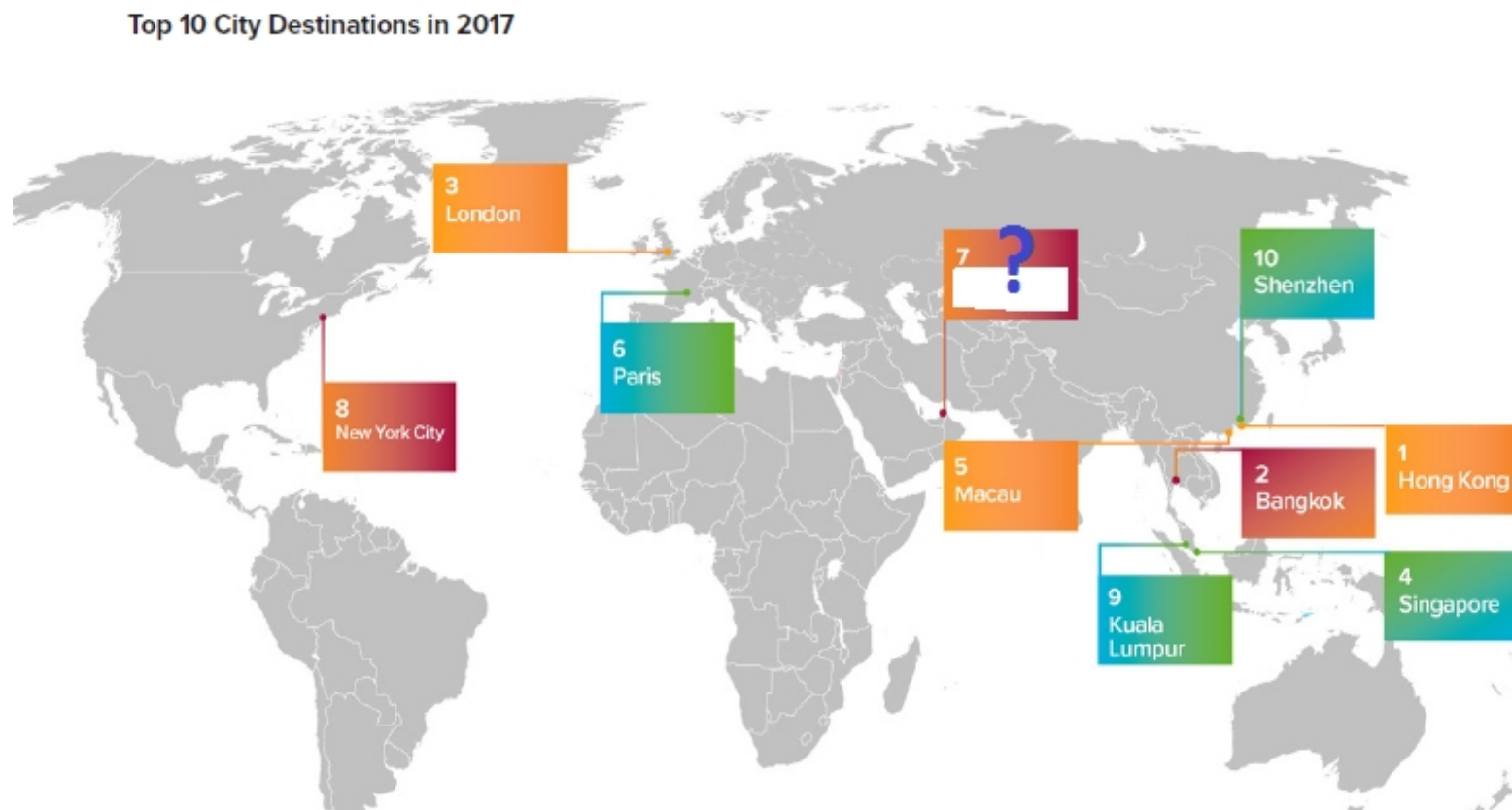
Rail freight transport, 2008 and 2018
(tonne-km per inhabitant)



Вопрос 20: Укажите, какой город Юго-Западной Азии, обозначенный на рисунке знаком вопроса, входит в топ-10 самых посещаемых в мире?

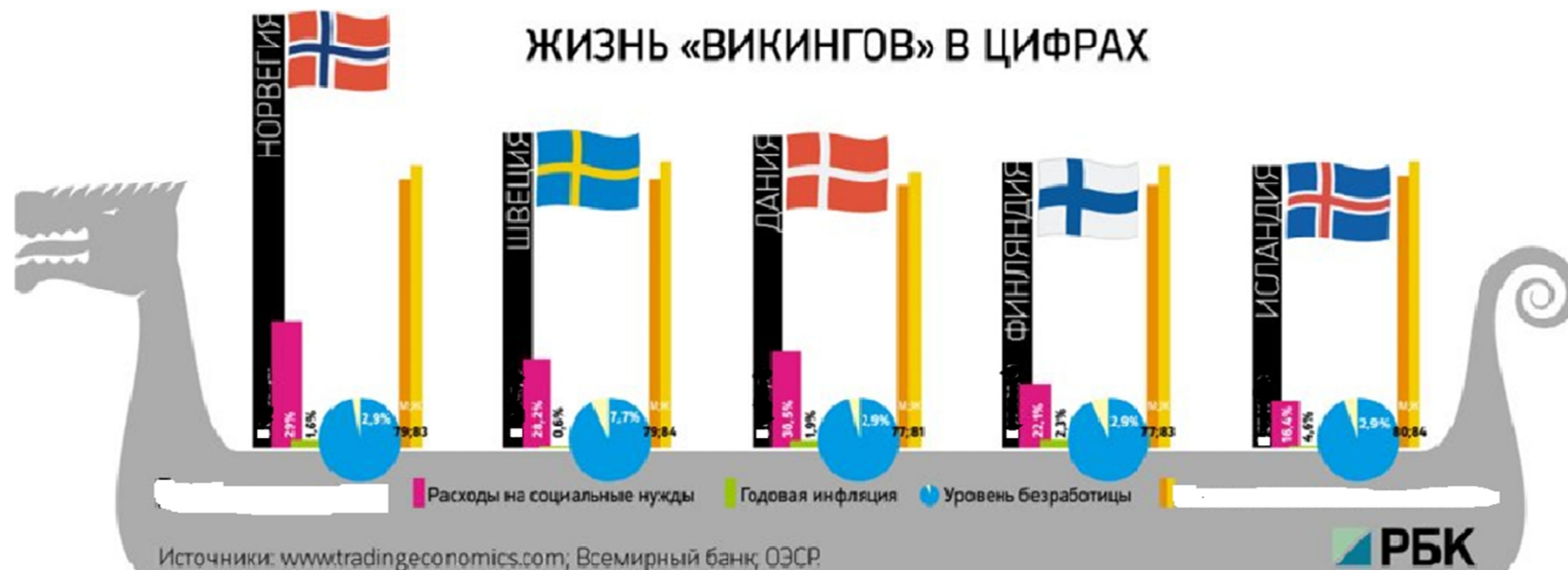
Варианты ответа: А) Мекка; Б) Дубай; В) Абу-Даби; Г) Манама

(За правильный ответ – 1 балл)



Вопрос 21: Какой социально-экономический показатель отражает на рисунке столбец черного цвета?

Варианты ответа: А) численность населения; Б) ВВП на душу населения; В) объем ВВП (по ППС); Г) численность занятых в сфере услуг
(За правильный ответ – 1 балл)



Вопрос 22: На рисунке представлен фрагмент карты, посвященной территориальной организации туризма в Европе. Укажите, что отображают на карте условные знаки в виде светлоголубых пунсонов?

(Ответ запишите)

(За правильный ответ – 1 балл)




Вопрос 23: По типу вспомогательной поверхности, проиллюстрированной на слайде, картографические проекции являются...


Варианты ответа: А) азимутальными; Б) цилиндрическими; В) коническими; Г) смешанными
(За правильный ответ – 1 балл)



Нормальная



Поперечная



Косая

Вопрос 24: На космоснимке изображена...

Варианты ответа: А) ГЭС; Б) АЭС; В) ТЭЦ; Г) солнечная электростанция

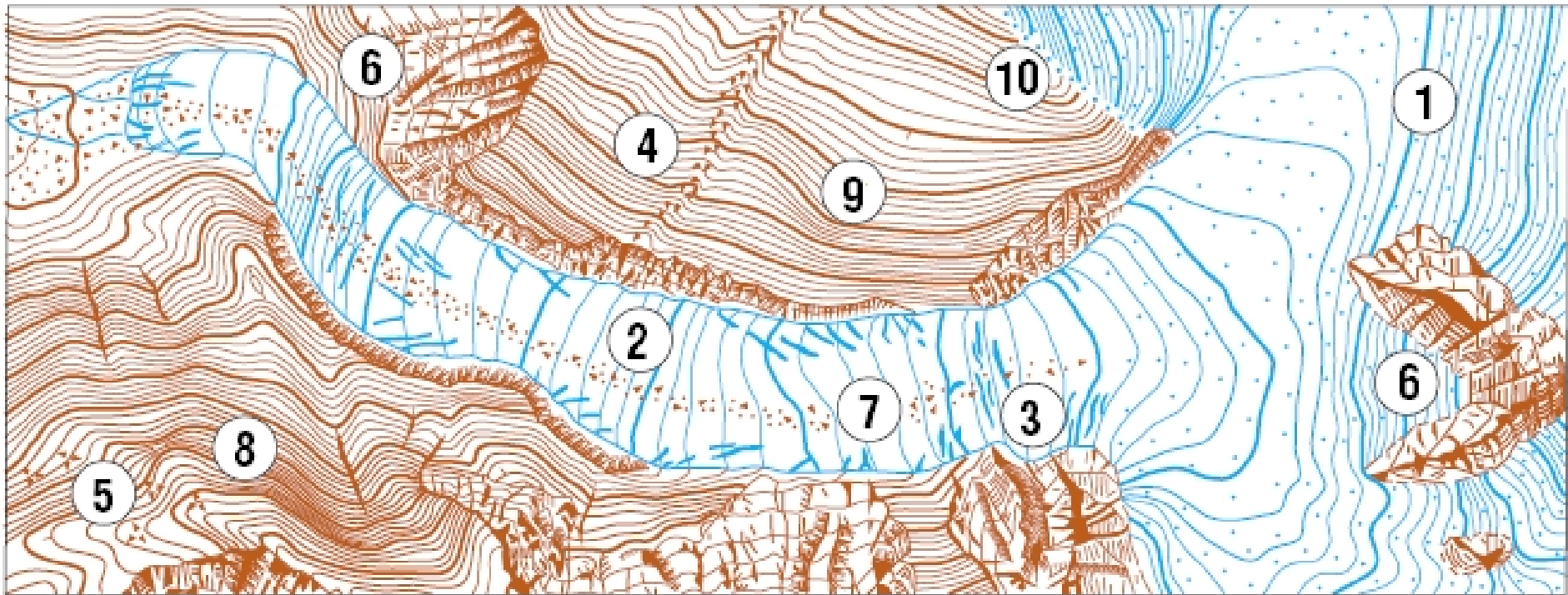
(За правильный ответ – 1 балл)



Вопрос 25: Что обозначает условный знак под номером 4?

Варианты ответа: А) фирновые поля и вечные снега; Б) ледниковые языки; В) каменные реки; Г) морены

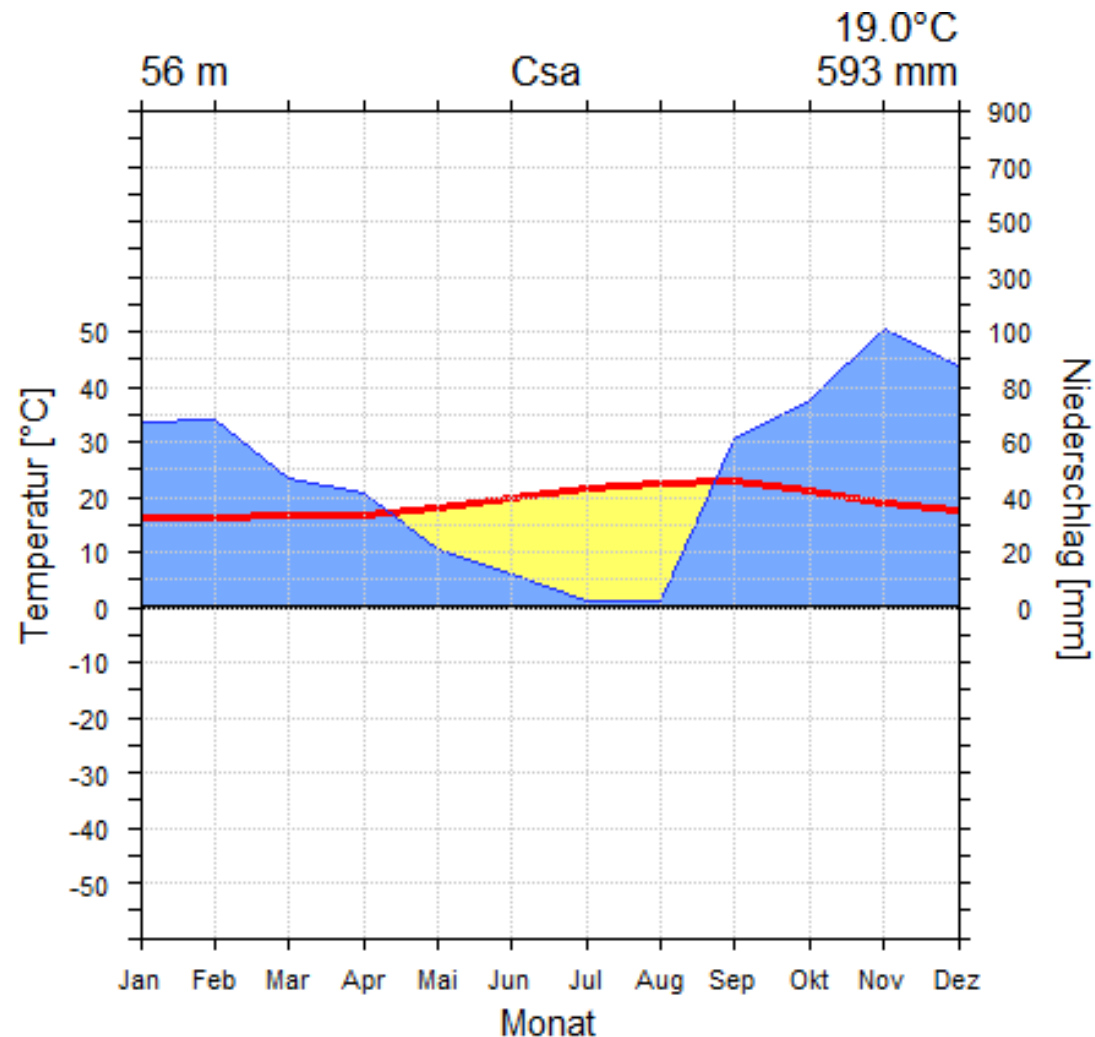
(За правильный ответ – 2 балла)



Вопрос 26: По данным климатограммы определите метеорологическую станцию.


Варианты ответа: А) Куба; Б) Мадейра; В) Ян-Майен; Г) Сахалин

(За правильный ответ – 2 балла)




Вопрос 27: Данный прибор используется для...

Варианты ответа: А) высокоточного определения длин линий; Б) приблизительного определения длин линий; В) определения площадей; Г) определения азимутов
(За правильный ответ – 1 балл)



Вопрос 28: Для каких целей устанавливают подобные гидротехнические сооружения?

Варианты ответа: А) защита от сгонно-нагонных явлений; Б) защита от цунами; В) контроль водного транспорта; Г) защита от пиратов
(За правильный ответ – 1 балл)



Вопрос 29: Какому острову посвящена данная почтовая марка?
Варианты ответа: А) Мадагаскар; Б) Сахалин; В) Куба; Г) Гаити
(За правильный ответ – 1 балл)



Вопрос 30: Более 10 000 м имеет глубину жёлоб...

Варианты ответа: А) Витязя; Б) Муссау; В) Кермадек; Г) Яп

(За правильный ответ – 2 балла)

